

الدراسات الاجتماعية


الكويت والوطن العربي

للسف السابع



وزارة التربية

kuwait.net
منتديات باكوييت



الوطن العربي
الوطن العربي
الوطن العربي
الوطن العربي
الوطن العربي



المرحلة المتوسطة

الصف الأول



الدراسات الاجتماعية
الكويت
والوطن العربي
للسف السابع



تأليف

أ. رضا أبو حسين

أ. شيخة التركيت

أ. عادل الشراح

أ. صالح دشيتي

الطبعة الأولى

١٤٣٢ - ١٤٣٣ هـ

٢٠١١ / ٢٠١٢ م

حقوق الطبع والتأليف والنشر محفوظة لوزارة التربية - قطاع البحوث التربوية والمنهج
إدارة تطوير المنهج

الطبعة الأولى

١٤٣٢ - ١٤٣٣ هـ

٢٠١١ / ٢٠١٢ م





صاحب السمو الشيخ صباح الأحمد الجابر الصباح
أمير دولة الكويت



سَمَوُ الشَّيْخِ نَوَافِ بْنِ فَهْدِ بْنِ عَبْدِ الرَّحْمَنِ بْنِ الصَّبِيحِ
وَلِيِّ عَهْدِ دَوْلَةِ الْكُوَيْتِ



الوحدة الأولى: الوطن العربي مقومات وملامح جغرافية:

أولاً- الوطن العربي مقومات وملامح جغرافية

١ - نظرة عامة إلى الوطن العربي بالنسبة للعالم

أ - التعريف بالوطن العربي

ب - دول الوطن العربي

ج - هوية الوطن العربي

٢ - موقع الوطن العربي وحدوده

أ - الموقع الفلكي للوطن العربي

ب - الموقع النسبي للوطن العربي

٣ - أهمية موقع الوطن العربي

أ - الأهمية الجغرافية للوطن العربي

ب - الأهمية الاقتصادية

ج - الأهمية الحضارية والثقافية

ثانياً- ملامح السطح في الوطن العربي:

• مظاهر السطح

١ - الجبال والهضاب

٢ - السهول في الوطن العربي

ثالثاً- المناخ في الوطن العربي:

١- ما المقصود بالمناخ؟ وما الفرق بين الطقس والمناخ؟

ب- العوامل التي تؤثر في مناخ الوطن العربي

١ - الموقع بالنسبة لدوائر العرض

٢ - القرب أو البعد عن المسطحات المائية

٣ - التضاريس

٤ - الرياح

رابعاً - الثبات الطبيعي في الوطن العربي:

خامساً - الثروة المائية في الوطن العربي:

أ - مياه الأنهار

ب - الأمطار

ج - المياه الجوفية الطبيعية (الآبار العميقة)

د - مياه البحار



الصفحة

| | |
|-----|--|
| ٤٩ | الوحدة الثانية: الوطن العربي مهد الحضارات والديانات السماوية، |
| ٥١ | أولاً، الأهمية الحضارية للوطن العربي. |
| ٥٤ | ثانياً: نماذج من الحضارات القديمة في الوطن العربي |
| ٥٤ | ١ - الحضارة المصرية القديمة. |
| ٥٨ | ٢ - حضارة بلاد الرافدين. |
| ٦٢ | ٣ - حضارات شبه الجزيرة العربية. |
| ٦٣ | أ - حضارة بلاد اليمن. |
| ٦٦ | ب - حضارة دلمون (البحرين). |
| ٦٨ | ثالثاً، الوطن العربي مهد الديانات السماوية الثلاث. |
| ٦٩ | رابعاً، الحضارة العربية الإسلامية. |
| ٧١ | الوحدة الثالثة، الوطن العربي ملامح بشرية واقتصادية، |
| ٧٣ | أ - نمو السكان وتوزيعهم في الوطن العربي. |
| ٧٣ | ١ - توزيع السكان في الوطن العربي. |
| ٧٥ | ٢ - الكثافة السكانية في الوطن العربي. |
| ٧٩ | ٣ - النمو السكاني في الوطن العربي. |
| ٨١ | ب - الموارد الاقتصادية في الوطن العربي. |
| ٨٢ | أولاً، إنتاج الغذاء. |
| ٨٢ | ١ - الإنتاج الزراعي. |
| ٨٥ | ٢ - الحبوب الغذائية. |
| ٨٥ | ٣ - الغلات الصناعية والتجارية. |
| ٨٦ | ٤ - الفواكه والأشجار المثمرة. |
| ٩١ | ثانياً، الإنتاج الحيواني. |
| ٩١ | ١ - الثروة الرعوية. |
| ٩٣ | ٢ - تربية الدواجن والطيور. |
| ٩٣ | ٣ - الثروة المائية. |
| ٩٦ | ثالثاً، الطاقة والثروة المعدنية. |
| ٩٧ | ١ - النفط والغاز الطبيعي. |
| ١٠١ | ٢ - التعدين في الوطن العربي. |
| ١٠٤ | ٣ - المنظمات الاقتصادية الإقليمية. |



| | |
|-----|---|
| ١٠٤ | أ - منظمة الدول المصدرة للنفط (أوبك) . |
| ١٠٥ | ب - منظمة الأقطار العربية المصدرة للنفط (أوابك) . |
| ١٠٦ | رابعا: الإنتاج الصناعي |
| ١٠٨ | • أنواع الصناعة في الوطن العربي |
| ١٠٨ | ١ - الصناعات الاستخراجية . |
| ١٠٨ | ٢ - الصناعات التحويلية . |
| ١٠٩ | ٣ - الصناعات التجميعية . |
| ١١٠ | ٤ - الصناعات الحرفية . |
| ١١٠ | ٥ - الصناعات البتروكيماوية . |
| ١١١ | ٦ - الصناعات النسيجية . |
| ١١٣ | خامسا: النقل والتبادل التجاري . |
| ١١٣ | ١ - النقل . |
| ١١٧ | ٢ - التبادل التجاري . |

الوحدة الرابعة : الوطن العربي قضايا وتحديات،

| | |
|-----|--|
| ١١٩ | أولاً: المشكلات الأساسية في الوطن العربي . |
| ١٢١ | ١ - المشكلات المرتبطة بالزراعة . |
| ١٢٥ | ٢ - مشاكل استثمار المياه . |
| ١٣٠ | ٣ - التلوث البيئي . |
| ١٣٥ | ثانياً: نحو مستقبل عربي أفضل |
| ١٣٥ | ١ - التنمية في الوطن العربي سبيلنا لمستقبل أفضل . |
| ١٣٦ | أ - التنمية الاقتصادية . |
| ١٣٧ | ب - التنمية البشرية . |
| ١٣٨ | ج - التنمية المستدامة . |
| ١٣٩ | ٢ - التعاون والتضامن العربي لتحقيق التقدم والتنمية . |
| ١٣٩ | • دور الجامعة العربية في السعي نحو تحقيق التكامل بين الدول العربية . |
| ١٤٠ | • مؤسسات التعاون العربي المشترك . |
| ١٤٢ | • نموذج لتعاون عربي مشترك بين دول ذات انتماء جغرافي . |
| ١٤٣ | • دور دولة الكويت في العمل العربي المشترك . |
| ١٥١ | - الملاحق . |
| ١٥٦ | - المراجع . |



تقدم لأبنائنا الأعماء في الصف السابع، كتاب الدراسات الاجتماعية «الكويت والوطن العربي»، وفقاً لعملية التطوير التربوي، وهو كما يتضح من عنوانه يدور حول الوطن والهوية العربية والانتماء للأرض، وسنتوقف في صفحاته على وطننا العربي الكبير التي تشكل دولة الكويت جزءاً أساسياً منه، وسندرسه من حيث الموقع والمساحة والمناخ، ونتعرف على مكانته الاستراتيجية عالمياً، وتاريخياً وحضارياً، وثرواته الطبيعية والبشرية، وأهم المشاكل التي يعاني منها والجهود المبذولة لتحقيق التنمية الشاملة لإعادة المكانة العالمية التي حققتها في العصور السابقة عندما كانت الحضارة العربية الإسلامية تثير ظلام العالم.

وقد نظمنا محتوى الكتاب في صورة وحدات، نضم كل وحدة مجموعة من الدروس، وجاء عرض الوحدات منسجماً مع توجهات التطوير التربوي، حيث تم التركيز على مشاركة المتعلم في العملية التعليمية وتنمية مهارات التفكير والإبداع من خلال الأنشطة المتنوعة التي تنمي معارفهم ومهاراتهم واتجاهاتهم.

إننا نؤمن أن الكمال لله وحده، وإن هذا الكتاب ليس قادراً بمفرده على تحقيق التعلم الفعال، بل لا بد للمتعلمين والمعلمين من إثراء معلوماتهم ومعرفتهم ومهاراتهم بالقراءات والأنشطة والأحداث الجارية التي تساعدهم على تحقيق الأهداف المرجوة.

والله ولي التوفيق

المؤلفون

الوحدة الأولى

الوطن العربي مقومات
وملامح جغرافية



- أولاً: الوطن العربي مقومات وملامح جغرافية.
- ثانياً: ملامح السطح في الوطن العربي.
- ثالثاً: المناخ في الوطن العربي .
- رابعاً: النبات الطبيعي في الوطن العربي .
- خامساً: الثروة المائية في الوطن العربي.



الوحدة الأولى

أولاً: الوطن العربي مقومات وملامح جغرافية:

١ - نظرة عامة إلى الوطن العربي بالنسبة للعالم:

١ - التعريف بالوطن العربي:

يطلق مصطلح الوطن العربي على مساحة واسعة من الأرض تمتد ضمن قارتين من أكبر قارات العالم مساحة، ويشغل موقعا متميزاً من خريطة العالم حيث يربط قاراته الكبرى الثلاث.

لاحظ الخريطة شكل (١) وأجب عن الأسئلة التي تليها:



شكل (١) خريطة توضح موقع الوطن العربي على خريطة العالم

- في أي القارات يمتد وطننا العربي الكبير؟
- ما اسم القارة المجاورة لقارتي آسيا وأفريقيا؟
- ما موقع الوطن العربي بالنسبة إلى قارات العالم؟
- ما البحار التي تقصل قارة أفريقيا عن القارات المجاورة لها؟
- أين تتصل قارة أفريقيا بقارة آسيا؟



ب - دول الوطن العربي:

ادرس الخريطة السياسية للوطن العربي شكل (٢) ولاحظ ما يلي مع إكمال المطلوب:



شكل (٢) الخريطة السياسية للوطن العربي

١ - تتبع على الخريطة الدول العربية في قارة أفريقيا ورتبها من الغرب إلى الشرق ثم دونها في الفراغات التالية؟

جمهورية جزر القمر الاتحادية الإسلامية:

تقع جمهورية جزر القمر خارج نطاق موقع الوطن العربي، حيث تتكون من اتحاد ثلاث جزر مستقلة تقع شمال غرب جزيرة مدغشقر في المحيط الهندي وتمتد جزر القمر بين دائرتي عرض (١١-١٣) جنوباً. خط الاستواء عاصمتها موروني. وانضمت إلى الجامعة العربية في عام ١٩٩٣م.

.....

.....

.....

٢ - كم عدد الدول العربية في الجناح الإفريقي؟

.....

٣ - الآن راجع الخريطة (٢) وتعرف على أسماء

الدول العربية في قارة آسيا.



- عدد أسماء هذه الدول وفق البيانات في الجدول التالي:

| الدول التي تقع على ساحل البحر المتوسط | دول شبه الجزيرة العربية | أسماء دول أخرى (إن وجدت) |
|---------------------------------------|-------------------------|----------------------------|
| | | |

• اكمل الفراغات التالية:

- الجناح الشرقي من الوطن العربي يكاد ينفصل عن الجناح الغربي من الوطن العربي عن طريق البحر المسمى.....
- أكبر دولة عربية في الجناح الآسيوي تسمى..... وأكبر دولة عربية في الجناح الإفريقي دولة تسمى.....

بعد دراستك للخريطة السياسية للوطن العربي وبالاستعانة بالأطلس المدرسي، يمكنك أن تخرج بالحقائق التالية:

- يضم الوطن العربي ٢٢ دولة عربية تتوزع بين قارتي آسيا وأفريقيا.
- مساحات الجانب الأفريقي أكبر من مساحات الجانب الآسيوي.
- تعتبر مساحة الوطن العربي أكبر من قارة أوروبا والولايات المتحدة الأمريكية ويشغل نحو ١٠٪ من جملة مساحة العالم والتي تبلغ حوالي ١٤ مليون كم^٢.



ج - هوية الوطن العربي:

- مما سبق يتبين لنا أن الوطن العربي يقع في مكان متوسط بين قارات ثلاث هي:

(آسيا - أفريقيا - أوروبا):

- فعند النظر إلى خريطة شكل (٢) يمكنك أن تعرف أن وطنك العربي يمتد من المحيط الأطلسي غربا إلى بحر العرب والخليج العربي شرقا، ومن ٢ جنوب خط الاستواء إلى البحر المتوسط شمالا، ويبلغ عدد سكانه حوالي ٢١٨,٣٢١ مليون عربي، حسب تعداد عام ٢٠٠٦.

وفي هذا الامتداد العظيم تعيش مجموعة من الدول التي تتكلم لغة واحدة هي اللغة العربية وهي لغة القرآن الكريم والتي ساهمت في امتزاج (اختلاط) هذه الدول ثقافيا وحضاريا وتاريخيا أي ذات هوية واحدة، وكونت من شعوب هذه المنطقة وطنا قوميا كبيرا له تراثه وعاداته وتقاليده وقيمه، وترتبط بين أبنائه وحدة الدين واللغة والتراث والأهداف المشتركة، وهذه الهوية التي أجمعت دول الوطن العربي على امتداده الجغرافي.

مما سبق استخلص أبرز مقومات الهوية العربية:





٢ - موقع الوطن العربي وحدوده:

- يتمتع الوطن العربي بموقع استراتيجي مهم * تجددت أهميته على مر العصور .
 • ما الصفات الأساسية التي يتميز بها هذا الموقع؟

• لاحظ شكل (٢) وتعرف على الخصائص التالية:



شكل (٢) خريطة توضح الموقع الاستراتيجي وأستداد الوطن العربي

والآن أكمل الفراغات التالية:

- (١) يمتد القسم الأكبر من الوطن العربي شمال قارة وقسم منه في الجنوب الغربي من قارة
- (٢) يطل الوطن العربي بمساحته الواسعة على ثلاثة مسطحات مائية * ذات أهمية بالغة للملاحة العالمية، تتمثل في وتتصل بدورها بمحيطين من أهم المحيطات التي تمر بها التجارة العالمية هما المحيط..... والمحيط.....
- (٣) كما يطل الوطن العربي على ثلاث مضائق بحرية وممر مائي ذات أهمية كبرى عددها؟
 أ - ب - ج - د -

القناة: مجرى مائي صناعي ضيق يشق لأغراض الري أو النقل.
 المضيق: ممر مائي ضيق يصل بين بحرين أو محيطين أو أي مساحتين كبيرتين نسبياً من الماء.

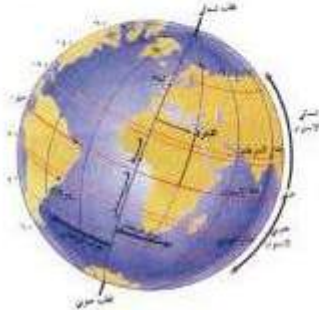
* يقصد بالموقع الاستراتيجي للوطن العربي، أي موقع ذات مكانة مهمة بين دول العالم.
 * المتصلبات: أشرفه جميع أشكال المياه على سطح الأرض: مثل البحار، المحيطان، الخليج، الممرات، بحيرة، نهر، إلخ.
 - أما المياه الجوفية، هي المياه التي توجد في باطن الأرض.



أ - الموقع الفلكي للوطن العربي

الموقع الفلكي هو نقطة من الكرة الأرضية يتحدد موقعها بخطوط الطول ودوائر العرض.

• ما المقصود بخطوط الطول ودوائر العرض؟



شكل (٤) خطوط الطول ودوائر العرض

رسم العلماء خطوطاً وهمية طولية وعرضية على مجسم الكرة الأرضية والخرائط، وتُعرف هذه الخطوط باسم «خطوط الطول ودوائر العرض».

خطوط الطول: هي عبارة عن خطوط وهمية تُرسم على الكرة الأرضية. تفصل أو تقسم الكرة الأرضية إلى قسمين شرقي وغربي ويعتبر خط جرينتش الخط الفاصل بين القسمين (الشرقي والغربي) ورقمه صفر ويبلغ عددها إلى ٣٦٠.

أما دوائر العرض: عبارة عن خطوط وهمية تُرسم حول الكرة الأرضية وتقسّمها إلى قسمين شمالي وجنوبي والخط الفاصل بين القسمين يُعرف بخط الاستواء ورقمه صفر ويبلغ عدد دوائر العرض ١٨٠.

• أهمية خطوط الطول ودوائر العرض:

خطوط الطول: يمكن بواسطتها معرفة التوقيت الزمني في مختلف جهات العالم.

دوائر العرض: يمكن بواسطتها معرفة أحوال مناخ العالم.

لاحظ الشكل رقم (٤) وأجب عما يلي:

- ما اسم الدائرة العرضية الرئيسية التي تقسم الكرة الأرضية إلى قسمين متساويين شمالي وجنوبي؟

١- ما اسم خط الطول الرئيسي الوهمي الذي يقسم الكرة الأرضية طولياً؟

٢- كم يبلغ رقمه؟

٣- ما عدد خطوط الطول التي تقع شرق هذا الخط؟



ب - الموقع النسبي للوطن العربي

- الموقع النسبي هو: موقع الدول بالنسبة لليابس والماء .

- انظر إلى الخريطة شكل (٥) ثم استنتج ما يلي:



شكل (٥) خريطة سياسية للوطن العربي

● إن للوطن العربي حدوداً بحرية وبرية، فيحده من الشمال البحر المتوسط وتركيا، ومن الشرق تحده إيران والخليج العربي، ومن الغرب المحيط الأطلسي، أما من الجنوب فللوطن العربي حدوداً بحرية وبرية طويلة مع عدة دول إفريقية، اذكرها؟

.....

بالاستعانة بخريطة الوطن العربي شكل (٥) أجب ما يلي:

١- حدد موقع الوطن العربي بالنسبة لقارتي آسيا وإفريقيا؟.....

٢- حدد موقع بلادك الكويت على الخريطة، هي أي موقع تقع؟.....

٣- أين تقع المملكة المغربية بالنسبة لقارة أوروبا؟.....



٣- أهمية موقع الوطن العربي

١) الأهمية الجغرافية للوطن العربي:

- يتحكم موقع الوطن العربي في منافذ التجارة العالمية - عددها
- يتميز الوطن العربي بموقع استراتيجي مهم أكسبه مكانة مهمة بين دول العالم في أوقات السلم والحرب، حيث يشغل مكانا وسطا بين قارات العالم الثلاث، كما سبق القول، ويطل بمساحته الواسعة على ثلاثة مسطحات مائية ذات أهمية بالغة للملاحة والتجارة العالمية.
- ونظرا لأهمية موقع الوطن العربي الاستراتيجي تنافست الدول الاستعمارية في الاستيلاء عليه منذ القرن (١٨م) وتقسيمه إلى عدة دول.
- قاومت هذه الدول الاستعمار وحصلت على استقلالها - ماعدا فلسطين التي حصلت بعض أجزائها على الحكم الذاتي ومازالت المشكلة قائمة حتى الآن.

٢) الأهمية الاقتصادية:

- يتمتع الوطن العربي بأهمية اقتصادية كبيرة منذ القدم كمنطقة عبور لحركة الملاحة والتجارة العالمية، وهو الجسر الذي يربط قارات العالم الثلاث (أفريقيا - آسيا - أوروبا) بمواردها الهائلة وال ضخمة وسكانها الذين يشكلون سكان العالم.
- كما أدى ظهور النفط وكميات كبيرة بمنطقة الخليج العربي وشبه الجزيرة العربية وبعض مناطق شمال أفريقيا إلى تزايد هذه الأهمية.
- وستعرف بشكل تفصيلي على الأهمية الاقتصادية للوطن العربي في الدروس القادمة.

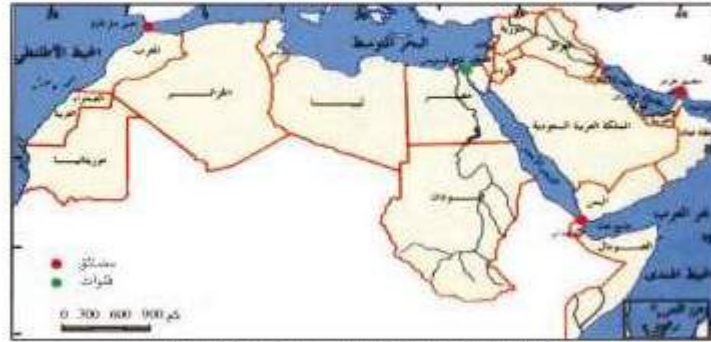
٣) الأهمية الحضارية والثقافية:

- قامت على أراض الوطن العربي حضارات عديدة، وهبطت على أرضه الديانات السماوية الثلاثة (يهودية - مسيحية - إسلامية) التي انتشرت إلى باقي العالم.



أنشطة وتدريبات

- على خريطة الوطن العربي شكل (٦) أجب عما يلي:



شكل (٦) خريطة توضح الوطن العربي سياسة والمناطق والقبائل

- أين تقترب قارة أفريقيا من قارة أوربا؟
- ظلل الدول العربية التي تقع في الجناح الآسيوي وبلون آخر ظلل الدول العربية التي تقع في الجناح الأفريقي.
- إذا فكرت في القيام برحلة برية من بلدك الكويت إلى الجزائر ما هي الدول العربية التي سوف تمر منها:

| الدولة | اسم الجناح (الآسيوي- الأفريقي) |
|--------|----------------------------------|
| | |
| | |
| | |
| | |

- إذا كنت في جمهورية مصر العربية وأردت السفر إلى المملكة العربية السعودية لأداء مناسك الحج برا فما اسم المسطح المائي الذي سوف تمر عليه؟
- بعد أن تعرّفت على أسماء الدول العربية في الجناحين الأفريقي والآسيوي هل تستطيع أن تعدد من الذاكرة أسماء ست دول عربية تنتهي بحرف النون؟

| | | | | | |
|--|--|--|--|--|--|
| | | | | | |
|--|--|--|--|--|--|



• يتكون الوطن العربي من () دولة عربية موزعة على كل من الجناح الآسيوي () دولة والجنح الإفريقي () دولة.
 مثال: - اجمع الأرقام التي تحتوي على أحرف اسم دولة الكويت ثم استنتج عدد الدول العربية:

| | | |
|--------|-------------------|---------|
| ك ٤ | عدد الدول العربية | م ٢١ |
| ح ٩ | الجواب | ي ٥ |
| ت ٦ | ف ١١ | و ٧ |
| | ع ٣ | |

• اذكر الدول العربية الإفريقية المطلة على المحيط الأطلسي؟
 • ما أهمية موقع الوطن العربي؟ يكتفي بذكر اثنان فقط.

• صنف المسطحات المائية من خلال خريطة (شكل ٦) حسب الجدول التالي:

| بحار | خلجان | محيطات |
|------|-------|--------|
| | | |

• أكمل الفراغات التالية:

- توضح الخريطة شكل (٦) أن الوطن العربي يُشرف على عدة مضائق وممرات مائية مهمة منها مضيق باب المندب الذي يقع بين البحر وخليج
- قناة السويس التي تعد شريان الملاحة العالمي الرئيسي وتتحكم في طريق الملاحة العالمية ما بين بحرين وتُشرف على هذه القناة دولة تسمى
- المنطح المائي الذي يحد الوطن العربي من الغرب يسمى
- الدولة العربية التي تتكون من مجموعة جزر تسمى



ثانياً: ملامح السطح في الوطن العربي

● مظاهر السطح:

سبق وأن درست خريطة دولة الكويت ومنطقة الخليج، وتعرّفت على مظاهر السطح، وأصبحت قادراً الآن على أن تقرّأ خريطة سطح الوطن العربي وأن تميز بين الظواهر الطبيعية التالية:

● لاحظ الصور التالية شكل (٧) ثم أجب عن المطلوب:



شكل توضيحي للمهذبة



شكل توضيحي للجبال



شكل توضيحي للسهل



شكل توضيحي للتلال

شكل (٧) الظواهر التضاريسية في الوطن العربي

من خلال الصور السابقة:

- ميّز بين أهم الظواهر التضاريسية الطبيعية التالية من حيث الصفات:

- الجبال:.....
- الهضاب:.....
- السهول:.....

- بعد أن تعرّفت على الصور شكل (٧) فسر مفهوم التضاريس؟

.....



١- الجبال والهضاب

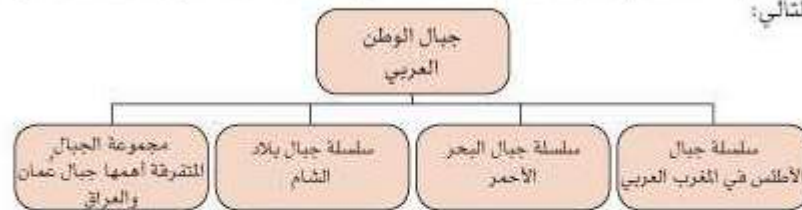
انظر إلى الشكل رقم (٨) وبالإستعانة بالأطلس المدرسي تعرّف على أهم الجبال والهضاب في الوطن العربي:



شكل (٨) خريطة توضح الوطن العربي التضاريسية

١- الجبال

تُقسّم الجبال* في الوطن العربي إلى عدة أنواع ويمكن توضيحها في المخطط السهمي التالي:



بالرجوع إلى الخريطة شكل (٨):

١- ماذا يمثل اللون البنّي على الخريطة؟.....

٢- أذكر أسماء الجبال الواردة في الخريطة؟.....

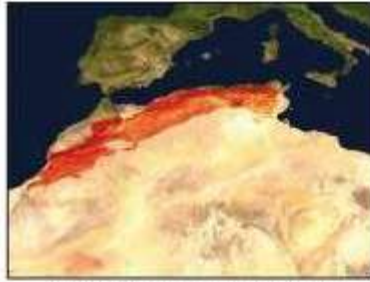
* الجبل هو كل ما ارتفع من الأرض له قمة لا يقل ارتفاعها عن ١٠٠٠ متر. أما إذا قلّ الارتفاع عن ذلك يسمى تل، وجميعها تلال. انظر شكل (٧)



٢- يقع الجبل الأخضر في دولتين عربيتين اذكرهما:

- أكمل الفراغات بالجدول التالي مستعينا في الخريطة شكل (٨):

| جبال الوطن العربي في الجناح الأفريقي | جبال الوطن العربي في الجناح الآسيوي |
|--|---|
| ١- جبال أطلس في و..... | ١- جبال البحر الأحمر تقع في..... و..... |
| ٢- جبال البحر الأحمر الغربية في..... و..... | ٢- جبال بلاد الشام وتقع في..... و..... |
| ٣- جبال الأحجار في..... | ٣- جبال..... هي العراق. |
| ٤- جبال تبستي في..... | ٤- جبل..... هي عمان. |
| ٥- جبال مرة في..... | |



شكل (١٠) صورة من الفضاء توضح جبال الأطلس
معللة بالأحمر



شكل (٩) جبل الشيخ في مرتفعات الشام



شكل (١٢) صورة توضح أعلى قمة عربية
(توبقال) في جبال الأطلس.



شكل (١١) الجبل الأخضر في عُمان

ب - الهضاب

تعد الهضاب * أكثر الأشكال التضاريسية انتشاراً في الوطن العربي، إذ تشغل مساحات واسعة تمتد من أقصى الشرق إلى أقصى الغرب فهي تغطي بذلك معظم أرجاء الوطن العربي وتنتسم هضاب الوطن العربي كالآتي:



استعن بالخريطة شكل (٨) وتعرف على أسماء أهم الهضاب في الوطن العربي:

| أهم هضاب الوطن العربي في الجناح الآسيوي | أهم هضاب الوطن العربي في الجناح الأفريقي |
|--|---|
| ١ - هضبة نجد تقع في..... | ١ - هضبة أفريقية الشمالية. |
| ٢ - هضبة بادية الشام تقع في..... و.....والعراق. | ٢ - هضبة.....التي تقع في الجزائر بين جبال أطلس التل وأطلس الصحراء. |



شكل (١٣) صورة جغرافية تبين مساحة وموقع الصحراء الكبرى

* الهضبة: أرض مرتفعة سطحها مستوي، وتمتد على مساحة كبيرة، انظر شكل (٧)



٢ - السهول في الوطن العربي

تتنوع السهول * وتتوزع في مختلف أنحاء الوطن العربي، ويمكن أن نُميّز بشكل عام بين نوعين رئيسيين من السهول هما:

السهول الفيضية (النهرية):
هي الأراضي المنخفضة التي تكونت من التربة التي حملتها مياه الأنهار.
السهول الساحلية:
هي الأراضي المنبسطة التي تجاور سواحل البحار والمحيطات.

١- السهول الفيضية (النهرية):

٢- السهول الساحلية:



شكل (١٦) خريطة توضح السهول الساحلية في الوطن العربي شكل (١٥) خريطة توضح السهول النهرية في الوطن العربي

- ما أهم السهول الساحلية في الوطن العربي؟.....
- ما أهم السهول الفيضية (النهرية) في الوطن العربي؟.....
- ما الخصائص المميزة لهذه السهول؟ (ناقش مع معلمك).....
- وبعد أن تعرّفت على السهول الساحلية والنهرية أكمل المطلوب في الجدول التالي:

| سهول الوطن العربي في الجناح الأفريقي | سهول الوطن العربي في الجناح الآسيوي |
|--------------------------------------|-------------------------------------|
| السهول الساحلية: | السهول الساحلية: |
| | |
| السهول النهرية (الفيضية): | السهول النهرية (الفيضية): |
| | |

* السهول: مساحة كبيرة من سطح الأرض تتميز باستوائها وقلّة ارتفاعها . ومفردها : سهل . انظر شكل (٧)



أنشطة وتدريبات

١) اكمل الفراغات التالية:

- أ) من أشكال التضاريس في الوطن العربي جبال و.....
 ب) أكبر هضبة عربية تقع في الجناح الأفريقي تسمى.....
 ج) من الجبال في الوطن العربي الجبل في عمان وجبال في الجزائر وجبال في المملكة العربية السعودية.

٢- اكتب اسم الدولة أمام الظاهرة التضاريسية في الجدول التالي:

| الدولة | الظاهرة التضاريسية |
|--------|--------------------|
| | سهل دجلة والفرات |
| | جبل تيستي |
| | نهر النيل |

٣- علل لما يأتي:

- أ - تعتبر تربة السهول الفيضية من أكثر أنواع التربة الخصبة.
 ب - تركز السكان في مناطق السهول الفيضية في الوطن العربي.

٤- أجب عن السؤال التالي:

- أ - ما الفرق بين السهول الساحلية والسهول الفيضية مع ذكر أمثلة عنها في الوطن العربي؟

| اسم السهول | التعريف | أمثلة عن السهول في الوطن العربي |
|-----------------|---------|---------------------------------|
| السهول الساحلية | | |
| السهول الفيضية | | |

نشاط لاصفي

- راجع في أطلسك بعض المنخفضات، والواحات، والأودية والجبال والهضاب التي تقع في الدول العربية.



ثالثاً: المناخ في الوطن العربي

١- ما المقصود بالمناخ؟ وما الفرق بين الطقس والمناخ؟

إذا قلنا أن الجو اليوم حار نهاراً ومعتدل ليلاً، وإن اتجاه الرياح جنوبية غربية أو شمالية شرقية، فإننا نتحدث عن الطقس خلال هذا اليوم.

أما إذا تكلمنا عن حالة الجو خلال فصل الصيف أو الشتاء فإننا نتحدث عن المناخ فنقول إن المناخ في دولة الكويت حار جاف صيفاً، وبين معتدل وبارد شتاءً.

اقرأ نشرة الأحوال الجوية الآتية كما تذاغ خلال أجهزة التلفاز والمذياع وفقاً للحالة الجوية (المتوقعة ليوم محدد) ثم أجب عن الأسئلة التي تليها:

حالة الطقس خلال الأربعة والعشرين ساعة القادمة في دولة الكويت:

الطقس ليوم غد غائم نسبياً، حيث تتكاثر الغيوم، وتسقط الأمطار على أنحاء البلاد مع انخفاض ملحوظ في درجات الحرارة.
الرياح جنوبية غربية نشطة السرعة، والبحر عالي الموج، درجات الحرارة العظمى المتوقعة ليوم غداً ٢٨° والصغرى ١٨° درجة.

- ما الكلمات والتعابير المستخدمة لوصف الطقس كما ورد في النشرة؟

..... و

..... و

- ماذا نستنتج من النشرة السابقة؟ هل حالة الطقس واحدة خلال اليوم الواحد؟ (اشرح)

.....

.....

- ماذا تعني بالطقس؟

.....

- ما الفرق بين الطقس والمناخ؟

.....

.....

.....

.....

.....

.....

.....

.....

.....

.....

.....

.....

.....

.....

.....

.....

.....

.....

.....

.....

.....

.....

.....

.....

.....

.....

.....

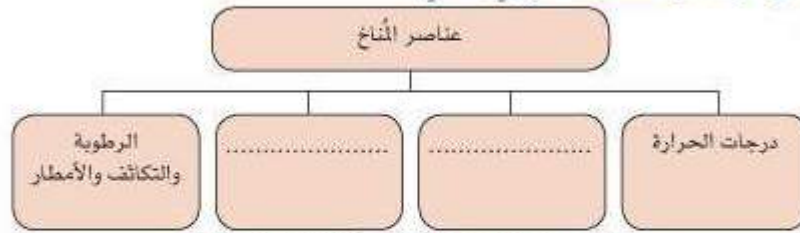
.....

استعن بالمعلومات التالية:
الطقس: هو حالة الجو في مكان ما لمدة قصيرة تتراوح بين يوم أو عدة أيام من حيث درجة الحرارة والرطوبة والأمطار والضغط الجوي.
المناخ: هو حالة الجو خلال فترة زمنية طويلة من حيث درجة الحرارة والرطوبة والأمطار والرياح والضغط الجوي.

* الضغط الجوي هو: وزن الهواء فوق أي مكان.



- والآن أكمل المخطط السهمي التالي:



ب - العوامل التي تؤثر في مناخ الوطن العربي

- ١- الموقع بالنسبة لدوائر العرض:
يؤثر القرب أو البعد عن خط الاستواء في مناخ الإقليم * (المكان)، فالأماكن القريبة من خط الاستواء تتميز بارتفاع في درجة حرارتها على مدار أيام السنة (علل).
- ٢- القرب أو البعد عن المسطحات المائية:
يؤثر القرب أو البعد عن المسطحات المائية في المناخ، فالمدن الساحلية أكثر اعتدالاً في المناخ صيفاً وادفئ نسبياً شتاءً لأن البحر يلطّف من درجة حرارتها.
- ٣- التضاريس:
تؤثر التضاريس في المناخ بصورة مباشرة من ناحية درجة الحرارة وتوزيع كمية الأمطار فعلى سبيل المثال: ترتفع درجة الحرارة في بعض المدن مثل الرياض والقاهرة بينما تنخفض درجة الحرارة في نفس الفصل في المناطق المرتفعة مثل جبال سوريا ولبنان والمطائف في السعودية.
- ٤- الرياح:
تؤثر الرياح في مناخ دول الوطن العربي من ناحية ارتفاع وانخفاض درجة الحرارة وكمية الأمطار ونسبة الرطوبة.
فعلى سبيل المثال إذا كان هبوب الرياح يأتي من منطقة باردة سوف تنخفض درجة الحرارة وإذا كان هبوب الرياح يأتي من منطقة حارة سوف ترتفع درجة الحرارة.

* الإقليم: يعني منطقة أو مكان. مثل عندما نقول إقليم صناعي يعني منطقة صناعية أو إقليم صحراوي أي منطقة صحراوية.



كذلك إذا مرّت الرياح على بحار محملة ببخار الماء قد يسبب سقوط الأمطار أو ارتفاع نسبة الرطوبة وإذا كانت تهب من منطقة جافة فإنها لا تسقط مطراً (علل).

والآن تستطيع عزيزي المتعلم التعرف بين الرياح الشمالية الغربية ورياح الكوس في دولة الكويت.

انظر إلى خرائط الوطن العربي في الشكلين ١٦ ، ١٧ لتعرف اتجاهات حركة الرياح الصيفية والشتوية:

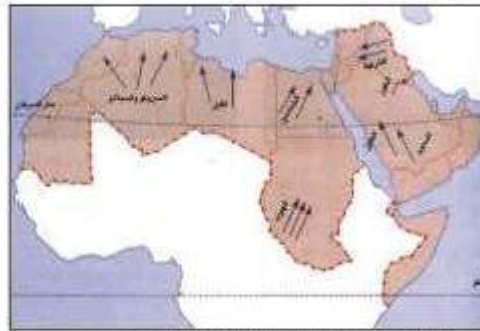


شكل (١٦) خريطة توضح الرياح الصيفية في الوطن العربي شكل (١٧) خريطة توضح الرياح الشتوية في الوطن العربي

• ما أسماء الرياح التي تهب على الوطن العربي؟

للإجابة على هذا السؤال لاحظ خريطة الرياح المحلية شكل (١٨) ثم أكمل الجدول التالي:

| النبوة | اسم الرياح المحلية |
|--------|--------------------|
| | |
| | |
| | |
| | |



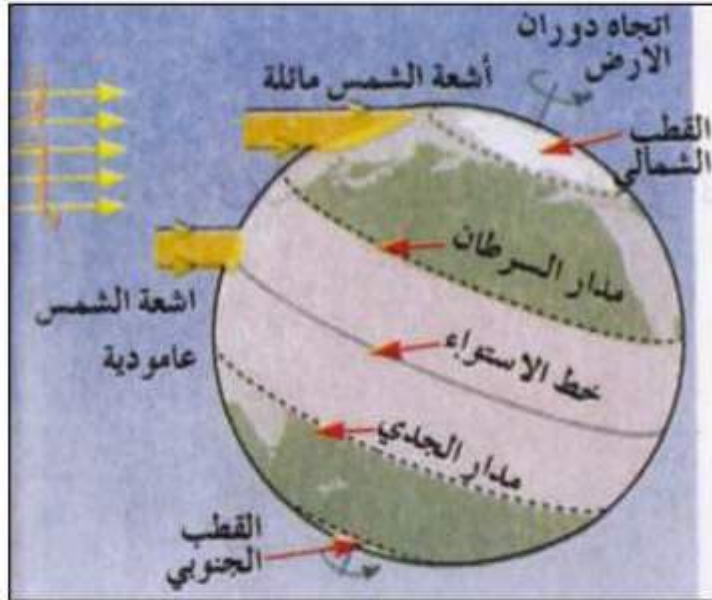
شكل (١٨) خريطة توضح الرياح المحلية في الوطن العربي



لا تتسنى المناخ في الوطن العربي:

في فصل الصيف: تكون الشمس عامودية على المنطقة الواقعة بين خط الاستواء ومدار السرطان (انظر شكل ١٩) وترتفع الحرارة أكثر في وسط الوطن العربي (صحراء) وتكون معتدلة على سواحل البحر المتوسط وشمال الوطن العربي.

في فصل الشتاء: تكون الشمس عامودية على المنطقة الواقعة على خط الاستواء ومدار الجدي، وترتفع الحرارة في جنوب الوطن العربي وتقل كلما اتجهنا شمالاً.



شكل (١٩) أشعة الشمس ومناخ الوطن العربي



أنشطة وتدريبات

١- أكمل الفراغات التالية:

١- وصف حالة الجو في مكان ما لمدة قصيرة تتراوح بين يوم أو عدة أيام يسمى.....

٢- من عناصر المناخ: درجة الحرارة والرياح والضغط الجوي وعنصر آخر يسمى.....

ب- أجب عن الأسئلة التالية:

١- هل للمسطحات المائية تأثير في المناخ؟ دلل على إجابتك.

.....

٢- اذكر أهم العوامل التي تؤثر في مناخ الوطن العربي؟

.....

.....

٢- أهم الرياح المحلية التي تهب على الوطن العربي هي:



٤- هل تعيش في منطقة منخفضة أم مرتفعة؟ صف درجة الحرارة والأمطار في بلدك

الكويت؟

.....

.....

٥- اذكر سببين يؤثران في تنوع المناخ في الوطن العربي؟

.....

.....



رابعاً: النبات الطبيعي في الوطن العربي

بعد دراستك للأحوال المناخية في الوطن العربي تكون قد عرفت أن الحالة النباتية تختلف باختلاف كمية الأمطار ودرجة الحرارة، وتستطيع الآن أن تجيب عن الآتي:

- ما العوامل الرئيسية المؤثرة على توزيع النبات الطبيعي في الوطن العربي؟

العوامل الرئيسية المؤثرة في توزيع

النبات الطبيعي في الوطن العربي:

١ - نوع التربة: التربة هي التي تمد

النبات بالغذاء وهي متنوعة.

٢ - المناخ: يؤثر في تنوع النبات نتيجة

لاختلاف درجات الحرارة واختلاف

كمية الأمطار ومواسمها.

- ماذا نقصد بالنبات الطبيعي؟ اقرأ المعلومات
المجاورة.

- ما أنواع النباتات الطبيعية التي تنمو في أنحاء الوطن
العربي؟

- ما أثر تعدد المناخات وأشكال التضاريس في نباتات
الوطن العربي؟

النبات الطبيعي:

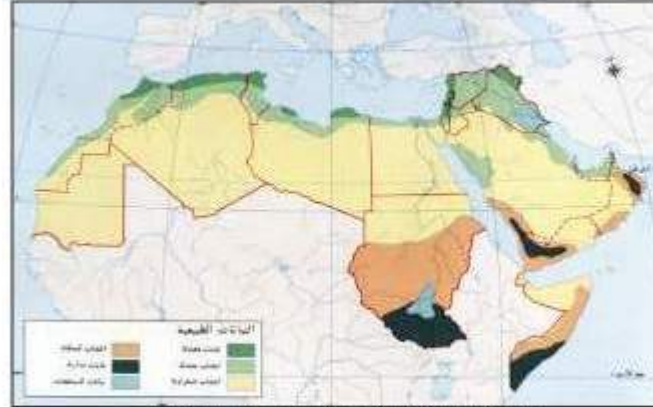
هو ذلك النبات الذي ينمو تلقائياً

لسقوط الأمطار دون أن يتدخل

الإنسان في نموه.

حاول أن تستنتج الإجابات من خريطة شكل (٢٠)

التالي:



شكل (٢٠) خريطة توضح توزيع النبات الطبيعي في الوطن العربي.



الحياة النباتية في الوطن العربي



أنواع النبات الطبيعي في الوطن العربي:

١ - الغابات المدارية (الحارة):

تنمو في أقصى جنوب وجنوب غرب السودان وأقصى جنوب الصومال. وتنمو في المناطق ذات الأمطار الموسمية الصيفية من جنوب غرب شبه الجزيرة العربية ومرتفعات عُمان، أنظر إلى خريطة شكل (٢٠).



شكل (٢١) بهتل غابات مدارية

تمتاز أشجارها بضخامة جذوعها وارتفاعها الكبير ومشابكة الأغصان وأوراقها العريضة، ومن أهم أشجارها: الساج والمهاوجني والتاك والأبنوس وهي مورد مهم لصناعة الأخشاب وكذلك أشجار الأثل والسندل والسدر والتمر الهندي والمرو العرفج والجوز والتوت والبشم وتستخدم أخشابها في البناء وصناعة الأثاث.



شكل (٢٢) الأرز - الزيتون

٢ - الغابات المعتدلة:

تنمو في الأجزاء الشمالية والشمالية الغربية من بلاد المغرب العربي (جبال الأطلس) والجزء الغربي من جبال بلاد الشام ومرتفعات شمال وشرق العراق. وتتسم هذه الغابات بعدم كثافتها و بعضها يكون دائم الخضرة والبعض يتساقط في فصل الشتاء. أهم أشجارها الأرز والعرعر والصنوبر الحلبي والفلين الذي يؤخذ من لحاء أشجار



البلوط والستديان في بلاد المغرب كما تنمو أشجار الزيتون والتفاح والحمضيات والقواكه الأخرى البهية. (انظر إلى شكل ٢٢).

٣- **الحشائش الحارة (السافانا):** وهي حشائش طويلة تربي عليها الماشية، وتنتشر في جنوب ووسط السودان والصومال وجيبوتي وأجزاء من موريتانيا واليمن ويختلف نوع الحشائش السافانا حسب كميات الأمطار.

٤- **حشائش (الاستيس):** وهي أعشاب قصيرة نوعا ما ويربى عليها الأغنام والماعز والخيول والإبل والحمير.

وتُعرف في بلاد المغرب باسم حشائش الحلفا الذي تصدره إلى الخارج لصناعة الورق والحبال والحصر وغيرها.

وتنتشر في المغرب والجزائر وتونس وليبيا بالإضافة إلى نموها في مناطق واسعة من سوريا وشمال العراق ولبنان وفلسطين المحتلة ومرتفعات عُمان وبعض أجزاء اليمن. وتنمو هذه الحشائش شتاء خلال موسم سقوط الأمطار.

٥- **نباتات صحراوية (الأعشاب الصحراوية):**

وتنتشر في الصحراء الكبرى (شمال قارة أفريقيا) وصحراء الصومال، وفي قارة آسيا شبه الجزيرة العربية وبادية الشام.

الخصائص النباتية: يقاوم النبات في هذه المناطق الجفاف بعدة وسائل منها:

أ- أن تكون ذات جذور طويلة تصل إلى أعماق التربة حيث المياه الباطنية وأشهرها النخيل.

ب- أن تكون لها قدرة على تخزين المياه في بعض أجزائها، وذلك لوقت الحاجة ومن أمثلتها الثين الشوكي.

ج- قسم منها يختزن المياه في سيقانه وجذوره كالصبار مثلاً. (شكل ٢٢)

د- بعضها يحمي نفسه بلحاء سميك وأوراق آبرية أو شمعية.



وأهم الحيوانات السائدة في هذه المنطقة: الإبل - الماعز - والضب - والأرانب وأنواع من الطيور كالصقور والبوم والحباري وأنواع من الحشرات كالجراد والعقارب والخنفساء كما تكثر الزواحف كالأفاعي والحيوانات القارضة كالنمرات والجربوع.



شكل (٣٣) يمثل الحياة النباتية والحيوانية في الصحراء.

ينبغي على دول الوطن العربي المحافظة على النبات الطبيعي، وزيادة المساحات المزروعة للمحافظة على البيئة والجانب الجمالي.



أنشطة وتدريبات

١- اذكر أسباب تنوع النبات الطبيعي في الوطن العربي:

أ -
ب -

٢- ضع علامة (√) نهاية العبارة الصحيحة وعلامة (X) نهاية العبارة الخطأ فيما يأتي:

أ - يختلف نوع حشائش السافانا حسب كمية الأمطار. ()

ب - تتميز الغابات المعتدلة بأنها دائمة الخضرة. ()

٣ - ما الحيوان الذي يسمى سفينة الصحراء؟ وأي منطقة نباتية يتبع؟

.....

٤ - بين كيف تتكيف بعض النباتات الصحراوية في فصل الجفاف مع ضرب أمثلة على ذلك.

.....

.....

.....

٦ - ما الفرق بين النبات الطبيعي والنبات المزروع؟

.....

٧ - لاحظ العلم الذي أمامك لدولة عربية تقع في الجناح الآسيوي ثم أجب عن المطلوب:



أ - اذكر اسم هذه الدولة العربية؟.....

ب - ما اسم النبات الموجود في علم هذه الدولة؟.....

٨ - ما دورك في المحافظة على النبات الطبيعي؟.....

.....

.....



قارن بين حسائش السافانا وحسائش الاستبس من حيث:

| التوزيع الجغرافي (أين تنتشر؟) | الاستخدامات إن وجدت | التعريف |
|-------------------------------|---------------------|----------------|
| | | حسائش السافانا |
| | | حسائش الاستبس |

نشاط لاصفي: اجمع صور نباتات وحيوانات تمثل المناطق النباتية الخاصة بوطنك، ثم اعرضها على زملائك وعرفهم بما تحويه هذه الصور.



خامساً: الثروة المائية في الوطن العربي



شكل (٢٤) المشروع الوطني لترشيد الطاقة

لاحظت في السنوات الأخيرة الاهتمام العالمي بقضية المياه، وعقدت العديد من المؤتمرات لمواجهة المشاكل الخاصة بنقص المياه، والطلب المتزايد على استعمالات المياه في المجالات المختلفة.

- ما اسم الحملة الكويتية التطوعية الخاصة بترشيد استهلاك المياه؟

● اقرأ الآية القرآنية الكريمة قال تعالى: ﴿أُولَئِكَ الَّذِينَ كَفَرُوا وَأُولَئِكَ هُمَا أَصْحَابُ الْأَرْضِ حَقَّ مِثْقَلِ الذَّائِقَةِ﴾ (سورة الأنبياء - ٢٠) ما أهمية المياه في حياة الإنسان؟

- هل المياه في الوطن العربي قليلة أم كثيرة؟ لماذا؟

- بالاستعانة بالصورة الآتية شكل (٢٥) حاول عزيزي المتعلم أن تجيب على السؤال التالي: ما مصادر المياه الرئيسية المتوافرة في الوطن العربي؟



شكل (٢٥) يوضح مصادر المياه في الوطن العربي.

١ - مياذ الأنهار: ادرس الخريطة شكل (٢٦) ثم اجب عن الأسئلة التي تليها:



شكل (٢٦) خريطة توضح توزيع مياه الأنهار والبحيرات في الوطن العربي

- اذكر أهم الأنهار التي توجد في الوطن العربي ودولها الواقعة فيها؟

مياذ الأنهار
من أهم مصادر المياه في الوطن العربي وتتميز بأنها مياه عذبة. **والنهر:** مجرى مائي عذب ينحدر على الدوام لينتهي إلى بحر أو إلى نهر آخر أو ينتهي تدريجياً في الصحراء.
البحيرة: مسطح مائي تحيط به اليابسة من جميع الاتجاهات

.....
.....
- أين يصب كل من نهري دجلة والفرات، ونهر النيل؟

.....
.....
- ما البحار التي يطل عليها الوطن العربي؟

.....
.....
ب - الأمطار في الوطن العربي

يتصفه المطر في الوطن العربي بالصفات التالية:

١ - تذبذب كمية الأمطار بين عام وآخر، كما أنها تستقط في أيام معدودة.

٢ - الأمطار في الوطن العربي تكاد أن تقتصر على الأطراف الشمالية والأطراف الجنوبية منها.

٣ - تتصف الأمطار بأنها قليلة بصفة عامة، ولا يستثنى منها من ذلك سوى المناطق التي تقع من ورائها الجبال كما هو الحال في سواحل المغرب وساحل لبنان.



ج - المياه الجوفية الطبيعية في الوطن العربي (الآبار العميقة)

المياه الجوفية: هي المياه التي توجد في جوف الأرض «باطن الأرض».

الأفلاج: الماء الجاري وهو مجرى صغير مائي في الأرض».

• ما مصادر المياه الجوفية؟ وأين تتجمع؟

لاحظ أن المياه الجوفية تظهر بأشكال مختلفة من أهمها:

الآبار الجوفية، العيون والينابيع، والأفلاج وتنتشر في مناطق مختلفة في الوطن العربي، وتكثر الآبار الجوفية حيث توجد الواحات التي تنتشر في المناطق الصحراوية.

كيف تساعد المياه الجوفية على استقرار السكان؟

.....

.....

د - مياه البحار

- أي مصدر من المصادر المياه الموضحة في شكل (٢٥) تعتمد عليها دولة الكويت بشكل أساسي كمصدر للمياه؟ ولماذا؟

- ما البحار التي تقوم دول الخليج العربية بتحليتها؟



شكل (٢٧) مجموعة من الأبراج لتخزين المياه.

يتم الاستفادة من مياه البحار المالحة بعد تحليتها، وهذه الطريقة تتبعها الدول التي تقل فيها مصادر المياه مثل: دول الخليج العربية وبعض الدول العربية مثل ليبيا، وللمحافظة على المياه قامت الحكومات بإنشاء السدود على الأنهار والأودية، والتنقيب، والبحث عن المياه في باطن الأراضي العربية.

عدد أسماء محطات تحلية مياه البحر في دولة الكويت؟

.....



أصبحت دولة الكويت تعتمد اعتماداً كاملاً على تحلية مياه البحر منذ بداية ١٩٥٢م «محطة الشويخ»، حيث أنشأت محطات كبيرة لتحلية مياه البحر.

كما تنتشر في الإحساء محطات لتحلية ومناطق أخرى من المملكة العربية السعودية، كذلك قطر كمحطة رأس عيود وأبو فنطاس، كما انتشرت في الإمارات العربية المتحدة واستغلت مياه البحر من قبل ليبيا بكميات قليلة.





أنشطة وتدريبات

أ - أكمل الفراغات التالية بكلمات مناسبة مما درسته:

- ١ - من مصادر المياه في الوطن العربي و..... و.....
 - ٢ - من أهم الأنهار في الوطن العربي نهري و..... في العراق ونهر في مصر والسودان ونهر في المغرب ونهر في الصومال.
 - ٣ - تظهر المياه الجوفية في الوطن العربي بعدة أشكال منها و.....
 - ٤ - تتميز معظم الجهات في الوطن العربي ب..... الأمطار.
- ب - أجب على الأسئلة التالية:

١ - تصور انقطاع الماء عن منزلك لمدة أسبوع ماذا تفعل؟ ومن أين ستأتي أسرتك بالماء؟

.....

٢- هل تستطيع أن تذكر جهود دولة الكويت في المحافظة على الثروة المائية؟ (اذكر أمثلة)

.....

٣- لماذا يزدحم السكان في مصر حول نهر النيل؟

.....

نشاط لاصفي:

- ابحث في المصادر الخارجية ثلاثة مقترحات للحفاظ على الثروة المائية في الوطن العربي.

الوحدة الثانية

الوطن العربي مهد
الحضارات والديانات السماوية



أولاً: الأهمية الحضارية للوطن العربي.

ثانياً: نماذج من الحضارات القديمة في الوطن العربي:

١- الحضارة المصرية القديمة.

٢- حضارة بلاد الرافدين.

٣- حضارات شبه الجزيرة العربية.

أ- حضارة بلاد اليمن.

ب- حضارة نليون (البحرين).

ثالثاً: الوطن العربي مهد الديانات السماوية الثلاث.

رابعاً: الحضارة العربية الإسلامية.



أولاً: الأهمية الحضارية للوطن العربي

توفرت في الوطن العربي - كما درست في الفصل الأول من هذا الكتاب - مجموعة من المقومات الجغرافية والطبيعية التي كان لها دور كبير في ازدهار العديد من الحضارات الإنسانية التي استقرت في ربوع الوطن العربي الكبير.

هذه الحضارات بلغت درجة كبيرة من الرقي والتقدم، حيث برعت في الفنون والآداب والعلوم، وتقدمت في مجالات الزراعة والصناعة والتجارة. وتشمل عدة حضارات:

مفهوم الحضارة:
كل ما يطرأ على المجتمع من تقدم وتطور ورفق في جميع نواحي الحياة الدينية والسياسية والاقتصادية والاجتماعية والفكرية.

١ - الحضارة المصرية القديمة.

٢ - حضارة بلاد الرافدين.

٣ - حضارة بلاد الشام.

٤ - حضارة شبه الجزيرة العربية:

أ - حضارة دلمون.

ب- حضارة بلاد اليمن.

وسنكتفي بهذه الوحدة الدراسية بدراسة الحضارة المصرية القديمة وحضارة بلاد الرافدين وحضارة شبه الجزيرة العربية.

ولم يقف فضل هذا الوطن الكبير على النواحي سائلة الذكر فحسب، بل كان مهداً لظهور الديانات السماوية الثلاث.

ففي صحراء سيناء كانت رسالة موسى، وفي فلسطين نشأ السيد المسيح، وفي مكة المكرمة نشأ سيدنا محمد صلى الله عليه وسلم، ودعا إلى رسالة الإسلام السمحاء، رسالة التوحيد والحق.



شكل (٣٠) الفن الإسلامي يعكس عمق الحضارة الإسلامية



شكل (٣١) أحد مظاهر حضارة بلاد الرافدين



شكل (٣٨) نموذج من الآثار الفرعونية



كي تتعرف بعض المعالم الحضارية في الوطن العربي، انظر إلى الشكل (٣١) .



تمثال لآحد ملوك سوبر



اثر تدمر في البادية السورية



اثر حضارة بلون



اثر سد مارب



معبد ابو سبل

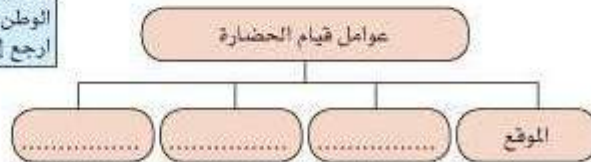
شكل (٣١) صور لبعض المعالم الحضارية في الوطن العربي

• استعن بالصور التي امامك شكل (٣١) لكي تجيب على التالي:

- ما أسماء الحضارات التي تركت هذه الأثار ؟

- لماذا استقرت هذه الحضارات في وطننا العربي ؟

مقومات قيام الحضارة:
١ - الموقع الاستراتيجي.
٢ - توافر مصادر المياه العذبة
(ما الأنهار الكبرى التي قامت
حولها الحضارات)؟
٣ - اعتدال المناخ
٤ - توافر الثروات الطبيعية
٥ - توافر العنصر البشري.
ما مدى توافر هذه العوامل في
الوطن العربي؟
ارجع إلى الوحدة الأولى.





شكل (٣٢) خريطة توضح مواقع الحضارات العربية القديمة

أنشطة وتدريبات

- ١ - حدد على خريطة الوطن العربي التي أمامك أماكن الحضارات التالية بوضع رقم كل حضارة في مكانه الصحيح على الخريطة:
 - ١ - الحضارة المصرية القديمة.
 - ٢ - حضارة بلاد الرافدين.
 - ٣ - حضارة بلاد الشام.
 - ٤ - حضارة دلمون.
 - ٥ - حضارة جنوب غرب شبه الجزيرة العربية.

- ٢ - اذكر أشهر المعالم الدينية في كل من الدول التالية: (المملكة العربية السعودية - فلسطين)؟

.....

.....

- ٢ - لماذا كان الوطن العربي مركزا للحضارات المختلفة عبر التاريخ؟

.....

.....

- ٤ - ما معني الحضارة؟

.....

.....



ثانياً: نماذج من الحضارات القديمة في الوطن العربي



شكل (٣٢) تمثال أبو الهول

سنتناول عزيزنا المتعلم أهم الحضارات القديمة التي قامت في وطننا العربي ومنها:

١ - الحضارة المصرية القديمة:

تعد الحضارة المصرية من الحضارات القديمة في العالم، والأكثر آثاراً، إذ لا تزال بعض آثارها قائمة حتى وقتنا الحاضر.

وقد كان للعوامل الطبيعية دوراً مهماً في قيام الحضارة المصرية القديمة، وتطورها وحمايتها من الغزوات لسهولة الدفاع عنها، واستقرار سكانها وممارساتهم للأنشطة المختلفة.

استعن بالخريطة شكل (٣٢) ثم أجب عن الآتي:

- ١ - ما العلاقة بين الموقع الجغرافي لمصر وقيام الحضارة الفرعونية القديمة؟
- ٢ - ما أثر العوامل التالية في قيام الحضارة في مصر-
 - أ - نهر النيل
 - ب - المناخ
 - ج - امتداد الصحراء.

من ذلك نستنتج أن هناك عوامل كثيرة ساعدت على قيام الحضارة في مصر منها الموقع الجغرافي لمصر عند ملتقى قارات العالم القديم، وإطلالتها على البحر المتوسط والبحر الأحمر، ونهر النيل الذي ربط بين أجزاء البلاد من الشمال إلى الجنوب، واعتدال المناخ وجفافه، وامتداد الصحراء في شرق مصر وغربها، جعل الحضارة المصرية في أمن وحماية طبيعية، إضافة إلى تنوع الصخور وكثرة المعادن ساعدت المصريين القدماء على نحت التماثيل وبناء المعابد.



شكل (٣٦) نماذج مختلفة من الأنشطة الاقتصادية التي مارسها المصريون القدماء.



أهم مظاهر الحضارة المصرية القديمة:

أدى تنوع العوامل الطبيعية في مصر إلى تنوع وتعدد المظاهر الحضارية ومنها:

أ- الحياة الاقتصادية:

نشطت الحياة الاقتصادية في مصر القديمة بجميع نواحيها، حيث تقدمت الزراعة وتطوّرت أساليبها، وتنوّعت المحاصيل كالقمح والفواكه والكتّان، وانتشرت تربية الماشية.

وقد مهرو المصريون القدماء في الصناعة أيضاً وخاصة صناعة الأواني الفخارية والمعدنية والملابس الكتانية والسفن والورق.

ب- المعتقدات الدينية:

اعتقد المصريون القدامى ان الحياة تعود إلى الجسم بعد الموت أي أنهم اعتقدوا في «البعث والخلود» ولذلك حرصوا على تحنيط جثث موتاهم واهتموا ببناء القبور وإقامة المعابد الفخمة للآلهة.



شكل (٢٦) تابوت لأحد القراعنة



شكل (٢٥) الملك اخناتون وعبادة الشمس



شكل (٢٨) معبد آمون رع في الأقصر



شكل (٢٧) مومياء مرنبتوتية

ج- العلوم والفنون:

وقد أحرز المصريون القدماء تقدماً كبيراً في مجال العلوم والفنون كالفلك والطب والكيمياء والتحنيط والنحت والبناء والكتابة التي عُرفت عندهم بالكتابة الهيروغليفية انظر الشكل.



شكل (٢٩) الكتابة الهيروغليفية



شكل (٣١) هرم سقارة المدرج



شكل (٣٠) فن النحت

هرم سقارة المدرج: وهو أول هرم تم بنائه في تاريخ الحضارة المصرية القديمة بشكله المدرج وهو ينسب إلى الملك زوسر يسمى أيضاً بهرم زوسر.



أنشطة وتدريبات

أكمل الفراغات التالية:

تعتبر الأهرامات مظهر من مظاهر الحضارة.....

عرفت الكتابة المصرية القديمة باسم.....

أجب عن التالي:

ما هي العوامل التي ساعدت على قيام الحضارة المصرية القديمة؟

.....

.....

.....

ما الشكل الذي يمثله تمثال أبو الهول؟

.....

.....

عدد العلوم والفنون التي برعوا فيها المصريون القدماء؟

.....

.....

علل لما يلي:

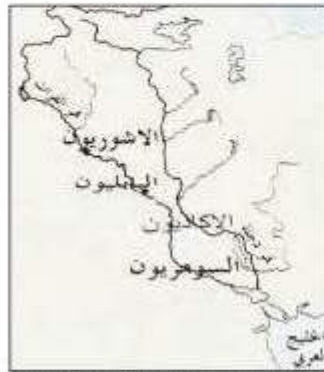
اهتمام المصريون القدماء بتحنيط جثث موتاهم؟

.....

.....

٢ - حضارة بلاد الرافدين

يطلق اسم بلاد الرافدين أو بلاد ما بين النهرين على العراق الحالي (ما اسم النهرين؟)



شكل (١٢) خريطة توضح الممالك التي قامت في بلاد الرافدين

١-

٢-

وتتميز بلاد الرافدين بموقع ممتاز وبخصوبة تربتها ووفرة مياهها العذبة، حيث كانت موطناً للعديد من الحضارات القديمة. وقد سيطر على بلاد الرافدين خلال تاريخها القديم خمسة شعوب متتالية أقامت دولاً وحكومات وحضارات على فترات متتالية، وسميت تلك الحضارات بأسماء المناطق والمدن التي قامت فيها، واشتهرت تلك الحضارات بالتقدم والرقي بما قدمته للإنسانية من إنجازات شأنها في ذلك شأن الحضارة المصرية القديمة.

- أهم الحضارات التي قامت في بلاد الرافدين:

| السومريون | الأكاديون | البابليون | الآشوريون | الكلدانيون |
|---|--|---|---|--|
| هم أقدم شعوب بلاد الرافدين، وسكنوا في جنوب بلاد الرافدين. ومن أشهر مدنها أور. | هم من القبائل السامية، واستطاع أميرهم سرجون أن يحتل المدن السومرية ويؤسس عاصمة له سماها أكد. | هم من القبائل السامية، هاجروا من بلاد الشام إلى بلاد الرافدين فبنوا مدينة بابل واتخذوها عاصمة لهم وأشهر ملوكهم حمورابي. | هم من القبائل السامية، استوطنوا المناطق الجبلية في شمال العراق. وأسسوا دولة لهم عاصمتها آشور ومن أشهر ملوكهم آشور بنيبال. | هم من القبائل السامية التي استوطنت أواسط بلاد الرافدين وعاصمتهم مدينة بابل وأشهر ملوكهم نبوخذ نصر. |



- استعن بالشكلين (٤٢) و (٤٣) ثم أجب عن الأسئلة التالية:
 (١) ما العوامل التي ساعدت على قيام الحضارة في بلاد الرافدين ؟

(٢) اكتب أسماء الحضارات التي قامت في بلاد الرافدين ؟



شكل (٤٢) طبيعة بلاد الرافدين

أهم المظاهر الحضارية في بلاد الرافدين

أولاً: الحياة الاقتصادية:

- (١) الزراعة: عرف سكان بلاد الرافدين الزراعة بسبب خصوبة تربتها وسعة سهولها ووفرة مياهها، فأقاموا السدود وشتوا الأنهار وجففوا المستنقعات واستصلحوا الأراضي، وكانت الزراعة هي الحرفة الرئيسية عند السومريين والبابليين، بينما اشتهر الآشوريين بالرعي والصيد. (علل ٩)
- (٢) التجارة: كان لبلاد الرافدين نشاطاً تجارياً مع بلدان الأقاليم المجاورة، حيث استوردوا المعادن والأحجار والأخشاب وصدروا المنتجات الزراعية والمنسوجات وخاصة الصوفية منها.
- (٣) الصناعة: تنوعت الصناعات في بلاد الرافدين واشتهروا في صناعة الحلي والأواني الفخارية وغيرها.

أجب عن التالي:

١) لماذا ازدهرت الزراعة في بلاد الرافدين؟

٢) ابحث في مرجع خارجي عن الدور الذي لعبته بلاد الرافدين في مجال التجارة.



ثانياً: العلوم والفنون:

تطوّرت العلوم لدى سكان بلاد الرافدين، فقد برعوا بالهندسة والحساب والفلك والطب.

ومن أهم الفنون لديهم: فن النحت والبناء والرسم والأواني الفخارية.

ثالثاً: الحياة الفكرية:

(١) اخترع السوميريون نوعاً من الكتابة عرفت باسم (الكتابة المسماة). وتعتبر هذه الكتابة من أقدم أنواع الكتابة في العالم، وحروفها تشبه المسامير، وتكتب على ألواح من الطين الطري بواسطة أقلام تشبه المسامير، ثم تعرض الألواح لحرارة الشمس حتى تجف، وعدد حروفها ٦٠٠ حرف.



شكل (٤٤) فن النحت



شكل (٤٥) الكتابة المسماة

(٢) ظهرت في بلاد الرافدين شرائع قانونية قديمة عدة ومن أهمها شريعة حمورابي، وهو ملك بابل حيث احتوت هذه الشريعة على ٢٨٢ مادة قانونية، اعتمدت مبدأ (السن بالسن والعين بالعين) في تطبيقها، مما أدى إلى انتشار الأمن والأمان في البلاد.



شكل (٤٧) حمورابي يتسلم الشرائع



شكل (٤٦) الأواني الفخارية



أنشطة وتدريبات

١) أكمل الفراغات التالية:

أ - اخترع السومريون كتابة تعرف باسم.....
 ب - يعد عصر الملك..... من أهم العصور في تاريخ العراق القديم، ومن الأعمال الشهيرة لهذا الملك.....

٢) أجب عما يلي:

أ - من هو حمورابي؟

.....
 ب - ما أهم ما اشتهر به؟

.....
 ج - كم عدد المواد التي تضمنتها شريعة حمورابي؟

.....
 د - ما المبدأ الذي اعتمدت عليه هذه الشريعة؟

.....
 استعن بمصدر خارجي واكتب تقريراً مدعماً بالصور عن حدائق بابل المعلقة



شكل (٤٨) حدائق بابل المعلقة



٣ - حضارات شبه الجزيرة العربية

تقع شبه الجزيرة العربية في جنوب غرب قارة آسيا، وتتميز بموقع متميز يربط بين قارات العالم القديم، ويغلب على شبه الجزيرة العربية المناخ الصحراوي الذي أعاق نشوء مراكز لاستقرار السكان، عدا المناطق التي تتوافر فيها مصادر المياه العذبة، كحضارة دلمون وبلاد اليمن، ومن ثم اعتمدت الحياة الاجتماعية والسياسية لسكان وسط شبه الجزيرة العربية على التقل والترحال من مكان لآخر. (علل ٥)

وتعتبر شبه الجزيرة العربية الموطن الأصلي للجماعات السامية التي هاجر الكثير منها إلى جهة الشمال والشمال الشرقي منها... (علل ٥)

ويرجع إلى هذه الهجرات الفضل في قيام الجانب الأكبر من حضارات الوطن العربي القديم، أعط أمثلة لهذه الحضارات:..... و.....

من الهجرات السامية التي نزحت من شبه الجزيرة العربية:

- العميريون (أين سكنوا؟)
- الكنعانيون (أين سكنوا؟)
- الآراميون (أين سكنوا؟)

استعن بمصدر خارجي وأجب عن التساؤلات السابقة.



شكل (٢٩) خريطة توضح أهم مراكز الحضارات القديمة في شبه الجزيرة العربية



أ - حضارة جنوب غرب شبه الجزيرة العربية: (بلاد اليمن)

تعتبر منطقة جنوب غرب شبه الجزيرة العربية من أكثر مناطق شبه الجزيرة العربية ملائمة لقيام حضارة، بسبب توافر المياه العذبة والمناخ المناسب لقيام الزراعة، أيضاً الموقع الذي يسمح بقيام النشاط التجاري فيها، وقد تأسست منذ الألف الثالث (ق.م) دويلات عدة على هذه المنطقة، ومن أهمها:



شكل (٥٠) خريطة توضح أهم الممالك في حضارة اليمن

١) دولة معين: (١٣٠٠ - ٦٥٠ ق.م)
أين تقع دولة معين؟ وما هي عاصمتها؟

٢) دولة سبأ: (٩٥٠ - ١١٥ ق.م)
أين تقع دولة سبأ؟ وما هي أهم مدنها وأهم معالمها؟

٣) دولة حمير: (١١٥ ق.م - ٥٢٥ م)
أين تقع دولة حمير؟ وما هي أهم مدنها؟


عظم شأن سبأ، وأصبحت أشهر ممالك اليمن القديمة، وورد ذكرها في القرآن الكريم.
وأشهر ملوكها: الملكة بلقيس.



شكل (٥١) من آثار سد مأرب

المظاهر الحضارية لحضارة جنوب غرب شبه الجزيرة العربية:

اشتهر سكان جنوب غرب شبه الجزيرة العربية بالمشاريع الزراعية من خلال تنظيم عملية الري عن طريق بناء السدود والخزانات وأشهرها سد مأرب، ومن أشهر المنتجات الزراعية: (الموز - اللبان - القرهة).



شكل (٥٢) الطبيعة في اليمن

أما بالنسبة للتجارة فقد كان أهل اليمن أسياة التجارة العربية، حيث سيطروا على الطرق التجارية، وامتدت تجارتهم بين شمال شبه الجزيرة العربية وجنوبها، وكان هناك تبادل تجاري مع الحضارات المجاورة لها، وخاصة حضارة بلاد مصر القديمة وحضارة بلاد الرافدين وحضارة بلاد الشام، كما عرفوا الأبجدية، وكانت تتألف من ٢٩ حرفاً وكانت تكتب بالخط المسند.



أنشطة وتدريبات

١) أكمل الفراغات التالية:

- أ - عاصمة دولة معين مدينة اسمها.....
 ب - الخط الذي كانت تكتب به الأجدية في حضارة جنوب غرب شبه الجزيرة العربية هو.....
 ج - يحد حضارة جنوب غرب شبه الجزيرة العربية من جهة الغرب بحر اسمه.....

٢) اختر البديل المناسب:

- أ - من عوامل قيام الحضارة في شبه جنوب الجزيرة العربية:
 - توافر المياه العذبة. - اعتدال المناخ.
 - خصوبة التربة. - كل ما سبق.
 ب - من أشهر ملوك سبأ ورد ذكرها في القرآن:
 - زنوبيا. - بلقيس.
 - نفرتيتي. - كيلو يترا.
 ج - من أهم معالم دولة سبأ:
 - سد مأرب. - الأختام.
 - الأهرامات. - المعابد.

٣) أجب على الأسئلة التالية:

- أ - لماذا اقتصر ظهور المجتمعات الحضارية على الجزء الجنوبي الغربي من شبه الجزيرة العربية؟

 ب - حدد الخصائص العامة لحضارة اليمن القديمة؟

 ج - علل، تميّز سكان جنوب غرب شبه الجزيرة العربية في الزراعة؟



ب - حضارة دلمون (البحرين)

قامت دلمون وسط حضارات الشرق القديم، ويحكم موقعها وسط الخليج العربي فقد كانت مركزاً مهماً للمواصلات والتجارة البحرية بين البلدان المطلة على الخليج العربي والحضارات المجاورة لها. اذكر حضارتين من هذه الحضارات:



..... (١)

..... (٢)

ازدهر العمران في دلمون، وتتنوع نشاط السكان الاقتصادي، فمارسوا الزراعة وصيد الأسماك والغوص على اللؤلؤ. وكانت تسمى قبل الفتح الإسلامي باسم أوال.

أوال: اسم أطلق على البحرين في مرحلة النفوذ الفارسي نسبة إلى صنم اسمه أوال، كانت تعبده قبيلة وائل التي حكمت البحرين آنذاك.

كما عرفت دلمون بأنها أرض مقدسة عند الشعوب القديمة، شكل (٥٢) خريطة توضح مملكة البحرين فقد عثر على بقايا لمعابد فيها، ومن أهمها معبد بلربار.



شكل (٥٥) معبد بلربار



شكل (٥٦) اشتهرت حضارة دلمون بصناعة الأختام



أنشطة وتدريبات

١) علل، تعتبر حضارة دلمون مركزاً مهماً للمواصلات البحرية؟

.....

.....

٢) اذكر أهم الأنشطة الاقتصادية لحضارة دلمون؟

.....

.....


٣) ما معنى أوال؟

.....

.....



شكل (٥٧) رأس ثور لحضارة دلمون



شكل (٥٦) بعض الفنون لحضارة دلمون



ثالثاً: الوطن العربي مهد الديانات السماوية الثلاث

يعتبر الوطن العربي مهد الديانات السماوية الثلاث التي انتشرت في أنحاء العالم، مما أكسبه مكانة روحية مقدسة. وهي كالتالي:

- ١) الديانة اليهودية: وهي التي نزلت على سيدنا موسى عليه السلام، وكتابتها التوراة.
- ٢) الديانة المسيحية: وهي التي نزلت على سيدنا عيسى بن مريم عليه السلام، وكتابتها الإنجيل. متى ولد السيد المسيح ؟ وأين ؟
- ٣) الديانة الإسلامية: يعتبر الإسلام خاتمة الرسالات السماوية جميعاً، ونزول القرآن الكريم على سيدنا محمد صلى الله عليه وسلم عام (٦١٠ ميلادية) في مكة المكرمة. وقد دون على كتاب الوحي، وتكفل الله سبحانه وتعالى بحفظه من التحريف والتغيير. ﴿ إِنَّا نَحْنُ نَزَّلْنَا الذِّكْرَ وَإِنَّا لَهُ لَحَافِظُونَ ﴾ سورة الحجر - الآية (٩) - متى نزل الوحي على الرسول صلى الله عليه وسلم ؟ وأين ؟



شكل (٥٩) المدينة المنورة



شكل (٥٨) مكة المكرمة

أنشطة وتدريبات

- ١) صنّف الأسماء التالية في مكانها الصحيح في الجدول التالي:
(الإنجيل - موسى - القرآن الكريم - عيسى - التوراة - محمد)

| الديانة | الكتاب | النبي |
|----------|--------|-------|
| الإسلام | | |
| المسيحية | | |
| اليهودية | | |

رابعاً: الحضارة العربية الإسلامية

قامت الحضارة العربية الإسلامية على الإسلام وتعاليمه، وكان هذا التنظيم الإسلامي أهم الأسس التي بنيت عليها حضارة العرب في ظل الإسلام، فالصلاة في نظامها ومواقبتها وما يترتب عليها من نظافة البدن والروح، والصوم والزكاة التي تحقق التكافل الاجتماعي، فضلاً عن مبادئ الإسلام المتمثلة في الشورى والعدل والمساواة، ومع انتشار الإسلام بالفتوحات الإسلامية انتشرت اللغة العربية وأصبحت الرابطة الأساسية التي ربطت أجزاء الدولة بعضها ببعض.



أثر الحضارة العربية الإسلامية في الحضارة الأوروبية: شكل (٦٠) صورة الأرض للشريف الإدريسي
قامت في بلاد العرب حضارة مزدهرة وكان لا يد لها من أن تنير أرجاء العالم مثلها في ذلك مثل كل حضارة إنسانية متفوهة، وقد كان للحضارة العربية الإسلامية فضل كبير وأثر واضح في إثراء الحضارة الأوروبية منذ القرن العاشر الميلادي. حيث كانت أوروبا آنذاك تعيش عصور ظلام وذلك بسبب سيطرة الكنيسة على عقول الناس. وقد انتقلت الحضارة العربية الإسلامية إلى قارة أوروبا بفضل مراكز الإشعاع التي انتشرت بالقرب منها:



شكل (٦٢) جامع قرطبة



شكل (٦١) النقوش الإسلامية

لاحظ الصور السابقة: تمثل جانب من الحضارة الإسلامية التي برع بها العرب المسلمون،



أنشطة وتدريبات

• أجب عن السؤال التالي:

انتقلت الحضارة العربية الإسلامية إلى قارة أوروبا بفضل مراكز الإشعاع، عدّها؟

أ -

ب -

ج -

نشاط خارجي:

أ- ماذا تعرف عن:

أ- رحلة الشتاء والصيف؟

.....

.....

ب - وظيفة المحتسب في الإسلام؟

.....

.....

٢- علل: عدم ظهور التماثيل وصور الأفراد في فنون العرب؟

.....

.....

٢- اجمع مجموعة من الصور لبعض المساجد والآثار الإسلامية.

استخلص من هذه الصور المعالم الرئيسية للفن الإسلامي.

الوحدة الثالثة

الوطن العربي ملامح
بشرية واقتصادية



أ - نمو السكان وتوزيعهم في الوطن العربي

١ - توزيع السكان في الوطن العربي

٢ - الكثافة السكانية في الوطن العربي

٣ - النمو السكاني في الوطن العربي

ب - الموارد الاقتصادية في الوطن العربي

أولاً: إنتاج الغذاء

١ - الإنتاج الزراعي

٢ - الحبوب الغذائية

٣ - الغلات الصناعية والتجارية

تابع الوحدة الثالثة

- ٤ - الفواكه والأشجار المثمرة
- ثانياً: الإنتاج الحيواني
- ١ - الثروة الرعوية
- ٢ - تربية الدواجن والطيور
- ٣ - الثروة المائية
- ثالثاً: الطاقة والثروة المعدنية
- ١ - النفط والغاز الطبيعي
- ٢ - التعدين في الوطن العربي
- ٣ - المنظمات الاقتصادية الإقليمية
- أ - منظمة الدول المصدرة للنفط (أوبك)
- ب - منظمة الأقطار العربية المصدرة للنفط (أوابك)
- رابعاً: الإنتاج الصناعي
- أنواع الصناعة في الوطن العربي:
- ١ - الصناعات الاستخراجية
- ٢ - الصناعات التعدينية
- ٣ - الصناعات التحويلية
- ٤ - الصناعات التجميعية
- ٥ - الصناعات الحرفية
- ٦ - الصناعات البتروكيمياوية
- خامساً: النقل والتبادل التجاري
- ١ - النقل
- ٢ - التبادل التجاري



السكان

أ - نمو السكان وتوزيعهم في الوطن العربي:

درست في الوحدة الأولى من هذا الكتاب أن الوطن العربي يغطي مساحة كبيرة من الأرض ١٠٠ كم تبلغ هذه المساحة ٩

ويتألف من ٢٢ دولة تضم حوالي ٢٢١ و ٣١٨ مليون نسمة تقريباً يتوزعون بنسبة ٧٠٪ في القارة الأفريقية، ٣٠٪ في القارة الآسيوية.

اذن عزيزي المتعلم فلنتعرف على نمو وتوزيع السكان في الوطن العربي.

١- توزيع السكان في الوطن العربي:

تعتمد دراسة السكان بصورة عامة على الإحصاءات السكانية وأهم هذه الإحصاءات:

أ- التعداد السكاني:

تقوم الدولة من حين إلى آخر بإجراء تعداد لسكانها .

نتيجة التعداد تحصل الدولة على معلومات وافية عن أوضاع سكانها: عددهم الإجمالي- عدد كل جنس (ذكور، إناث) أعمارهم وغير ذلك من المعلومات .

يتم تصنيف هذه المعلومات في جداول تسمى الجداول الإحصائية للسكان - أي جمع أعداد السكان- وكل خمس سنوات من العمر تمثل شريحة عمرية.

ب - الإحصاء الحيوي: تسجيل المواليد والوفيات وحالات الزواج والطلاق ونحصل على بياناتها من واقع السجلات الرسمية للدولة.

ابحث: متى أجرى أول تعداد سكاني في الكويت - وما الجهة المسؤولة عن ذلك؟



التوزيع الجغرافي للسكان في الوطن العربي:

يقدّر عدد سكان الوطن العربي بنحو (٣١٨,٣٢١) مليون نسمة حسب إحصائية عام ٢٠٠٦ م موزعة على النحو التالي:

| الرقم | الدولة العربية | المساحة | تقديرات عدد السكان |
|-------|-----------------------------|-----------|--------------------|
| ١ | السعودية | ٢,٠٠٠,٠٠٠ | ٢٢,٦٧٨ |
| ٢ | العراق | ٤٢٥,٠٥٢ | ٢٨,٨٠٨ |
| ٣ | سوريا | ١٨٥,١٨٠ | ١٨,٧٠٩ |
| ٤ | فلسطين | — | — |
| ٥ | الأردن | ٨٩,٢٤٢ | ٥,٦٠٠ |
| ٦ | لبنان | ١٠,٤٥٢ | ٢,٩١٧ |
| ٧ | الكويت | ١٨,٠٠٠ | ٢,٠٥٢ |
| ٨ | الإمارات | ٨٤,٦٠٠ | ٤,٢٢٩ |
| ٩ | البحرين | ٧٠٧ | ٧٤٦ |
| ١٠ | قطر | ١١,٤٣٧ | ٤٢٨ |
| ١١ | اليمن | ٥٥٥,٠٠٠ | ٢٢,٦٥٠ |
| ١٢ | عمان | ٣٠٩,٥٠٠ | ٢,٥٧٧ |
| ١٣ | مجموع الجناح العربي الآسيوي | ٢,٧٠٧,٠٧٤ | ١١٤,٧٩٦ |

| الرقم | الدولة العربية | المساحة | تقديرات عدد السكان |
|-------|------------------------------|--------------|--------------------|
| ١ | مصر | ١,٠٠٠,٢٠,٠٠٠ | ٧١,٢٤٨ |
| ٢ | السودان | ٢,٥٠٥,٨٠٥ | ٢٦,٢٩٧ |
| ٣ | الجزائر | ٢,٣٨١,٧٤١ | ٢٢,٢٩٧ |
| ٤ | الغرب | ٧١٠,٨٥٠ | ٢١,٥٦٧ |
| ٥ | تونس | ١٥٥,٥٦٦ | ١٠,١٢١ |
| ٦ | ليبيا | ١,٧٧٥,٥٠٠ | ٦,٨٤٢ |
| ٧ | الصومال | ٦٢٧,٦٥٧ | ١٠,١٨٢ |
| ٨ | موريتانيا | ١,٠٢٠,٧٠٠ | ٢,٠٥٤ |
| ٩ | جيبوتي | ٢٣,٢٠٠ | ٨١٧ |
| ١٠ | جزر القمر | ٢,٢٢٥ | ٧٠٠٠ |
| | مجموع الجناح العربي الأفريقي | ١٠,٤٣٢,٢٥٤ | ٢٠٢,٥٢٥ |

دول الجناح العربي الأفريقي

دول الجناح العربي الآسيوي

شكل (٦٣) إحصائية تبين مساحة الدول العربية وتقديرات عدد السكان في عام (٢٠٠٦) م

• إدرس الجدول السابق رقم (٦٣) ثم أجب عن الأسئلة التالية:

١- عدد سكان الوطن العربي في الجناح الأفريقي

.....

٢- أكثر الدول العربية سكاناً

.....

* ملاحظة: الجداول للقراءة فقط باستثناء أكثر وأقل دولة



٣- الدول العربية التي يزيد سكانها عن (٢٠) مليون نسمة

٤- الدول العربية التي يقل سكانها عن (٥) مليون نسمة

٥- قارن بين مساحة كل دولة بعدد سكانها ، ماذا تلاحظ ؟

يختلف عدد السكان بين دولة عربية وأخرى اختلافا كبيرا . ويعود هذا التفاوت ليس فقط للمساحة الكلية وإنما للعوامل الطبيعية والبشرية .

● لكي تتعرف على المشكلات الخاصة بتوزيع السكان في الوطن العربي علينا أن ندرس توزيع الكثافة السكانية في دول الوطن العربي

٢- الكثافة السكانية في الوطن العربي :

يقصد بكثافة السكان نسبة عدد السكان الكلي في دولة ما ، أو منطقة ما ، إلى المساحة المطلقة لهذه الدولة أو المنطقة..... ولكن هذه الكثافة لا تعطي صورة واضحة عن توزيع السكان داخل الدولة ، أو المنطقة ، أو الإقليم ، حيث تعاني بعض الدول وهي مقدمتها جمهورية مصر العربية من سوء توزيع السكان فيها حيث يتركز الناس على مساحة صغيرة جدا من المساحة الكلية بجوار دلتا النيل... علل؟

الكثافة السكانية العامة:

عدد السكان الكلي

.....

المساحة المطلقة



• ويمكن تقسيم الوطن العربي الى الأقسام التالية:

- ١- مناطق مرتفعة الكثافة: وتشمل وادي النيل ودلتاه في مصر.
- ما هي الكثافة السكانية لجمهورية مصر العربية ؟ استخدم القاعدة السابقة .
- ٢- مناطق متوسطة الكثافة.
- ٣- مناطق منخفضة الكثافة.
- ٤- مناطق شبه خالية من السكان، علل؟

ما أسباب هذا الاختلاف ؟

لاحظ الصور شكل (٦٤) والمخطط السهمي شكل (٦٥) وتعرّف على العوامل المؤثرة في توزيع السكان



لماذا يتجمع السكان حول مصادر المياه



لماذا يصعب العيش في المناطق الجبلية



لماذا يفضل السكان العيش في المناطق السهلية ذات المناخ المعتدل



هل الصحراء مناطق جاذبة للسكان

شكل (٦٤)



- ١ - عدد المناطق المناخية التي يقل فيها السكان.
- ٢ - اذكر المناطق التي يجذب إليها السكان والمناطق التي لا يرغب السكان العيش فيها.
- ٣ - لماذا يتجمع السكان بكثرة حول مصادر المياه ؟



شكل (٦٥) مختلف العوامل المؤثرة في توزيع السكان



• للتعرف أكثر على توزيع الكثافة السكانية اقرأ النص وأجب عن الأسئلة التي

تليه:

ترتفع الكثافة السكانية في المناطق التي تتمتع بمقومات طبيعية ومناخية ملائمة وثروات طبيعية وطرق مواصلات، وتنخفض الكثافة في المناطق التي لا تتوفر فيها هذه المقومات.

ورغم الصعوبات التي تواجه السكان في بعض أنواع التضاريس، وبفضل التطور العلمي، فقد استطاع الإنسان التغلب عليها والعيش في تلك المناطق فحوّل الجبال إلى مدرجات وزرعها وشق العديد من الطرق كذلك استطاع أن يواجه ظروف العيش في الصحراء ويستغل ثرواتها الطبيعية.



شكل (٦٦)

الزراعة على المدرجات الجبلية في اليمن

• اذكر أسماء مدن، ودول نشأت ونمت في الصحراء؟

• كيف تغلب الإنسان على صعوبة العيش والزراعة في الجبال؟

• كيف تمكن الإنسان من العيش في الصحراء؟ ما الأسباب؟

• هل استطاع الإنسان أن يتغلب على بعض صعوبات المناخ وسكن المناطق الحارة والباردة، كيف؟

ونستخلص من السابق ما يلي:

- يستقر الإنسان في المناطق التي توفر له إمكانية استغلال مواردها.
- أكبر تجمع للسكان يكون حول الأنهار والبحار ومصادر المياه.
- المناخ المعتدل عامل جذب للسكان.



٣- النمو السكاني في الوطن العربي:

يقصد بالنمو السكاني:
تزايد عدد السكان من عام لآخر نتيجة للزيادة الطبيعية للسكان (زيادة معدل المواليد على معدل الوفيات) والهجرة.

يقدر معدل النمو السنوي للسكان في الوطن العربي بحوالي ٢,٢٠٪ حسب إحصائيات عام ٢٠٠٦م وهو معدل مرتفع للغاية إذ يفوق المعدل العالمي والذي يقدر بحوالي ١,٧٪. وتختلف هذه الزيادة من دولة إلى أخرى ويتوقف تأثير هذه الزيادة على مساحة الدولة من جهة ومواردها من جهة أخرى.

● ماذا يحدث لو: زاد عدد السكان بكثرة عن عدد موارد الدولة الاقتصادية؟

● ارجع إلى الجدول شكل (٦٣) وأجب:

١ - اذكر أسماء (٢) دول عربية لا تتأثر سلباً بالزيادة السكانية.

.....

٢ - كيف تواجه دولة مثل مصر مشكلة الزيادة السكانية ؟

.....

٣ - لماذا تهتم الدول بمعرفة معدلات النمو ؟

.....



• للإجابة عن هذا السؤال يجب أن نلقي الضوء على مكونات هذا النمو:

| | |
|--|---|
| <p>الهجرة نوعان :</p> <ul style="list-style-type: none"> • هجرة داخلية من القرى إلى المدن. • هجرة خارجية من دولة إلى دولة أخرى. | <p>الزيادة السكانية نوعان :</p> <p>١- زيادة طبيعية وهي الفرق بين معدل المواليد ومعدل الوفيات.</p> <p>٢- زيادة غير طبيعية هي الزيادة الناتجة عن الهجرة.</p> |
|--|---|

يرجع النمو السكاني بالوطن العربي إلى الزيادة الطبيعية (عدد المواليد) أولاً، ثم الهجرة الخارجية (بعد اكتشاف النفط).

١ - ما أسباب هجرة الأيدي العاملة من دول آسيا إلى بعض دول الوطن العربي.

.....

.....

٢ - ما أسباب هجرة الأيدي العاملة في الدول العربية إلى منطقة الخليج العربية؟

.....

.....

• مما سبق..... فيما يتعلق بتوزيع السكان، والكثافة السكانية، والنمو السكاني في الوطن العربي.

هل يمكننا القول أن:

هناك مشكلة سكانية في الوطن العربي؟ ناقش هذا الموضوع مع معلمك.

| |
|--|
| <p>عمل تعاوني :</p> <p>اقترح مع زملائك في الفصل حلاً للمشكلات السكانية التالية :</p> <p>١ - ارتفاع معدل نمو السكان في بعض دول الوطن العربي.</p> <p>٢ - سوء توزيع السكان بين دول الوطن العربي.</p> |
|--|



ب - الموارد الاقتصادية في الوطن العربي

وهب الله منطقتنا العربية ثروات اقتصادية وموارد طبيعية مهمة،
لاحظ الصور شكل (٦٧) وأستنتج أهمية هذه الثروات بالنسبة إلى الوطن العربي والعالم



ما المحاصيل التي تزرع في المناطق المعتدلة؟



ما أهمية النفط والغاز الطبيعي في حياتنا؟



ما مناطق تربية الأغنام والماعز؟



ما الصناعات القائمة على مشتقات النفط؟



ما وسائل النقل الحديثة؟



ما مدى توافر المياه العذبة للزراعة؟

الموارد البشرية :

تلك الموارد التي ترتبط بالسكان من حيث أعدادهم وتوزيعهم ومتاسبة أعدادهم لمساحة الأرض التي يستقلونها . كما أنها تشمل مدى استغلال السكان لمواردهم الطبيعية كالتعدين ، والزراعة ، والصناعة، ومد خطوط المواصلات.

الموارد الطبيعية :

الثروات التي منحها الله لإقليم ما دون أن يكون للإنسان أي دخل في وجودها - فالثروات المعدنية ، والغابات، والمراعي، والموارد المائية وموقع الإقليم كلها موارد طبيعية .

ولنتعرفَ معا على هذه الثروات بشكل أكبر في الصفحات التالية:



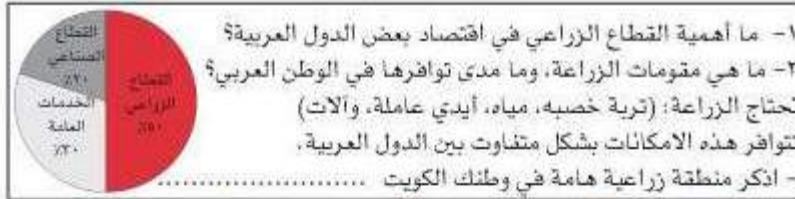
أولاً: إنتاج الغذاء

١- الإنتاج الزراعي:

- درست في الوحدة الثانية من هذا الكتاب أن أقدم الحضارات التي عرفها العالم قد نشأت في دلتا النيل وسهول بلاد ما بين النهرين، وكانت الزراعة ركيزتها الأساسية. والزراعة لا تزال حتى يومنا هذا تلعب دوراً أساسياً في اقتصاديات معظم الدول العربية.



شكل (٦٨) أشكال الزراعة في الوطن العربي



- كي تتعرف على ذلك، ادرس النص التالي ثم أجب عن الأسئلة التي تليها:

يأتي القطاع الزراعي في المرتبة الأولى من حيث الأهمية في الاقتصاد العربي، خاصة في الأفطار الغير منتجة للنشط، حيث توفر الغذاء والعمل والمادة الأولية لكثير من الصناعات الغذائية، وتختلف أنواع هذه المنتجات من دولة عربية الى أخرى بسبب اختلاف المناخ والتربة في هذه الدول ومدى توافر المياه، كما أن إنتاج الوطن العربي من بعض هذه المنتجات، كالثمن، والزيتون، والصمغ العربي، والحمضيات يصدر إلى الخارج بكميات مناسبة مما يكسب الوطن العربي أهمية كبيرة.

استخرج من النص (٢) فوائد أساسية للنشاط الزراعي في الوطن العربي

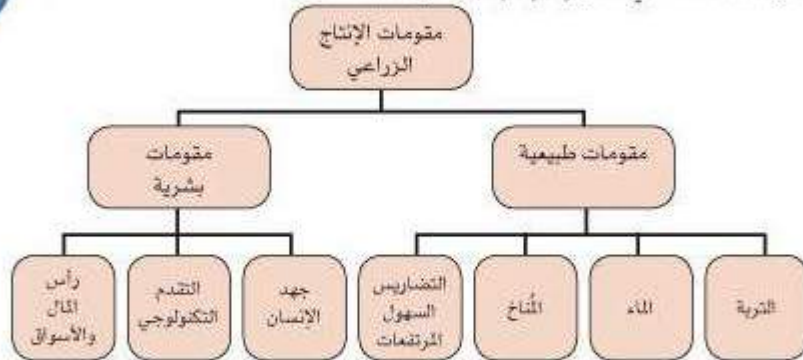
.....

.....

.....



اقرأ المخطط التالي شكل (٦٩) ثم أجب عن الأسئلة:



• أكمل الفراغات في العبارات التالية:

- ١ - من العوامل الطبيعية للإنتاج الزراعي التربة و.....
- ٢ - من العوامل البشرية للإنتاج الزراعي توفر..... ورأس المال و.....

• ما هي المحاصيل العربية التي تمثل أهمية بالنسبة لدول العالم؟

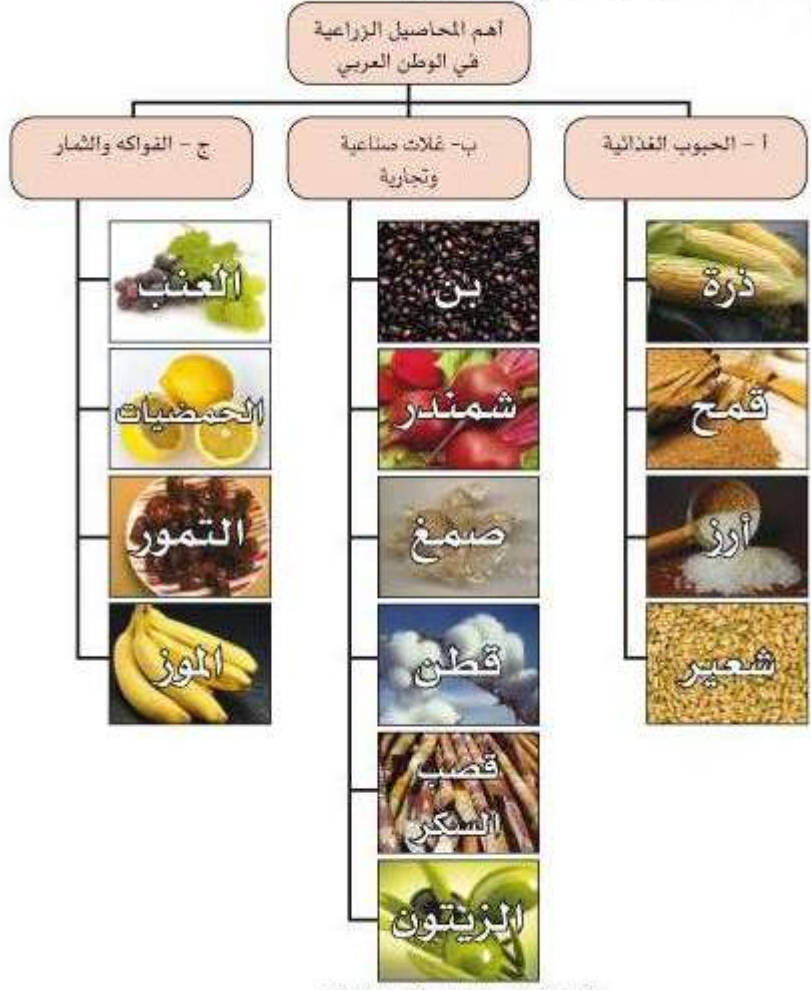
تعرف عزيزي المتعلم على مناطق الزراعة في الوطن العربي، كالتالي:

- ١ - وادي النيل ودلتاه بمصر والسودان.
- ٢ - السهول الساحلية في شمال غرب أفريقيا.
- ٣ - وادي دجلة والفرات في العراق وسوريا.
- ٤ - اليمن وجنوب الجزيرة العربية.

فما مصادر المياه الرئيسية في الوطن العربي؟ (راجع الوحدة الأولى من هذا الكتاب).



- أهم المحاصيل الزراعية في الوطن العربي:



شكل (٧٠) المحاصيل الزراعية في الوطن العربي



٢- الحبوب الغذائية:

تعتبر الحبوب الغذائية أهم المزروعات في الوطن العربي حيث تشغل مساحة كبيرة من الأراضي المزروعة، وتؤثر كمية الأمطار على إنتاجها من عام إلى آخر. ويأتي في مقدمتها القمح والأرز والذرة.

لاحظ الصور وتعرف عليها:



الذرة في المغرب

الأرز في مصر

القمح في سوريا

● تعرف على الدول التي تحتل المراكز الأولى في الإنتاج.

| الذرة (الشامية) | القمح | الشعير | الأرز | الغلة الزراعية |
|--------------------|----------|---------|--------|-------------------|
| مصر | مصر | المغرب | مصر | الدول العربية |
| المغرب | السعودية | سوريا | العراق | |
| السودان | المغرب | الجزائر | المغرب | |

شكل (٧١) الدول العربية التي تصدر المراكز الأولى في إنتاج الحبوب الغذائية

ما مدى كفاية هذه المحاصيل لسد احتياجات دول الوطن العربي ؟

٣- الغلات الصناعية والتجارية:

وتشمل الغلات الزراعية التي تدخل في الصناعة، وتزرع بغرض التجارة والحصول على نقد ولذلك تسمى (الغلات النقدية)



لاحظ الصور وتعرّف عليها:



زراعة قصب السكر في السودان

زراعة التين في اليمن

زراعة القطن في مصر

● تعرّف على الدول التي تحتل المراكز الأولى في الانتاج.

| الغلة الزراعية | القطن | التين | قصب السكر |
|----------------|---------|-------|-----------|
| الدول العربية | مصر | اليمن | مصر |
| | السودان | - | السودان |
| | سوريا | - | المغرب |

شكل (٧٢) الدول العربية التي تصدر المراكز الأولى في إنتاج الغلات النضمية

٤ - الفواكه والأشجار المثمرة:

تتطلب ظروف مناخية خاصة تتركز معظمها في حوض البحر المتوسط وتزرع منها أنواع كثيرة.

لاحظ الصور وتعرّف عليها:



زراعة الموز في الصومال

زراعة الموالح في لبنان

زراعة العنب في سوريا




● تعرّف على الدول التي تحتل المراكز الأولى في الإنتاج.

| الموز | الموالج | تمور | العنب | الغلة الزراعية |
|---------|---------|----------|---------|----------------|
| الصومال | مصر | السعودية | سوريا | الدول العربية |
| --- | لبنان | مصر | مصر | |
| --- | سوريا | العراق | الجزائر | |

شكل (٧٢) الدول العربية التي تحتل المراكز الأولى في إنتاج الفواكه والأشجار المثمرة



• ما المشكلات التي تعاني منها الزراعة في الوطن العربي؟
اقرأ الرسوم البيانية ولاحظ الصور



عدم استغلال الأراضي الصالحة للزراعة وذلك للأسباب التالية:

- ١ - نقص موارد المياه.
- ٢ - اعتماد بعض الأراضي الزراعية على مياه الأمطار فتصبح مناطق شبه جافة.
- ٣ - ارتفاع نسبة الملوحة في تربة الواحات والسهول.
- ٤ - اتباع بعض الدول الأساليب التقليدية في الزراعة.
- ٥ - قلة الأيدي العاملة في الزراعة نظرا للهجرة من الريفي إلى المدن.



أنشطة وتدريبات

أكمل الفراغات في العبارات التالية:

- ١ - تتنوع المحاصيل الزراعية في الوطن العربي بتنوع.....
- ٢ - تعتمد زراعة المحاصيل الزراعية في الوطن العربي على مياه الإنهار ومياه.....
- ٣ - تنفرد اليمن بزراعة محصول..... والصومال بزراعة محصول..... عن باقي الدول العربية.
- ٤ - تتنافس مصر والسعودية احتلال المركز الأول في زراعة نوع من أنواع الحبوب يعرف باسم.....
- ٥ - يطلق اسم الغلات الصناعية والتجارية على محصول قصب السكر و.....

علل:

- تركز زراعة الحمضيات والمواالح في حوض البحر المتوسط.

.....

- انتشار زراعة النخيل بكثرة في السعودية.

.....

- تفوق مصر في زراعة القطن عالمياً.

.....

أكمل الجدول التالي:

| أشهر المحاصيل الزراعية | الدولة العربية |
|------------------------|----------------|
| | السودان |
| | سوريا |
| | العراق |



ابحث عن مفهوم كل من:

- الزراعة التقليدية والزراعة الحديثة.

.....
.....
.....

- ما أهمية الزراعة في حياتنا.

.....
.....
.....



ثانياً: الإنتاج الحيواني

يمتلك الوطن العربي أعداداً متنوعة من الثروة الحيوانية التي تساهم في موارد الدخل لكثير من الدول العربية، وهي ثروة قابلة للزيادة والنمو إذا ما تدخل الإنسان بعلمه واجتهاده ووسائله الحديثة لرعايتها وتنظيم استغلالها وتحسين أنواعها وإعداد الغذاء الكافي لها.

وتربى هذه الحيوانات في المراعى وبعضها في الأراضى الزراعية.



مزارع تربية النواجن



مزارع تربية الأبقار

١- الثروة الرعوية:

استعن بما درست في الوحدة الأولى من هذا الكتاب وأجب عن الأسئلة التالية:

١ - أين تمتد مناطق حشائش السافانا (المراعى الحارة) في الوطن العربي؟

٢ - أين توجد المراعى المعتدلة في الوطن العربي (الإستبس)؟

انظر للصورة شكل (٧٤) يمتلك الوطن العربي أنواع كبيرة من الثروة الرعوية



الأبقار

الماعز

الأغنام

الإبل

شكل (٧٤) يوضح أنواع الثروة الرعوية في الوطن العربي

● ما أهمية هذه الثروة في حياتنا؟

- كم يبلغ إنتاج الوطن العربي من هذه الثروة؟

| أبقار | أغنام | ماعز | إبل |
|-------|--------|------|-----|
| ٤٥ | ١١٦,٦٦ | ٦٤ | ٤٩ |

شكل (٧٥) نصيب الوطن العربي من الثروة الرعوية (مصدر مليون رأس)

ادرس الجدول رقم (٧٦) وأجب عن الأسئلة:

| الرقم | الأغنام | نسبة الإنتاج | الماعز | نسبة الإنتاج | الأبقار | نسبة الإنتاج | الإبل | نسبة الإنتاج |
|-------|---------|--------------|---------|--------------|---------|--------------|----------|--------------|
| ١ | المغرب | ١٤,٧ | مصر | ٣,٨ | السودان | ٢٢ | الصومال | ٦,٦ |
| ٢ | السودان | ١٨,٥ | المغرب | ٥,٨ | مصر | ٦,٢ | السعودية | ١,٨٥٠ |
| ٣ | العراق | ٩,٢ | السودان | ١٢,٥ | المغرب | ٢,٢ | السودان | ٢,٨ |

شكل (٧٦) يوضح جدول أعداد الثروة الرعوية (مليون رأس)

١- ما الدول التي تتصدر المراكز الأولى بما تملكه من الثروة الرعوية ؟

٢- علل: امتلاك الصومال ٦,٦% من ثروة الوطن العربي من الإبل.

● تحتل الأغنام العربية مكاناً مهماً ضمن الثروة الرعوية ويرجع ذلك للأسباب التالية:



- ١- الأكثر إنتشاراً هي المراعى العربية.
- ٢- أكثر الحيوانات المستأنسة ملائمة لمراعى الوطن العربي ولتحملها الجفاف والانتقال.
- ٣- أهمية منتجاتها بالنسبة للسكان.
- ٤- مصدر أساسي من مصادر الثروة القومية.



٢- تربية الدواجن والطيور

تنتشر تربية الدواجن والطيور في جميع الأقطار (دول) العربية ويكفي الإنتاج فيها حاجة السكان المحلية في معظم الدول،



١ - ما العوامل التي ساعدت على انتشار مزارع الدواجن في الوطن العربي؟

٢ - ما أهم المشكلات التي واجهت تربية الدواجن في السنوات الأخيرة؟ وكيف يمكن تفاديها.

٣ - الثروة المائية

دول الوطن العربي دولاً بحرية لها سواحل ومستطحات مائية واسعة منها المالحة ومنها العذبة، لذلك تتنوع الثروة المائية في الوطن العربي.

لاحظ الصورة



شكل (٧٧) يوضح مزارع الأسماك النهرية بمصر.

- عدد أسماء بعض الأسماك في مياه الخليج العربية؟

.....

.....



| الرقم | الدولة | الانتاج | الرقم | الدولة | الانتاج |
|-------|-----------|---------|-------|----------|---------|
| ١ | اليمن | ٤٣٢,٠ | ٥ | تونس | ١٠٤,٣ |
| ٢ | عمبر | ٨٦٨,٧ | ٦ | الجزائر | ١٢٨,٢ |
| ٣ | موريتانيا | ٨٢٢,٨ | ٧ | عمان | ١٥١,٦ |
| ٤ | المغرب | ٩٦١,١ | ٨ | الإمارات | ١٠١,٧ |

اقرأ الجدول التالي ثم أجب:

- ١ - رتب الدول الخمس الأولى في كمية الإنتاج ترتيبا تنازليا.
- ٢ - عدد ثلاث دول عربية تحتل المراكز الأولى في الإنتاج.
- ٣ - علل: مساهمة المغرب بأكثر من ثلث الإنتاج العربي من الأسماك.

شكل (٧٨) الإنتاج السمكي في بعض دول الوطن العربي

- ثروات مائية أخرى: لاحظ الصور التالية:



شكل (٧٩) الثروات المائية

١- ما أهميتها اقتصاديا ؟

.....



أنشطة وتدريبات

● صمم مع زملائك مجلة حائطية اجمع فيها صوراً تمثل الثروة الحيوانية في الوطن العربي مع ذكر أهميتها ومناطق تواجدها.

● ابحث عن:

١ - أسباب تدهور الإنتاج السمكي في مياه الخليج العربي خلال السنوات الحالية.

.....

٢ - الأساليب الحديثة التي اتبعتها بعض الدول العربية لزيادة إنتاجها من الثروة الزراعية والحيوانية رغم صعوبة الظروف الطبيعية

.....

٣ - كيف يمكن تنمية الثروة السمكية؟

.....

.....



ثالثاً: الطاقة والثروة المعدنية

يمتلك الوطن العربي ثروة معدنية كبيرة لها أهميتها محلياً وعالمياً حيث ينتج العديد من الخامات المعدنية ومصادر الطاقة الأساسية لقيام الصناعة بكافة أنواعها .

لاحظ الصور



الصناعات القائمة على معدن الحديد؟



كيف تتم عملية استخراج النفط؟



ما مصادر الطاقة الحديثة؟



ما أهمية معدن الحديد في الصناعة؟

- ماذا نستفيد من هذه الثروة المعدنية؟

.....

- أين توجد؟ (من أين تستخرج؟)

.....



النفط، بقايا عضوية على هيئة نباتات وحيوانات دقيقة ترسبت في عصور قديمة وانظمرت تحت زواجب سمكية وتحولت بالضغط والحرارة إلى صورتها الحالية.

الغاز الطبيعي: غاز مصاحب للنفط الخام أو يتواجد منفردا تتم إزالته لاستخدامات عديدة.

الطاقة: قوى محرّكة للألات وعنصر مهم للتقدم والتطوّر الاقتصادي في جميع المجالات.

١- النفط والغاز الطبيعي:

يعد النفط والغاز الطبيعي من أهم مصادر الطاقة التي تقوم عليها صناعات مهمة لا غنى عنها في حياتنا، فهما بالنسبة لاقتصاد الدول العربية:



١- قوة محرّكة للألات والمصانع:

٢- مصدر لرؤوس الأموال:

٣- مادة خام للعديد من الصناعات المهمة.

٤- أساس لمشروعات التنمية وال عمران.

لاحظ الصور



حقول النفط والغاز



تكرير النفط



استخراج النفط



حقول بحرية



صهاريج نفطية

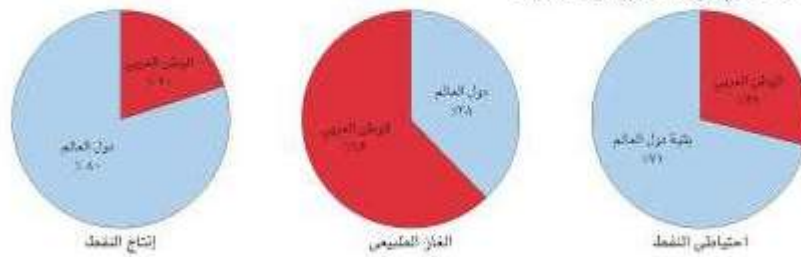


استخراج الغاز الطبيعي



• يأتي وطننا العربي في المراكز الأولى في مجال إنتاج النفط، واحتياطيه والغاز الطبيعي على المستوى العالم.

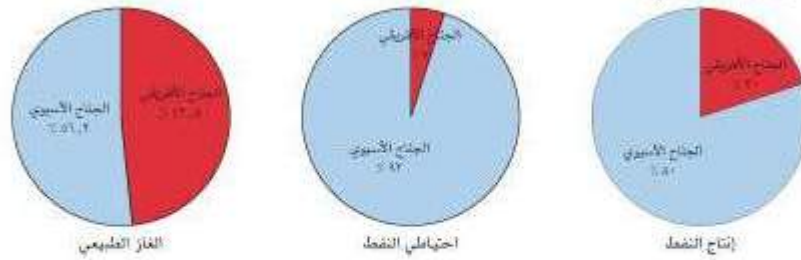
لاحظ الرسومات البيانية التالية:



تتركز معظم الحقول النفطية في ثلاث مناطق رئيسية:

- دول الخليج العربية وسهول دجلة والفرات (إنتاجها يوازي 80%).
- منطقة الشمال الصحراء الكبرى (إنتاجها يوازي 18%).
- منطقة خليج السويس (إنتاجها يوازي 2.7%).

• يتفوق الجناح الآسيوي في الوطن العربي على الجناح الإفريقي في إنتاج النفط واحتياطيه والغاز الطبيعي.





| الرقم | الدول العربية | إنتاج النفط | احتياطي النفط | احتياطي الغاز الطبيعي |
|-------|---------------|-------------|---------------|-----------------------|
| ١ | الإمارات | ٥٩١ | ٥٧,٨٠ | ٦,٠٧٢ |
| ٢ | البحرين | ١٨١ | ٠,١٢ | ٩٢ |
| ٣ | تونس | ٦٥ | ٠,٤١ | ٧٨ |
| ٤ | الجزائر | ١,٢٤٥ | ١٢,٢٧ | ٤,٥٦٢ |
| ٥ | السعودية | ٩,٢٠٨ | ٢٦٥,٢٥ | ٧,١٥٢ |
| ٦ | سوريا | ٤٢٢ | ٢,٠٠ | ٢١٠ |
| ٧ | العراق | ١,٩٦٥ | ١٦٥,٠٠ | ٢,١٧٠ |
| ٨ | قطر | ٨٢٠ | ١٥,٢١ | ٣٥,٧٩٢ |
| ٩ | الكويت | ٢,٦٤٤ | ١٠١,٥٠ | ١,٥٩٦ |
| ١٠ | ليبيا | ١,٢٠٠ | ٤١,٤٦ | ١,٤٩١ |
| ١١ | مصر | ٦٣٤ | ٢,٧٢ | ١,٩٤٢ |
| ١٢ | السودان | ٢٩٥ | ٥,٠٠ | ٨٦ |
| ١٣ | عُمان | ٧٢٨ | ٥,٤٠ | ٨٥٦ |
| ١٤ | اليمن | ٤١٥ | ٢,٠٠ | ٤٧٩ |

شكل (٨٠) إنتاج دول الوطن العربي- إحصاء (٢٠٠٦ م) ألف برميل يومياً

● تصدر الدول العربية معظم انتاجها من النفط والغاز الطبيعي إلى خارج الوطن العربي.

- كيف يتم تصدير النفط؟ لاحظ الصور واستنتج الإجابة ثم اكتبها أسفل الصور





أهمية النفط العربي

يتمتع النفط العربي بمكانة مهمة على المستوى العالمي نظرا لأهميته للدول الصناعية المتقدمة في أوروبا واليابان والولايات المتحدة ويرجع ذلك للأسباب التالية:

- ١ - ضخامة الإنتاج وتزايدده باستمرار .
- ٢ - الموقع الاستراتيجي لحقول النفط وقربها من الأسواق .
- ٣ - انخفاض تكلفة إنتاج البرميل الواحد .
- ٤ - ارتفاع نسبة احتياطي النفط واستمرار نموه بسبب الاكتشافات النفطية الجديدة .

اقرأ الفقرة ولاحظ الصور:

● يطلق على الغاز الطبيعي اسم الطاقة النظيفة إذ لا ينتج عن احتراقه ظهور الملوثات التي تنبع من احتراق المنتجات النفطية لذلك يدخل في استخدامات عديدة .

● يتشوق الغاز الطبيعي على النفط لخلوه من مادة الكبريت والرصاص مما يؤدي إلى عدم حاجته إلى عمليات التكسير التي يتطلبها تعدين النفط .



الصناعات البتروكيميائية



توليد الكهرباء



الاستعمال المنزلي



تحلية المياه



٢- التعدين في الوطن العربي

يملك الوطن العربي مجموعة من المعادن المهمة تتفاوت كميات إنتاجها من دولة لأخرى.

انظر للصورة:



معدن الرصاص

معدن البوتاسات

معدن الحديد

معدن النحاس

١- أين تتوزع تلك المعادن؟

٢- كم تبلغ نسب إنتاجها عالمياً؟

● اقرأ الخريطة ثم اكمل المطلوب:



شكل (٨١) خريطة توضح التعدين في دول الوطن العربي



| الدول المنتجة | | المعدن | | |
|---------------|----------|----------|----------|--------|
| | | الفوسفات | | |
| | | الحديد | | |
| | | النحاس | | |
| | | الرصاص | | |
| النحاس | المنجنيز | الرصاص | الفوسفات | الحديد |
| ١٢,٠% | ٢,٢% | ٦,٦% | ٢٥% | ١,٢% |

شكل (٨٢) نسبة إنتاج الوطن العربي بالنسبة للعالم

تشغل موريتانيا المرتبة الأولى في إنتاج معدن الحديد حيث تساهم بنسبة ٦٨% من إنتاج الوطن العربي. تنصدر المغرب المراكز الأولى في ما تملكه من معدن الفوسفات والنحاس والرصاص والمنجنيز.

- ابحث عن معادن أخرى ثمينة يمتلكها الوطن العربي.



أنشطة وتدريبات

- ضع علامة (✓) أو (X) على يمين كل عبارة وصحح العبارة الخطأ إن وجد:
- ١- () يعتبر الغاز الطبيعي من مصادر الطاقة الأساسية في الوطن العربي.
 - ٢- () تحتزن أراضي الوطن العربي ٩٠٪ من الاحتياطي العالمي.
 - ٣- () ينتج النفط العربي في جميع دول الوطن العربي.
 - ٤- () معظم إنتاج الوطن العربي من النفط يأتي من منطقة شمال الصحراء الكبرى.
 - ٥- () تعتبر السعودية من أكثر دول الوطن العربي إنتاجاً واحتياطاً للنفط العربي.

اجب عن الاسئلة التالية:

١ - بماذا يمتاز النفط العربي؟

.....

٢ - ما الدول الأكثر استيراداً للنفط العربي؟

.....

٢ - ما أثر العائدات النفطية على اقتصاد العربي بوجه عام والخليجي بوجه خاص؟

.....

علل: يطلق على الغاز الطبيعي بالطاقة النظيفة.

.....

نشاط لاصفي:

١ - عدد أسماء الحقول والموانئ النفطية في منطقة الخليج العربية والبحر الأحمر والبحر المتوسط.

.....

.....

.....



٣ - المنظمات الاقتصادية الإقليمية

أ- منظمة الدول المصدرة للنفط (أوبك)

ب- منظمة الأقطار العربية المصدرة للنفط (أوابك)

مع زيادة الإنتاج النفطي واحتكار الشركات العالمية المستقلة للنفط إنتاجه ونقله وتكريره وحفاظا على حقوق الدول المصدرة للنفط تم التفكير في إنشاء منظمات عربية وعالمية تكفل ذلك .

تعرف على تلك المنظمات:

| | |
|---|--|
| <p>أ - منظمة الدول المصدرة للنفط (أوبك)</p> | |
|---|--|

● منظمة الأقطار المصدرة للنفط هي منظمة عالمية تعتمد على صادراتها النفطية اعتمادا كبيرا لتحقيق مدخولها، وقد تأسست في بغداد عام ١٩٦٠ من خمس دول هي الكويت، السعودية، العراق، إيران، فنزويلا واتخذت حاليا من فيينا مقراً لها.



مقر منظمة الدول المصدرة للنفط في فيينا

١ - ما عدد دول الأعضاء في المنظمة؟

٢ - ما أهدافها؟

● تضم منظمة الأوبك حاليا أحد عشر دولة بعد انسحاب كل من الغابون وأندونيسيا والأعضاء الحاليون هم: نيجيريا - الجزائر - إيران - العراق - الكويت - السعودية - قطر - الإمارات - الأكوادور - فنزويلا - أنغولا - هل هنالك أعضاء جديدة ابحت عن ذلك



ممثل دولة قطر في إحدى اجتماعات المنظمة

● تحرص المنظمة على استقرار أسعار النفط في الأسواق العالمية (هدفها الأساسي) من خلال اجتماعات المنظمة والتي تعمل من خلال الأجهزة التالية:

١- المؤتمر

٢- مجلس المحافظين

٣- الأمانة العامة



ب - منظمة الدول العربية المصدرة للنفط
(أوبك)



- أنشأت منظمة الدول العربية للمصدرة للنفط (أوبك) باتفاقية أبرمت في عام ١٩٦٨ بين كل من الكويت والسعودية وليبيا وإتفق على أن تكون الكويت مقراً للمنظمة.
- ١ - ما عدد دول الأعضاء في المنظمة؟
 - ٢ - ما أهدافها
- تضم منظمة الأوبك حالياً أحد عشر دولة هم:
- السعودية - الإمارات - البحرين - تونس - الجزائر - سوريا - العراق - قطر - الكويت - ليبيا - مصر .



مقر المنظمة العربية للدول المصدرة للنفط في الكويت

ويعد إنشاؤها إنجازاً مهماً نظراً لحاجة الدول العربية المنتجة للنفط إلى تعميق التعاون فيما بينها في مختلف أوجه النشاط الاقتصادي في صناعة النفط وتأمين وصول النفط إلى الأسواق الاستهلاكية بشروط وأسعار عادلة .



أمير دولة الكويت في إحدى اجتماعات منظمة الأوبك

ومنظمة الأوبك تسهم في تطوير الصناعات البترولية في جميع المجالات وتبادل الخبرات ولها علاقات تعاون مع منظمة الأوبك نظراً لوجود سبعة من أعضائها.

أجهزة المنظمة:

- ١ - المجلس الوزاري
- ٢ - المكتب التنفيذي
- ٣ - الأمانة العامة

بالتعاون مع زملائك: أعد تقريراً حول إنجازات إحدى المنظمتان

رابعاً: الإنتاج الصناعي

في المنزل، في الشارع وفي المدرسة نستخدم أدوات وآلات متنوعة هالتلفاز والغاز والأثاث والمفروشات والسيارة وغيرها كلها مصنوعة من خامات متعددة تم تصنيعها كي تستخدمها أو نستهلكها لتسهل علينا حياتنا .

لاحظ الصور وتعرف على نماذج من الأنشطة الصناعية .



مؤسسة صناعية ضخمة لتصناعة المواد الغذائية



مؤسسة صناعية صغيرة لصنع لسجاد

شكل (٨٢) مؤسسة صناعية تعمل بمعدات وأيدي عاملة ومواد خام لإنتاج سلع متنوعة

كيف تتم عملية التصنيع ؟



١- عرف المفاهيم التالية:

..... سلعة:

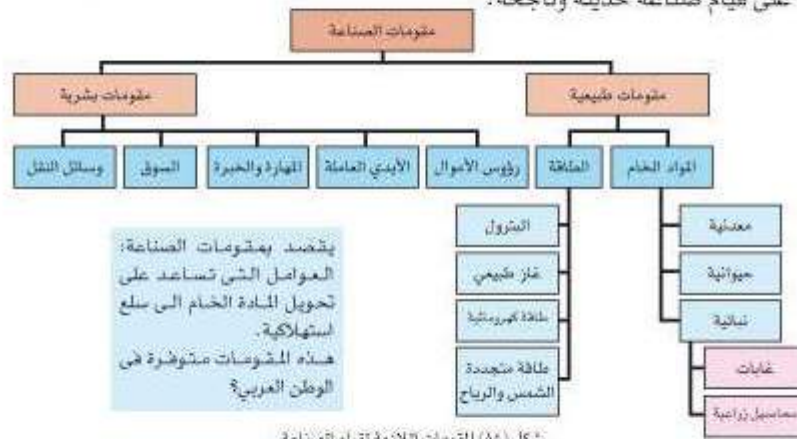
..... صناعة:

..... مؤسسة:

..... سوق :



- ١- كيف تعمل المؤسسة الصناعية؟
 - ٢- من يعمل فيها؟
 - ٣- ما أهمية الصناعة في الوطن العربي؟
 - ٤- ما العوامل الطبيعية والبشرية المؤثرة في قيام الصناعة؟
- شهدت معظم دول الوطن العربي حركة نهوض وتطور كبير نحو الصناعة الحديثة باعتبارها من الأنشطة الاقتصادية التي تنمي الدخل القومي وتساعد على توفير فرص العمل واستغلال المواد الخام المختلفة.
- تقوم الصناعة على مجموعة من المقومات الطبيعية والبشرية الأساسية التي تساعد على قيام صناعة حديثة وناجحة.



شكل (٨٤) المقومات اللازمة لقيام الصناعة

أنواع الصناعة في الوطن العربي

١- الصناعات الاستخراجية:




استخراج النفط

وتقتصر فقط على استخراج مصادر الطاقة كالفحم والغاز والفحم وخامات المعادن والأملاح وغيرها من باطن الأرض، وإعدادها لتصبح جاهزة للتصنيع.

- هل توجد في جميع دول الوطن العربي صناعات استخراجية مهمة؟ وأين تتركز؟

٢- الصناعات التعدينية:



صناعة صفائح النحاس

وتهدف الى تنقية الخامات المعدنية وتحويلها الى صفائح أو سبائك صالحة لتنفيذ صناعات معدنية مختلفة، فيعد استخراج خامات الحديد والنحاس مثالا يتم فصل كل معدن عن المواد الأخرى فتحصل على سبائك أو صفائح من الحديد أو النحاس تمثل مادة أولية لصناعة الآلات والمعدات والسيارات.

- بماذا ترتبط الصناعات التعدينية؟

.....
 - هل توجد في كل البلدان العربية؟



صناعة سبائك الحديد

- ما أهم الدول؟

.....



٣- الصناعات التحويلية:

وهي تقوم على تحويل المواد الأولية من معدنية ، نباتية ، وحيوانية إلى سلع استهلاكية صالحة للاستعمال، حيث تؤمن حاجات الإنسان من مسكن وغذاء ولباس وأدوات وآلات وتشمل:

الصناعات الغذائية - صناعة المنسوجات - صناعة الخشب والورق - صناعة مشتقات النفط المكررة - الصناعات البتروكيمياوية - الصناعات الإنشائية.

لاحظ الصور شكل (٨٥) وتعرف على أهم أنواع الصناعات التحويلية:

صناعات تحويلية غذائية:



صناعة الخبوزات



صناعة الأجبان

صناعات تحويلية كيميائية:



صناعة ابواب التنظيف



صناعة الأصباغ

صناعات تحويلية أخرى:



صناعة الورق



صناعة الملابس



صناعة تجميع قطع السيارات

٤- الصناعات التجميعية:

هي عملية تركيب وجمع المواد المصنعة ، على اختلاف مصادرها كي نحصل على سلع متنوعة .

٥- الصناعات الحرفية:

تعتبر هذه الصناعات الأولى في العالم ، وتستخدم مواد أولية محلية وتعتمد على المجهود البشري، وتختص بعض العائلات بإحتراف بعض منها حيث يتوارث فيها الأبناء الخبرة عن آباؤهم

(اعطى أمثلة)



صناعة الخوص



صناعة الفخار



صناعة الشوكة



صناعة السجاد

شكل (٨٦) الصناعات الحرفية في دول الوطن العربي



٦- الصناعات البتر وكيمياوية:

يستخرج الوطن العربي كميات كبيرة من النفط والغاز (كما عرفت في الدرس السابق) يستخدم قسم كبير منها في صناعات بتر وكيمياوية متعددة، - عدد مشتقات النفط.

- سمي بعض الصناعات البتر وكيمياوية التي تقوم عليها .

لاحظ الصور وتعرف إلى بعض أنواع الصناعات البتر وكيمياوية:



صناعة الاسمنت



صناعة الأسمدة



صناعة انابيب البلاستيك

شكل (٨٧) بعض الصناعات البتر وكيمياوية

| | |
|--|---|
| <p>أهداف الصناعة البتر وكيمياوية:</p> <ul style="list-style-type: none">• تنوع مصادر الدخل للدولة المنتجة.• توفير المواد الأولية للصناعات التحويلية لتأمين حاجات الشطانات الاستهلاكية (خاصة مجال البناء).• تطوير الصناعة في الوطن العربي حيث تحتاج الصناعات البتر وكيمياوية إلى تقنيات متخصصة وعالية. | <p>١- ما الصناعات البتر وكيمياوية التي تقوم على الغاز الطبيعي؟</p> <p>٢- أين تتركز صناعة البتر وكيمياويات في الوطن العربي؟</p> <p>٣- سمي بعض الصناعات التحويلية التي تتركز على صناعة البتر وكيمياويات؟</p> <p>٤- ما أهمية الصناعات البتر وكيمياوية؟</p> |
|--|---|



أنشطة وتدريبات

• أكمل الفراغات التالية:

- ١ - الصناعة هي تحويل المواد الخام من.....
 - ٢ - لقيام صناعة ناجحة لابد من توافر المقومات.....و.....
- صنف الصناعات حسب أنواعها في الجدول التالي:
(تعليب الفواكه والخضار - الأثاث - استخراج المعادن - زجاج - أنسجة صوفيه - قطع الأخشاب - إسمنت - صيد الأسماك - الرخام - زيوت وبيلاستيك - صهر الحديد)

| صناعات تحويلية | صناعات إستخراجية |
|----------------|------------------|
| | |

- أكتب في الجدول أهم الصناعات القائمة في الدول التالية:

| الصناعات | الدولة العربية |
|----------|----------------|
| | مصر |
| | الأردن |
| | السعودية |
| | المغرب |
| | الكويت |
| | الجزائر |

اكتب اسم الخام المعدني الذي يدخل في تصنيع كل منتج من المنتجات في الجدول الآتي:

| الخام المعدني | المنتج الصناعي |
|---------------|------------------|
| | الأسعدة |
| | مواد البناء |
| | المبيدات الحشرية |

- ما الصناعات التي تقوم على المحاصيل الزراعية في الوطن العربي؟

.....



خامساً: النقل والتبادل التجاري

١- النقل



وسائل النقل متنوعة

تعد وسائل النقل والمواصلات من المقومات الأساسية التي تسهم في استغلال وتنمية الموارد الاقتصادية فالتبادل التجاري ودرجه نشاطه يعتمد على مدى توافر وسهولة سبل النقل ووسائله البرية، الجوية، البحرية.

- ما أنواع طرق المواصلات التي تربط الدول العربية؟

للإجابة عن مثل هذا السؤال ادرس المخطط السهمي، والنص التابع له على النحو التالي:



يعتمد النشاط الاقتصادي والتبادل التجاري بين الدول العربية على وجود وسائل نقل متعددة من خطوط المواصلات التي تربط مناطق الإنتاج بالأسواق، ولقد اهتمت الدول العربية اهتماماً كبيراً بتحديث شبكة المواصلات والاتصالات ومدت الجسور الطرقات تحقيقاً لتطلعاتها المستقبلية.



طرق النقل البرية:

تشتمل على طرق السكك الحديدية (القطارات)، السيارات والشاحنات



سكة حديدية في مصر

يمتلك الوطن العربي سككا حديدية قليلة منفصلة عن بعضها البعض تسهم في نقل البضائع بكميات قليلة إذا ما قورنت بوسائل النقل الأخرى مثل السيارات والشاحنات التي تحتل أهمية كبرى في البلاد العربية.



نقل البضائع من سوريا

١ - ما الدول العربية التي تتوافر لديها سكك حديدية؟

٢ - ما الطرق الممهدة لعبور السيارات والشاحنات بين الدول العربية؟

٣ - ما نوع البضائع التي تنقل برا بين دول الوطن العربي؟

٤ - علل: ضرورة نقل البضائع بوسائل حديثة ومتطورة؟



طرق النقل المائية:

وتشتمل على طرق النقل المائي بواسطة الأنهار وطرق النقل المائي الخارجي في البحار والمحيطات.

١- النقل النهري:

يقتصر على نهر النيل في مصر والسودان ونهر دجلة والفرات بالعراق.

علل: يختلف نشاط حركة الملاحة النهرية في مصر والسودان عنها في نهري دجلة والفرات.



النقل البحري في مياه البحر المتوسط

٢ - النقل البحري:

يتمتع الوطن العربي بسواحل ومناهب بحرية طويلة ساعدت على إنشاء العديد من الموانئ التجارية والنفطية.

- عدد ثلاثة من الموانئ التجارية في الوطن العربي (استعن الأطلس).

طرق النقل الجوية:

تعتبر من الوسائل السريعة التي ربطت بين الأقطار العربية برحلات جوية من أقصى الغرب إلى أقصى الشرق.

- عدد أسماء ثلاثة من العواصم العربية تتواجد بها مطارات دولية.



النقل الجوي



أنشطه وتطبيقات

- استعن بالأطلس المدرسي لحل السؤال التالي:
توجهت باخرة محملة بالنفط من مدينة الظهران بالسعودية إلى مدينة الدار البيضاء في المغرب عن طريق البحر الأحمر.
- ما المنافذ البحرية التي يمكن أن تمر بها أثناء الرحلة.

.....

.....

.....

- علل:

- ١ - قلة حجم النقل النهري بالنسبة لباقي وسائل النقل في الوطن العربي

.....

- ٢ - الطرق البرية أكثر انتشارا من السكك الحديدية

.....

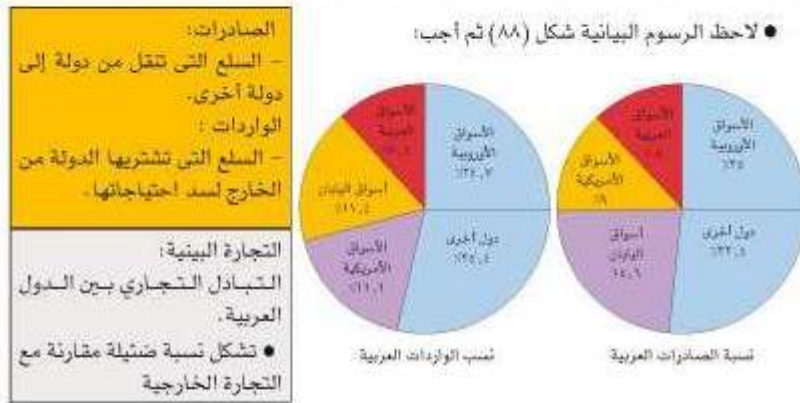
- ٣ - اهتمام الدول العربية بتحديث شبكة المواصلات

.....



٢- التبادل التجاري

- يقصد بالتبادل التجاري عمليتي التصدير والاستيراد بين الدول.
- هنالك علاقات تجارية بين كافة الدول العربية حجمها وقيمتها محدودة
- ما السلع التي يتم استيرادها أو تصديرها بين الدول العربية ؟



١ - الأسواق التي تحتل المكانة الأولى بالنسبة لتجارة الواردات العربية هي.....



أسواق عربية

٢ - الأسواق التي تحتل المكانة الأولى بالنسبة لتجارة الصادرات العربية هي.....

٣ - نسبة الصادرات بين الدول العربية..... ونسبة الواردات.....



أنشطة وتدريبات

١ - أجب عن التالي:

١ - ما الفرق بين مفهوم الصادرات والواردات ؟

.....

٢ - علل:

أ - قلة التبادل التجاري بين دول الوطن العربي.

.....

ب - معظم صادرات دول الخليج العربية من النفط الخام.

.....

٣ - سجل في كراسة النشاط اللاصفي أسماء بعض أنواع السلع المستوردة من بلاد أجنبية، وأخرى واردة من بلاد عربية ؟

٤ - ضع علامة (✓) أو (X) على يمين العبارة، وصحح العبارات الخاطئة:

● () تتميز التجارة العربية بحجمها الكبير بين دول الوطن العربي.

● () تتألف معظم الواردات العربية من السلع الانتاجية.

● () تعتبر السلع العربية سلع مصنوعة.

٥- اقترح وسيلة لتنمية التجارة بين الدول العربية ؟

.....

.....

الوحدة الرابعة

الوطن العربي
قضايا وتحديات



أولاً : المشكلات الأساسية في الوطن العربي

- ١ - المشكلات المرتبطة بالزراعة.
- ٢- مشاكل استثمار المياه.
- ٣- التلوث البيئي.

ثانياً : نحو مستقبل عربي أفضل :

- ١ - التنمية في الوطن العربي سبيلنا لمستقبل أفضل.
- أ - التنمية الاقتصادية.
- ب - التنمية البشرية.

تابع الوحدة الرابعة

ج - التنمية المستدامة.

٢ - التعاون والتضامن العربي لتحقيق التقدم والتنمية.

- دور الجامعة العربية في السعي نحو تحقيق التكامل بين الدول العربية.
- مؤسسات التعاون العربي المشترك.
- نموذج لتعاون عربي مشترك بين دول ذات انتماء جغرافي
- دور دولة الكويت في العمل العربي المشترك





الوطن العربي قضايا وتحديات



شكل (٨٩) صور توضح المشاكل المرتبطة بالزراعة

أولاً: المشكلات الأساسية في الوطن العربي بعد أن تعرّفت في الوحدة السابقة على ثروات الوطن العربي، وأن هذه الثروات لا تستغل على الوجه الأمثل بما يحقق الاكتفاء والرفاه والازدهار لكافة أبناء الوطن العربي.

ستعرّف في هذه الوحدة على التحديات والمشاكل الاقتصادية والبيئية التي تواجه دول الوطن العربي، والسياسات والخطط التي تم اتخاذها لمواجهة هذه التحديات.

١- المشكلات المرتبطة بالزراعة

تعاني الزراعة في الوطن العربي من مشاكل متعددة (اذكرها) ؟

- ما سمات المشكلة الزراعية في العالم العربي ؟
 - كيف يمكن مواجهتها ؟
 - ما هي الأسباب التي تم تنفيذها على أرض الواقع ؟
- اقرأ الملخص التالي: العقبات التي تواجه الإنتاج الزراعي:

- عدم استغلال جميع الأراضي القابلة للزراعة لندرة مياه الري أو تذبذب الأمطار أو قلة الأيدي العاملة.
- اتباع طرق الزراعة التقليدية في معظم أجزاء الوطن العربي.
- زحف الرمال (التصحّر) وانجراف التربة.
- الرعي الجائر (رعي غير منظم) الذي يحول المراعي إلى أراضي جرداء.
- تلوث التربة نتيجة الاسراف في استخدام المبيدات وارتفاع نسبة الملوحة في التربة.

ما الأسباب التي تحد من استثمار الأراضي الزراعية في الوطن العربي ؟

.....

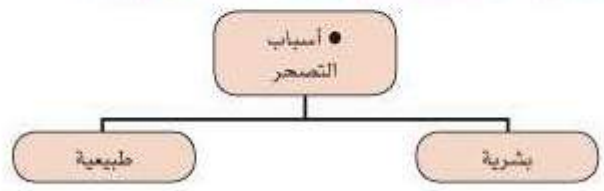
.....



موقع الوطن العربي في المناطق الجافة وشبه الجافة يعرضه بشكل أساسي لمشكلة التصحر .
(السودان والصومال وموريتانيا أكثر الدول العربية تهديداً بالتصحر . لماذا ؟)

- لتعرّف على التصحر وأسبابه

التصحر هو: زحف رمال الصحراء على المناطق الجافة وشبه الجافة .



- انظر إلى الصور الآتية ثم أجب عن الأسئلة التي تتضمنها:



شكل (٩١) صورة توضح الرعي الجائر
للإنسان دور أساسي في التصحر ناتج عن سوء
استخدام الأرض والرعي الجائر .



شكل (٩٠) صورة توضح زحف الرمال في المناطق
الجافة وشبه جافة .

١ - ما سبب زحف الرمال؟

٢- وكيف تتحول الأراضي الزراعية إلى أراضي صحراوية غير منتجة؟

٣ - ما الآثار الناتجة عن الرعي الجائر؟

٤- أين تقع الأراضي الغير معرضة للتصحر في الوطن العربي ؟ ولماذا؟



● مكافحة التصحر ضرورة ملحة لعلاج مشاكل الزراعة:



شكل (٩٢) صورة توضح دور الانسان في إعادة التوازن بين عناصر البيئة

علاج مشكلة التصحر

- يتطلب تشجير بعض المناطق (إقامة أحزمة خضراء).
- مصدات للرياح لحماية المزروعات من زحف الرمال.
- استخدام طرق ري حديثة.
- تثبيت الكثبان الرملية، كيشة.
- إقامة المحميات الطبيعية.

انظر صورتين المظهرين الزراعيين شكل (٩٣) وقارن بينهما؟



- تعتمد الزراعة الحديثة على استخدام تقنيات علمية لرفع مستوى الانتاج.
- ما الهدف من قيام زراعات حديثة؟
 - ما التقنيات المعتمدة في الزراعات الحديثة؟
 - ما الهدف من اللجوء الى هذه التقنيات؟

شكل (٩١) صورة توضح الزراعة الحديثة والزراعة التقليدية أي القديمة أو البدائية



عالجت الدول العربية المشكلات السابقة بسياسة تنموية وحققت التالي:

- ١ - زيادة الإنتاج عن طريق الأساليب العلمية.
- ٢ - زيادة المساحات المزروعة.
- ٣ - إقامة مشروعات الري.

لاحظ:

غياب سياسة زراعية على صعيد العالم العربي أدى إلى تشابه المحاصيل وتنافسها في الأسواق العربية. وغياب محاصيل أخرى أساسية يمكن إنتاجها محليا.

- ما أهم المزروعات التي ينتجها الوطن العربي؟
- ما المحاصيل الزراعية التي يستوردها الوطن العربي من الخارج؟
- ما مظاهر ضعف التخطيط للزراعة في الوطن العربي؟

اعتمدت الدول العربية خططاً استراتيجية * تهدف إلى تكثيف العمل الزراعي وتطويره باعتماد التكنولوجيا الحديثة وتأصيل البذور واستعمال الأسمدة المناسبة.

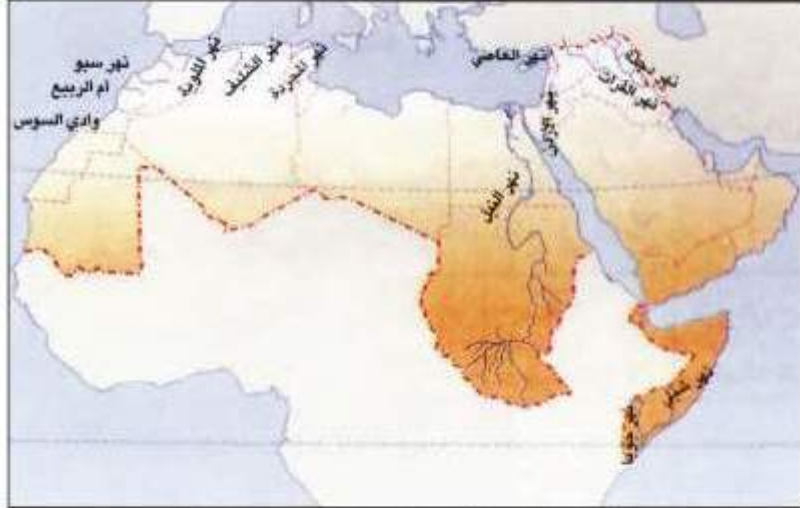
* معنى مفهوم استراتيجية: خطة أو طريقة توضع لتحقيق هدف معين.



٢ - مشاكل استثمار المياه:

- ما هو مصدر المياه التي تستخدمها في منزلك؟
- من يشرف على تكريرها، وعلى ضخها إلى المنازل والمرافق العامة؟
- هل هي معرضة لخطر النقصان؟ لماذا؟
- ما العمل لتحسين وضعها؟

لاحظ شكل (٩٥) وأجب عن الأسئلة التي تليه:



شكل (٩٥) خريطة توضح الأنهار في العالم العربي (أهم مصادر المياه العذبة)

لا يتجاوز عدد الأنهار الدائمة الجريان في العالم العربي عن ٥٠ نهرًا (ساحلية - داخلية - طويلة وقصيرة) أغزرها أنهار دولية تتبع من خارج المجال الجغرافي العربي مثل: نهر النيل والفرات ودجلة (كبيرة) والعاصي والليطاني (أنهار داخلية).



- ما أهم مصادر المياه في العالم العربي (استعن بما درست في الوحدة الأولى).
- هل يمكن أن تغذي الأمطار المياه السطحية أو المياه الجوفية بشكل كاف ؟ لماذا ؟
- استعن بالأطلس المدرسي، وحدد الدول (المناطق) التي تتبع منها نهر النيل، ونهر الفرات ؟

- ما الدول التي يمر فيها نهر الفرات؟ ونهر النيل؟ ونهر الأردن؟

● أسباب تدهور وفرة المياه في الوطن العربي:

هناك مجموعة من العوامل أهمها:

- ١ - يشكل النمو السريع للسكان ضغطاً متزايداً على المياه المتوفرة لكل فرد .
- ٢ - إن ٥٠% من الموارد المائية في العالم العربي تأتي من خارج حدوده، وتتحكم فيها دول المنيع في غياب تشريعات دولية ضمن حقوقنا .
- ٣ - الطرق التقليدية المستخدمة في استغلال المياه في معظم مناطق العالم العربي مسؤولة عن تدهور نسبة المياه (استخدام الري بالغمر، والاستهلاك غير المسئول في مجالات المياه).
- ٤ - الشبكات المؤهلة لنقل المياه قديمة .
- ٥ - لا يوجد في أي دولة عربية حتى عام ٢٠٠٥م برامج لإدارة المياه، كما لا تستخدم الأدوات الاقتصادية اللازمة لترشيد الاستخدام المتزايد من المياه بما يتناسب وحجم الأزمة.

ما اسم الحملة التوعوية لترشيد استهلاك المياه في دولة الكويت؟

البحر مصدر للمياه العذبة في بعض الدول العربية:

لاحظ الصور رقم (٩٦-٩٧) وأجب عن الأسئلة التي تليه :



شكل (٩٦-٩٧) صور توضح محطات تحلية مياه البحر في الوطن العربي



| | |
|----------|-----|
| الكويت | ٥٥% |
| قطر | ٣٨% |
| البحرين | ٣١% |
| الامارات | ٢٧% |
| السعودية | ٨% |
| ليبيا | ٥% |

نسبة استخدام المياه
الحلوة

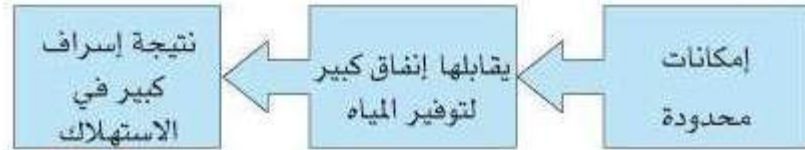
- بماذا تقصر:

- اتجاه عدد من الدول العربية إلى البحار لتأمين حاجاتها من المياه العذبة بالرغم من ارتفاع كلفة إنتاجها؟

- ما هي الدول الأكثر إنتاجاً لهذه المياه؟ لماذا؟ استعن بالمعلومات المجاورة؟

- ماهي الدولة الأكثر إنتاجاً لهذه المياه؟

هل يمكن للدول العربية التخفيف من حدة هذه المشكلة؟ وتلافي الآثار المدمرة الناتجة عنها؟



- كيف نحافظ على ثروة المياه ونخفف من حدة الأزمة؟
١- ترشيد استخدام المياه والحد من التبذير في المنازل.



شكل (٩٩) الحد من الإسراف في المياه



شكل (٩٨) صورة توضح استهلاك المياه



٢ - الحد من هدر المياه في عمليات الري وذلك باستخدام الوسائل الحديثة كالرش بالتنقيط والمحوري.



شكل (١٠١) توضع توضع استخدام الري بالتنقيط



شكل (١٠٠) توضع توضع طرق الزراعة الحديثة

- ٣ - تنظيم عملية الاستفادة من المياه الجوفية ومنع تسرب الإملح الملوثة إليها واستثمارها على الوجه الأمثل.
- ٤ - تطوير استعمال مياه الصرف الصحي المعالجة في الزراعة.
- ٥ - إقامة البحيرات والسدود لتجميع مياه الأمطار والسيول للاستفادة منها في فصل الجفاف.
- ٦ - توقيع اتفاقيات مع الدول المشاركة ودول المنبع (الدول التي تتبع من أراضيها الأنهار) لتحقيق مصالح الدول العربية المعنية.



أنشطة وتدريبات

- ١ - كيف نحافظ على نعمة المياه ؟ ما دورك كمواطن في ذلك ؟
صنف في جدول ثلاثة أعمال على الأقل يمكن أن تقوم بها للحد من الإسراف ؟

| افعل | افعل | افعل | الأعمال التي أقوم بها للحد من إسراف المياه |
|------|------|------|---|
| | | | |

- ٢ - ما أثر سوء الاستهلاك على هذه الثروة مستقبلاً ؟

.....

.....

- ٣ - ماذا نقصد بترشيد الاستهلاك ؟

.....

.....

- ٤ - بالتعاون مع زملائك خطط لحملة تحث على ترشيد استخدام المياه ؟ سجل الخطة في مجموعة من الخطوات.

.....

.....

- ٥ - هل استطاع الإنسان العربي مواجهة مشكلة المياه في الوقت الراهن ؟ كيف ؟
ما الأساليب التي اتخذها ؟

.....

.....

- ٦ - هل استطاع الإنسان الاستفادة من مياه البحار المالحة ؟ كيف ؟ ما الآثار الايجابية والسلبية لذلك ؟

.....

.....



٣- التلوث البيئي

التلوث:
هو الضرر الذي يلحق بالتربة والهواء والماء، ويصيب التلوث عناصر البيئة من عدة مصادر للملوثات: صناعية، زراعية، منزلية ومن أكثر هذه الملوثات انتشار التلوث الكيميائي مثل الغازات السامة (من مثل المصادرة عن محطات التحلية ودخان المصانع وعادم السيارات وغيرها). وكذلك الملوثات المصادرة عن البقايا الصلبة وتراكم النفايات والمواد البلاستيكية.

ما أنواع التلوث الواردة في الأشكال المرفقة؟

-
-
-

- ما المقصود بالتلوث البيئي؟ وما أسبابه؟
- ما أهم مظاهر التلوث؟
- ما أثر التلوث على الإنسان والنبات والحيوان؟
- كيف تواجه المشكلة؟

كي تستطيع الإجابة عن هذه الأسئلة، اقرأ النص المجاور ولا حظ الصور الآتية شكل (١٠٢)، (١٠٣)، (١٠٤).



شكل (١٠٢) صورة توضح تلوث الهواء. (انتشار الدخان وعادم السيارات وغيرها) يؤدي إلى تلوث الهواء.



شكل (١٠٤) صورة توضح تلوث التربة. الإسراف في استخدام المبيدات يؤدي إلى تلوث التربة.



شكل (١٠٣) صورة توضح تلوث المياه. إلقاء المعلفات الصناعية والبشرية يؤدي إلى تلوث المياه.



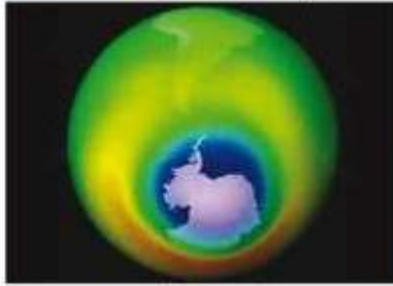
تلوث البيئة مشكلة عالمية:

التلوث البيئي من أهم وأخطر المشاكل التي تواجه شعوب العالم اليوم ويتم مواجهتها على مستوى عالمي حيث عقد أكبر مؤتمر للأمم المتحدة في مدينة ريودي جانيرو بالبرازيل عام ١٩٩٢م وعرف باسم «قمة الأرض» وحضره أكثر من ١٠٠ رئيس دولة.

- ما هي المخاطر البيئية التي تشير إليها الأشكال السابقة؟

- ما هي الملوثات الأكثر انتشارا في رأيك؟

لاحظ الصور التالية واكتب تعليقا مناسبيا تحت كل منها:



ثقب في طبقة الأوزون

التعليق:



شاطئ ملوث بالنفايات

التعليق:



حريق ابار النفط في دولة الكويت عام ١٩٩١م

التعليق:



مصنع لفرز النفايات ومعالجتها

التعليق:



اقرأ النص التالي:

- إن بعض المواد الغازية لاسيما الكلورية الموجودة في وسائل التبريد وتكرير المياه، تؤدي إلى ثقب في طبقة الأوزون التي تحمي الأرض من الأشعاعات فوق البنفسجية الضارة.
- والتلوث بأول أكسيد الكربون الناتج بصورة خاصة عن عادم السيارات يؤدي إلى ارتفاع متزايد في حرارة الأرض وإلى تغيير مناخي يهدد باغراق بعض المدن.
- الدخان المتصاعد من المصانع يصاب الهواء والترية والماء ويهدد الحياة على الأرض.

• دور الإنسان في المحافظة على التوازن البيئي:

انظر الصور شكل (١٠٥) و (١٠٦) ثم أجب عن الأسئلة التي تتضمنتها:



شكل (١٠٦) صورة
توضح مصنع سائل
في السعودية التي
يقع بعيداً عن
الناطق السكنية بما
فائدة ذلك؟



شكل (١٠٥)
صورة توضح
اطفال يزرعون
الأشجار في يوم
الشجرة؟

- لماذا نسعى إلى وطن أخضر؟

- ما أهمية الأشجار للهواء؟



شحمية العرين
في دولة مملكة
البحرين



شحمية المها في
سلسلة عمان



شحمية صباح
الأحمد في دولة
الكويت

شكل (١٠٧) صورة توضح محميات طبيعية في مجموعة من الدول العربية



- ما الفائدة من إنشاء هذه المحميات ؟

حتى تستطيع الإجابة عن الأسئلة السابقة - اقرأ النص التالي:
التوازن البيئي يعني بقاء عناصر الطبيعة في حالة من التوازن لتؤدي وظائفها على أكمل وجه، حيث تعمل عناصر البيئة كمنظومة واحدة مثل جسم الإنسان أي خلل في أي عضو سيؤثر على الجسم بأكمله وكذلك الخلل في عنصر من عناصر نظام بيئي معين، يؤدي إلى اضطراب في وجود بقية العناصر فيه.

- ما الأعمال السلبية التي يقوم بها بعض الناس وتؤدي إلى الإخلال بالتوازن البيئي ؟

ما مظاهر الإخلال بالتوازن البيئي في دولتك الكويت ؟

● نحو سياسة بيئية فاعلة:

| توعية الوعي البيئي (الأهم) | توليد طاقة نظيفة | حماية موارد الطبيعية |
|---|--|--|
| <ul style="list-style-type: none"> - الاستعمال الأمثل للموارد من ماء وكهرباء. - فرز النفايات المنزلية والابتعاد عن الأوعية البلاستيكية. - الحرص على نظافة الأماكن العامة والشواطئ. - فحص محركات السيارات وصيانتها. - التوقف عن تدمير النباتات. | <ul style="list-style-type: none"> - إعادة تجديد محطات الطاقة القديمة. - الاعتماد على مصادر الطاقة البديلة، كالشمس والرياح والمياه للتخفيف من تلوث البيئة. | <ul style="list-style-type: none"> - الاستخدام السليم للموارد بعيدا عن الاستغلال السيء للشروات الطبيعية وتلويثها بالنفايات. - المحافظة على نظافة هذه الموارد بحيث تصبح قادرة على تجديد مواردها والتخلص من مخاطر التصحر، وتلاشي تلوث الشواطئ. |

لاحظ الصور بشكل (١٠٨)



شكل (١٠٨) صورة توضح الشمس والرياح: مصادر الطاقة المتجددة



أنشطة وتدريبات

١ - اجمع بعض الصور التي تعبر عن التلوث، ثم صنفها، واكتب تعليقا في حدود سطرين عن كل صورة ؟

.....

.....

.....

٢ - اكتب بعض اللافتات الصغيرة وعلقها في أماكن بارزة في المدرسة وفي محيطك السكني، تحدث على المحافظة على البيئة ؟

.....

.....

.....

٣ - ما أثر التصحر، والزحف العمراني على تلوث البيئة ؟

.....

.....

.....

٤ - ما دورك في المحافظة على البيئة ؟

.....

.....

.....

٥ - كيف تتعامل مع النفايات المنزلية للمساعدة في المحافظة على البيئة ؟

.....

.....

.....

٦ - ما أهم مخاطر التدهور البيئي في العالم ؟

.....

.....

.....

٧ - اذكر أهم الأمراض الناتجة عن تلوث البيئة ؟

.....

.....

.....

٨ - بالتعاون مع زملائك صمم مجلة حائطية توضح عملية تدوير النفايات وأهميتها في المحافظة على البيئة ؟



ثانياً: نحو مستقبل عربي أفضل

١- التنمية في الوطن العربي سبيلنا لمستقبل أفضل:

حققت الدول العربية خلال العقود الثلاثة الماضية إنجازات عديدة في مجالات التنمية الاقتصادية والاجتماعية والبشرية، هذه التنمية انطلقت من التعاون بين الدول العربية كوسيلة لمواجهة التحديات وتحقيق الطموحات.

التنمية:
● تعني التطور والتطوير وهي عملية تتطلب التخطيط والمشاركة من الجميع.



شكل (١٠٩) صورة توضح التعاون العربي

- هل تستطيع الدول العربية منفردة أن تحقق التنمية والتقدم ويكون لها وزن عالمي اقتصادياً وسياسياً؟

نحو مستقبل أفضل.

لمواجهة تحديات المستقبل يتطلب وضع خطط تنموية، فهناك:

- نمو سكاني مستمر يقابله زيادة في الاحتياجات.
- تناقص في الأراضي الزراعية (علل)؟
- مشاكل نقص المياه.
- مشكلة الأمية.
- ازدياد معدلات الجريمة والعنف والبطالة.
- تقدم وسائل الاتصال، جعلت الإنسان يتعرف على ما يحدث في العالم بصورة سريعة.




- كيف تواجه هذه التحديات وغيرها؟
- وسائل وأساليب التنمية في الوطن العربي:
 - ارتكزت عملية التنمية في الوطن العربي على ثلاثة محاور رئيسية هي:



١- التنمية الاقتصادية:



صناعة الزيوت النباتية في المملكة المغربية



استخدام التكنولوجيا في صناعة التبغ الصناعي في مصر.

شكل (١١٠) صورة توضح التنمية الاقتصادية تشمل مختلف القطاعات الإنتاجية

التخطيط للتنمية الاقتصادية يتطلب الإجابة عن هذه التساؤلات:

- كيف نستثمر الأراضي الزراعية ونستغل المساحات الصالحة للزراعة؟
- كيف نحسن من إنتاجنا الصناعي؟
- كيف نستثمر مواردنا المعدنية بدلا من تصديرها خاما؟

أهداف التنمية الاقتصادية:

- استخدام العلم في زيادة الإنتاج.
- تحقيق التكامل بين الدول العربية في الإمكانيات والحاجات.



شكل (١١١) الشباب العربي هم المستقبل

ب- التنمية البشرية:

المجتمعات لا يمكن أن تتقدم أو تنمو اقتصادياً أو سياسياً أو اجتماعياً بدون إعداد للقوى البشرية، فالبشر هم الثروة الحقيقية للأوطان.

أهداف التنمية البشرية:

- توفير قدرات الإنسان العربي نحو مجتمع المعرفة. كيف؟

- الاهتمام بالطفل العربي ورعايته في مرحلة الطفولة المبكرة (قبل المدرسة).
- توفير فرص العمل، والرعاية الصحية والقضاء على الفقر.
- رفع كفاءة الثروة البشرية علمياً وفكرياً وروحياً.
- تعميق المشاركة في الرأي والحوار في ظل الديمقراطية.
- اذكر بعض هذه البرامج التوعوية في دولة الكويت؟

المشكلات التي تواجه التنمية البشرية:

- ١ - ضعف الاستفادة من القدرات البشرية في المنطقة العربية. ما الأسباب التي تدعو الشباب والعلماء العرب للهجرة إلى الخارج؟
- ٢ - مشكلة الأمية:
 - ما هو أثر التعليم عليك ثقافياً، نفسياً، اجتماعياً؟
 - كيف تتصور مجتمعك لولا وجود المتعلمين والمتقنين؟
- ٣ - نقص مشاركة المرأة (محدودية مشاركة النساء في المنظمات السياسية).
- ٤- الاختلاف الكبير في مستويات المعيشة بين دولة وأخرى، وفي داخل الدولة الواحدة.



ج - التنمية المستدامة:

هي عبارة عن برامج تحسين نوعية الحياة.

أهداف التنمية المستدامة:

- تأمين مستوى معيشي لائق لجميع المواطنين.
- حماية الأمن المائي ومصادر الطاقة والأرض.
- ضمان الحق في التعليم والرعاية الصحية.
- إيجاد فرص عمل مناسبة.
- استخدام وامتلاك التقنية الحديثة.
- محو الأمية والتحرر من التبعية بمختلف وجوها (التبعية الغذائية - العلمية والتكنولوجية - المديونيات).

جوهر التنمية البشرية:

- الحرية
- المعرفة
- العمل الجماعي
- الابداع
- الكفاءة لا المحسوبة
- حقوق المرأة
- حقوق الطفل

التنمية المستدامة لا تتحقق إلا بمشاركة جميع المواطنين.

أضف إلى معلوماتك

من أشهر علماء العرب في الخارج

- ١ - الدكتور فاروق الباز ويشغل حالياً منصب مدير أبحاث الفضاء في بوسطن بالولايات المتحدة.
 - ٢ - الدكتور أحمد زويل عالم الكيمياء والحائز على جائزة نوبل في الكيمياء عام ١٩٩٩.
 - ٣ - الدكتور محمد صلاح الدين زكي أكبر جراح زراعة القلب في العالم والولايات المتحدة الأمريكية.
 - ٤ - والدكتور محمد شقير خبير الزلازل وتقوية التربة بالولايات المتحدة.
 - ٥ - د. أسامة عبدالمحسن قنديل الخبير في هندسة هوائيات ميكانيكا المواقع بالولايات المتحدة.
- إضافة لمئات آخرين يعملون في جامعتي كاليفورنيا وهارفارد بالولايات المتحدة والتي يوجد فيها وحدها أكثر من ٣١٨ ألف كفاءة متميزة.



شكل (١١٢) صورة توضح الأيدي العاملة العربية في المصانع



شكل (١١٢) صورة توضح محو الأمية وتعليم الكبار



٢ - التعاون والتضامن العربي لتحقيق التقدم والتنمية:



شكل (١١٤) صورة لوضع اجتماع وزراء خارجية العرب

التضامن العربي هو العمل على توثيق الصلات بين الدول والشعوب العربية وحماية لمصالحها السياسية والاقتصادية والثقافية وغيرها .

دور الجامعة العربية في تحقيق التكامل بين الدول العربية؛ تهدف جامعة الدول العربية إلى توثيق العلاقات بين الدول الأعضاء وتنسيق التعاون فيما بينها، للحفاظ على استقلالها وسيادتها، والنظر بصفة عامة في شؤون ومصالح الدول العربية، وأنشئت عدد من المؤسسات الاقتصادية، وعقدت المؤتمرات المختلفة لتحقيق التعاون العربي والتكامل الاقتصادي بين الدول العربية.

ومن أبرز هذه المؤسسات:

١ - مجلس الوحدة الاقتصادية العربية.

٢ - المنظمة العربية للتنمية الزراعية.

الجامعة العربية تُعرف رسمياً باسم جامعة الدول العربية، وهي منظمة إقليمية للدول العربية.

وقد تم تشكيلها في القاهرة في ٢٢ مارس ١٩٤٥ وتضم ستة أعضاء: مصر، العراق، الأردن، لبنان، المملكة العربية السعودية، سوريا، وانضمت بها اليمن كعضو لها في ٥ مايو ١٩٤٥، ثم انضمت الكويت عام ١٩٦١ والآن تضم جامعة الدول العربية في الوقت الراهن ٢٢ عضواً.



شكل (١١٥) صورة لوضع مجلس جامعة الدول العربية منعشاً في القاهرة

مؤسسات التعاون العربي المشترك:

تعددت صيغ التعاون العربي هي مختلف الميادين، كما تعددت مستويات هذا التعاون سواء على مستوى ثنائي بين دولتين، أو بين مجموعة من الدول ذات الإنماء الجغرافي لمنطقة معينة.

• الصناديق الإنمائية العربية علامات مضيئة للتعاون العربي:

تعد هذه الصناديق أهم المصادر لتوفير التمويل الميسر، وقد تمكنت بفضل رؤوس أموالها من مساندة الجهود الإنمائية الاقتصادية والاجتماعية في عدد كبير من الدول العربية.

أهم الصناديق الوطنية (على مستوى الدول):

أ- الصندوق الكويتي للتنمية الاقتصادية العربية ١٩٦١م.



ب- صندوق أبوظبي للإنماء الاقتصادي العربي ١٩٧١م.



ج- الصندوق السعودي للتنمية ١٩٧٤م.



• ساهمت هذه الصناديق بشكل ايجابي في مشاريع التنمية العربية عن طريق تقديم القروض والتمويل المشترك وتقديم المنح للتمويل وتقديم المساعدات الاقتصادية للدول العربية تدعماً لنموها الاقتصادي.



مشاريع الصندوق الكويتي في الجمهورية اليمنية
(تطوير وادي رماح)



مشاريع الصندوق الكويتي في المملكة المغربية لتطوير
(سد أولوز)



مشاريع صندوق أبو ظبي للتنمية
(تطوير الزراعة في السودان)



مشاريع صندوق أبو ظبي للتنمية
(مدينة الشيخ زايد في قطاع غزة)



مشاريع الصندوق السعودي للتنمية توسعة
مستشفى البشير في الأردن



مشاريع الصندوق السعودي للتنمية
(سد تامكورت في المغرب)

شكل (١١٦) صورة توضح من المشاريع التنموية التي تحققت بدعم الصناديق العربية الإنمائية



نموذج لتعاون عربي مشترك بين دول ذات انتماء جغرافي:



قيام مجلس التعاون

أعلن قيام مجلس التعاون في ٢٥ مايو عام ١٩٨١م في مدينة أبوظبي.

ويضم المجلس ست دول عربية المطلة على الخليج العربي الكويت - المملكة العربية السعودية - قطر - مملكة البحرين - والإمارات العربية المتحدة - وسلطنة عُمان.

• مجلس التعاون الخليجي: مظهر جديد ومتقدم من مظاهر دعم التضامن بين الدول العربية وفق مبادئ مدروسة، - بالتعاون مع زملائك:

- اذكر أهم أهداف مجلس التعاون الخليجي؟
- النتائج التي صدرت عن مؤتمر قمة مسقط (سلطنة عُمان) ٢٠٠٨م؟



شكل (١١٧) صورة توضح قادة ورؤساء دول مجلس التعاون الخليجي



شكل (١١٨) صورة توضح إحدى اجتماعات قادة دول المجلس التعاون الخليجي



دور دولة الكويت في العمل العربي المشترك

• المساهمات الكويتية في العمل العربي المشترك:

انطلاقاً من مبادئ ديننا الإسلامي الحنيف قدمت دولة الكويت الكثير من المساعدات المادية وغيرها للدول العربية والإسلامية للمساهمة في مشاريع التنمية الضرورية لها. واتخذت هذه المساهمات أشكالاً سياسية وثقافية واقتصادية ودينية وغيرها.

والآن عزيزي المتعلم فلنتحدث عن بعض هذه المساعدات، كالآتي:

• المساهمات الاقتصادية:

قال تعالى: ﴿الَّذِينَ يُنْفِقُونَ أَمْوَالَهُمْ فِي سَبِيلِ اللَّهِ لَمْ يَكُنْ لَهُمْ ثَمَرًا مِمَّا أَنْفَقُوا مَتًى وَلَا أذى لَهُمْ أَجْرُهُمْ عِندَ رَبِّهِمْ وَلَا خَوْفٌ عَلَيْهِمْ وَلَا هُمْ يَحْزَنُونَ ﴿٢٦٢﴾﴾ سورة البقرة آية: ٢٦٢

١ - مشاركة دولة الكويت في تنفيذ العديد من المشاريع التنموية العربية:

• كان لنجاح سياسة دولة الكويت في المجال العربي عاملاً مهماً لاتخاذها مقراً لعدة منظمات عربية منها:



- منظمة العربية للتنمية الزراعية.
- المنظمة العربية للتنمية الصناعية والتعدين.
- المنظمة العربية للتربية والثقافة والعلوم (ألكسو).



شكل (١١٩) - ألكسو، تدعو للتضامن على الأمية في العالم

• ما أهم المساهمات التي قدمها الصندوق الكويتي للتنمية الاقتصادية العربية؟



٢- الصندوق الكويتي للتنمية الاقتصادية العربية:

سبق وأن تعرّفنا إلى الصندوق الكويتي للتنمية الاقتصادية العربية في درس مؤسسات التعاون العربي المشترك؛ إذن فلنتعرف بشيء من التفصيل البسيط حول هذا الموضوع.



يعتبر الصندوق الكويتي للتنمية الاقتصادية العربية أول مؤسسة للتنمية في الوطن العربي، حيث يقوم بالمساهمة في تحقيق مشاريع التنمية الضرورية لها خاصة في المجالات الصحية والاجتماعية وكذلك تقديم المساعدات اللازمة في حالات الكوارث والنكبات ودعم قضايا الأمة العربية الإسلامية.

تأسس الصندوق الكويتي للتنمية الاقتصادية العربية في عهد الشيخ عبدالله السالم الصباح رحمه الله في تاريخ ٣١ / ديسمبر ١٩٦١ بفكرة ودعم من صاحب السمو الراحل الشيخ جابر الأحمد الجابر الصباح، حيث كان سموه وزيراً للمالية آنذاك ويتبع الصندوق الكويتي للتنمية العربية حالياً وزارة الخارجية.

• أهداف الصندوق الكويتي للتنمية الاقتصادية العربية:

- ١ - تقديم القروض الميسرة للدول المحتاجة .
- ٢ - تقديم كافة المساعدات المادية لقضايا العالم العربي والإسلامي.
- ٣ - المساهمة في تطوير التنمية في الوطن العربي والعالم الإسلامي.



عرض مجموعة من إنجازات الصندوق في الدول العربية:



مشاريع الصندوق الكويتي في السكك الحديدية بالتواحي الجنوبية



مشاريع الصندوق الكويتي في مشروع الفتح لمياه نبع المن في الجمهورية العربية السورية



مشاريع الصندوق الكويتي في المملكة الأردنية الهاشمية مصنع الأسمدة الفوسفاتية



مشاريع الصندوق الكويتي في السودان صيانة وتدعيم ري الرهد

شكل (١٤٠) صور توضح مشاريع الصندوق الكويتي للتنمية الاقتصادية العربية

٣ - استضافت دولة الكويت لأضخم وأهم المؤتمرات الاقتصادية العربية:

عقد أكبر وأهم مؤتمر قمة عربية منذ تاريخ نشأة جامعة الدول العربية في دولة الكويت يومي ١٩ - ٢٠ يناير ٢٠٠٩م.



(١٢١) دولة الكويت تستضيف القمة العربية الاقتصادية والتنمية والاجتماعية



القمة الاقتصادية للتنمية العربية على أرض دولة الكويت تحول العلوم والبحوث العربية إلى برامج عمل واقعية

أعدت دولة الكويت لهذا المؤتمر اعتبار أن الاقتصاد أساس معيشة الشعوب.

القمة العربية الاقتصادية أحد أهم الدعامات لتنمية الاقتصاد العربي

أهم أهداف القمة الاقتصادية للتنمية العربية:

- ١ - إنشاء بنك عربي لتمويل شتى المشاريع التنموية لتقليل من معدلات الفقر.
- ٢ - القضاء على البطالة والفقر بتوفير فرص عمل.
- ٣ - الاستثمار الاقتصادي بين الدول العربية وتقوية التبادل التجاري.
- ٤ - الاعتناء بالعنصر البشري والتنمية المستدامة.

يأتي أولويات هذا المؤتمر بإعادة تعمير قطاع غزة بعد تعرضها للغزو الإسرائيلي الغاشم عليها في بداية شهر يناير ٢٠٠٩م، والذي أسفر عن قتل الآلاف من الأبرياء (معظمهم من الأطفال والنساء) وتدمير البنية التحتية لقطاع غزة بالكامل.



أنشطة وتدريبات

- في الجدول التالي أكمل المطلوب:

| وسائل تحقيقه | مفهوم التضامن العربي |
|--------------|----------------------|
| | |

أكمل الفراغات التالية:

- ١ - عبارة عن عملية تتطلب التخطيط والمشاركة من الجميع تسمى.....
- ٢ - عقد أكبر مؤتمر قمة عربية اقتصادية منذ نشأة جامعة الدول العربية في دولة تسمى.....
- ٣ - تقع المنظمة العربية للتنمية الزراعية في دولة تسمى.....
- ٤ - أعلن قيام مجلس التعاون الخليجي في ٢٥ مايو عام.....
- ٥- ارتكزت عملية التنمية في الوطن العربي على ثلاثة محاور هي التنمية الاقتصادية و.....
- ٦ - تأسس الصندوق الكويتي للتنمية الاقتصادية العربية في عهد الشيخ.....
- ٧ - تم إنشاء الصندوق الكويتي للتنمية الاقتصادية العربية ٢١ ديسمبر عام.....

أجب عن الأسئلة التالية:

- ١ - عرف مفهوم التنمية المستدامة ؟
.....
.....
- ٢ - هل يمكن أن تشارك كمواطن عربي في مشاريع التنمية المستدامة ؟ كيف (اذكر أمثلة على ذلك)
.....
.....



- ٢ - بين من وجهة نظرك كيفية تحقيق تنمية اقتصادية عربية نحو مستقبل أفضل ؟
-
-
- ٤ - ما أهم المشكلات التي تواجه عمليات التنمية الاقتصادية في الوطن العربي ؟
-
-
- ٥ - ما الهدف من تطوير قطاع الزراعة والصناعة في الوطن العربي ؟
-
-
- ٦ - تتبع أحد مجالس التعاون لدول مجلس التعاون الخليجي واذكر أهم قراراته ؟
-
-
- ٧ - اقترح بعض المشروعات الاقتصادية التي يمكن تحقيقها بواسطة منظمة الوحدة العربية ؟
-
-
- ٨ - عدد أهداف التنمية الاقتصادية ؟
-
-
- ٩ - ما هي التحديات التي تواجه التنمية البشرية ؟
-
-
- ١٠ - ما المقصود بالتنمية المستدامة ؟ وما هي أهدافها ؟
-
-

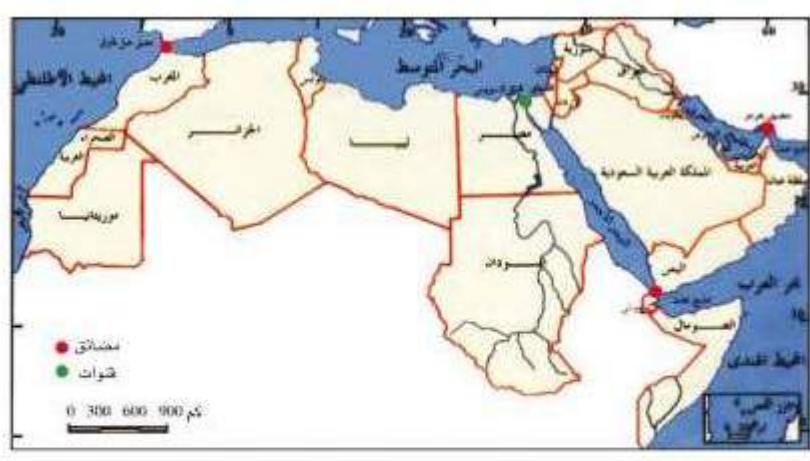


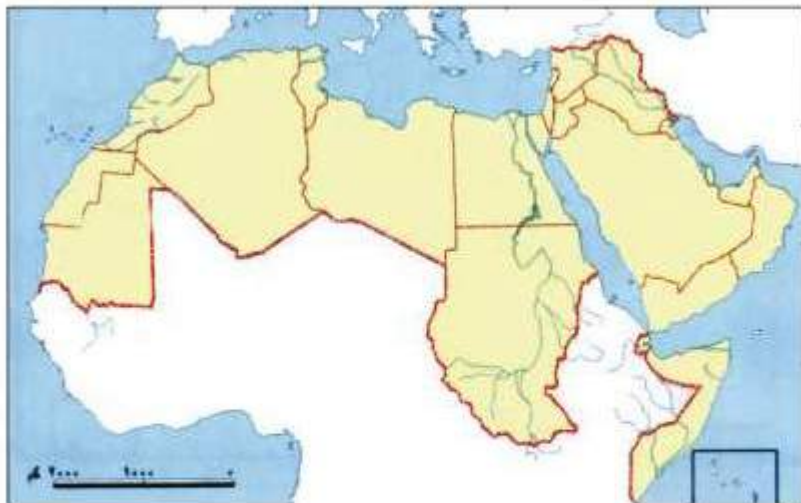
١١ - ما المقصود بالتضامن العربي؟

١٢ - ما الانجازات التي قدمها الصندوق الكويتي للتنمية للدول العربية؟
يمكنك الاستعانة بالصور رقم (١٢٠) لتجيب عما سبق.

١٣ - عدد أهداف الصندوق الكويتي للتنمية؟









المراجع

مراجع الوحدة الأولى

- الصيد (محمد محمود) ، معالم جغرافية الوطن العربي ، لبنان : دار النهضة العربية .
 سعودي (محمد عبد الغني) ، الوطن العربي ، القاهرة : مكتبة الأنجلو المصرية ، ٢٠٠٢ .
 الزوكة (محمد خميس) ، جغرافية العالم العربي ، مصر : دار المعرفة الجامعية ، ١٩٩٦ .
 منيمة (سارة حسن) ، في جغرافية الوطن العربي ، القاهرة : دار النهضة العربية ،
 ١٩٩٠ .
 عبد الحكيم (محمد صبحي) ، وآخرون ، الوطن العربي (أرضه - سكانه - موارده) ،
 القاهرة : مكتبة الأنجلو المصرية .
 حميدة (عبدالرحمن) ، جغرافية الوطن العربي ، بيروت : دار الفكر المعاصر ، ١٩٩٧ .
 الغريزي (عبدالعباس فضيخ) ، وآخرون ، جغرافية الوطن العربي ، عمان (الأردن) : دار
 صفاء للنشر والتوزيع ، ١٩٩٩ .
 - فريق خبراء مؤسسة «جيوبروجكتس» - كتاب المواد الاجتماعية للصف الخامس الابتدائي
 دولة البحرين ١٩٩٧ - ص ١٨ .

مراجع الوحدة الثانية

- حمادة (حسين فهد) ، موسوعة الآثار التاريخية ، الطبعة الأولى ، ٢٠٠٨ .
 الملقوث (سامي بن عبد الله) ، أطلس تاريخ الأنبياء والرسل ، الطبعة السابعة ، ٢٠٠٦ .
 عاشور (سامي عبد الفتاح) ، تاريخ الحضارة العربية الإسلامية ١٩٩٨ .
 عبد الساتر (لييب) ، الحضارات ، الطبعة السادسة عشر ، ٢٠٠٢ .
 شاكِر (محمود) ، موسوعة الحضارات القديمة والحديثة وتاريخ الأمم ، الطبعة الأولى ،
 ٢٠٠٨ .

مراجع الوحدة الثالثة

- عبد الحكيم (محمد صبحي) ، وآخرون ، الوطن العربي (أرضه - سكانه - موارده) ،
 القاهرة : مكتبة الأنجلو المصرية .
 التقرير الاقتصادي لمنظمة المدن العربية ، ٢٠٠٧ .



مراجع الوحدة الرابعة


- ١ - بعلبكي (أحمد) ، تنمية الموارد العربية ، الناشر : دار الفارابي ، ج ١ ، ج ٢ .
- ٢ - التقرير الاقتصادي العربي الموحد ، ٢٠٠٢ / ٢٠٠٧ .
- ٣ - تقرير الأمم المتحدة للتنمية البشرية ، ٢٠٠٥ .
- ٤ - الأمية في الوطن العربي ، مكتب اليونسكو الإقليمي للتربية في الدول العربية ، ٢٠٠٧ .
- ٥ - حسن (عدنان سيد) ، مجلة المستقبل العربي ، العدد (٢٢٤) .
- ٦ - غنيمه (محمد متولي) ، الوضع الراهن في الوطن العربي واحتمالات المستقبل، الدار المصرية اللبنانية .
- ٧ - متولي (محمد) ، القيمة الاقتصادية للتعليم في الوطن العربي ، الدار المصرية .
- ٨ - مجلة العالم ، العدد (١٦) ، ٢٠٠١ .
- ٩ - مؤسسة الكويت للتقدم العلمي ، مجلة العلوم، يناير - مارس - مايو = يوليو ٢٠٠٨ .
- ١٠ - تقرير الصندوق الكويتي للتنمية الاقتصادية العربية ، ٢٠٠٨ .



أودع بمكتبة الوزارة تحت رقم (٦٦) بتاريخ ٢٨ / ٥ / ٢٠٠٩

مطابع دار السياسة
٢٤٨٤٣٦١-٢٤٨٤٣٥١

الدراسات الاجتماعية
الكويت
والوطن العربي
للسف السابع



الوطن العربي
الوطن العربي
الوطن العربي
الوطن العربي
الوطن العربي



المرحلة المتوسطة

الطبعة الأولى