



وزارة التربية

بلادي الكويت

KUWAIT MY COUNTRY

الصف الخامس



المرحلة الابتدائية

الطبعة الثالثة



بلادي الكويت

KUWAIT MY COUNTRY

للفيف الخامس

تأليف

أ. عبدالكريم غلوم جمال

أ. هيا عبدالله الركيبي
أ. نادية حمود المقهوي
أ. عبير صالح الشايع

أ. شيخة عبدالرحمن التركيت
أ. سارة محمد كميخ
أ. ابتسام ادغام العازمي

الإشراف العام

المستشار التربوي بقطاع البحوث التربوية والمناهج (سابقاً)
الموجه العام للاجتماعيات (سابقاً)

د. إبراهيم كرم
أ. حسن حسين أحمد

لجنة التعديل

أ. إيمان عيد السويحل

أ. عبير فرحان العنزي
أ. آمال أحمد الشطي

أ. دلال محمد الأنصاري
أ. هبه نايف المطيري

الطبعة الثالثة

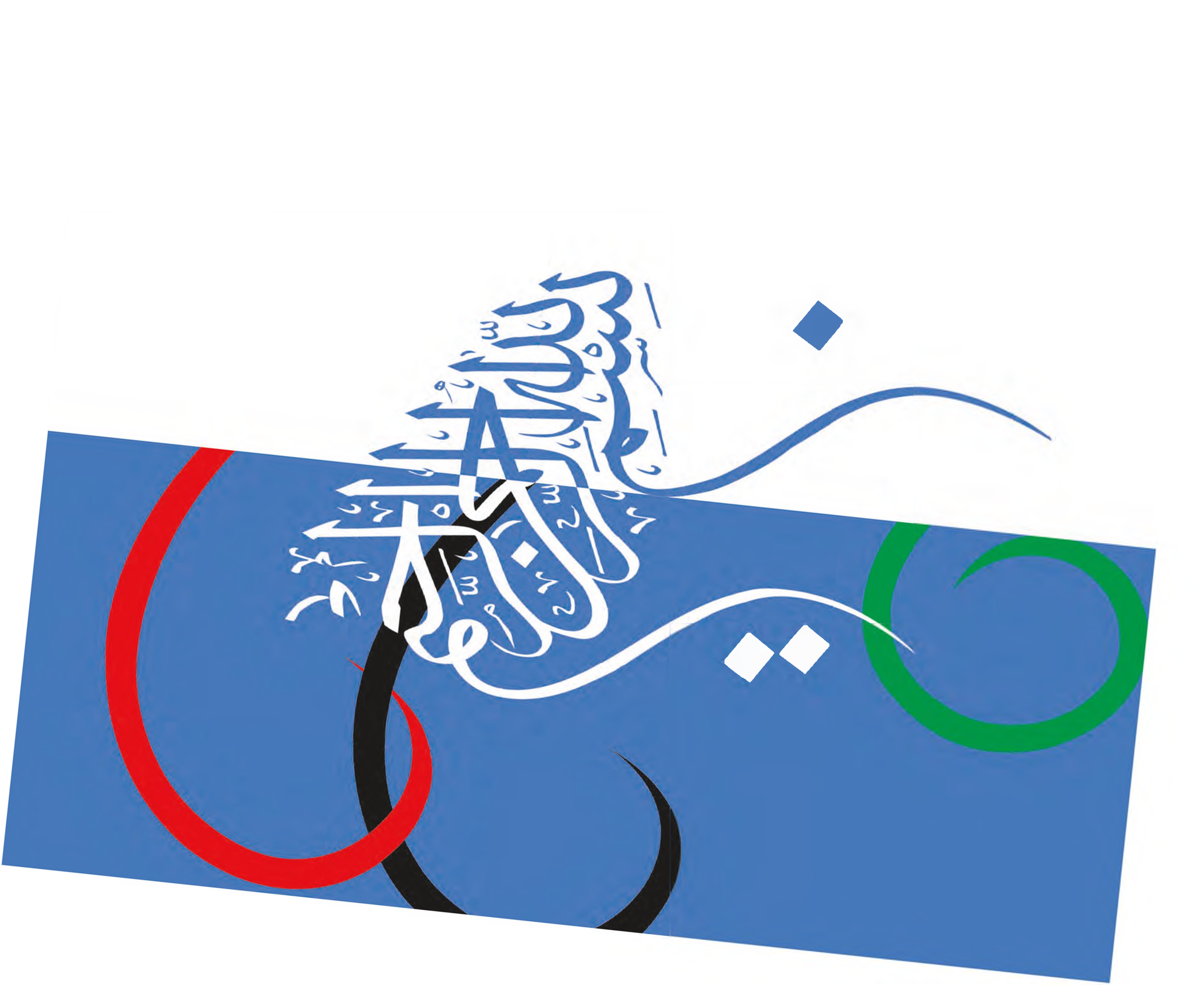
١٤٣٧ هـ

٢٠١٦ - ٢٠١٧ م

حقوق التأليف والطبع والنشر محفوظة لوزارة التربية - قطاع البحوث التربوية والمناهج

إدارة تطوير المناهج

م ٢٠٠٧ - ٢٠٠٨	الطبعة الأولى
م ٢٠٠٨ - ٢٠٠٩	الطبعة الثانية
م ٢٠١٠ - ٢٠١١	
م ٢٠١٢ - ٢٠١٣	
م ٢٠١٤ - ٢٠١٥	
م ٢٠١٦ - ٢٠١٧	الطبعة الثالثة





صاحب السمو الشيخ صباح الأحمد الجابر الصباح

أمير دولة الكويت



سَيِّدُ الشَّيْخِ نَوَافِكُ الْحَمْدِ الْجَابِرُ الصَّبِيحُ

وَلِيَّ عَهْدِ دَوْلَةِ الْكُوَيْتِ



لم يعد خافياً على كل مهتم بالشأن التربوي الأهمية القصوى للمناهج الدراسية ، وذلك لأنها تركز بطبيعتها إلى فلسفة المجتمع وتطلعاته بالإضافة لأهداف النظام التعليمي والمنظومة التعليمية ، لذلك نجد أن صناعة المنهج أصبحت من التحديات التي تواجه التربويين لارتباط ذلك بأسس فنية ذات علاقة وثيقة في البنية التعليمية مثل الأسس الفلسفية والتربوية والاجتماعية والثقافية ، ومن هنا اكتسبت المناهج الدراسية أهميتها ومكانتها الكبرى .

ونظراً لهذه المكانة التي احتلتها المناهج الدراسية ، قامت وزارة التربية بعملية تطوير واسعة ، استكمالاً لكل الجهود السابقة ، حيث قامت بإعداد الكتب والمناهج الدراسية وفقاً للمعايير والكفايات سواء العامة أو الخاصة ، وذلك لتحقيق نقلة نوعية في الشكل والمضمون ، ولتكون المناهج برؤيتها الجديدة ذات بعد عملي تطبيقي وظيفي يرتبط بقدرات المتعلمين وسوق العمل ومتطلبات المجتمع وغيرها من أبعاد المناهج التربوية ، مع تأكيدنا بأن ذلك يأتي أيضاً اتساقاً مع التطورات الحديثة ، إن كانت في مجال الفكر التربوي والسلوك الإنساني أو القفزات المتسارعة في مجال التكنولوجيا ، والتي أصبحت جزءاً لا يتجزأ من حياة الإنسان ، وأيضاً ما أملت التطورات الثقافية والحضارية المعاصرة وانعكاساتها على الفكر ونمط العلاقات الإنسانية .

ونحن من خلال هذا الأسلوب نتطلع إلى أن تساهم المناهج الدراسية في تحقيق أهداف دولة الكويت بشكل عام وأهداف النظام التعليمي بشكل خاص والتي تأتي في طليعتها تنشئة أجيال مؤمنة بربها مخلصه لوطنها تتمتع بقدرات ومهارات عقلية ومهارية واجتماعية تجعل منهم مواطنين فاعلين ومتفاعلين ، محافظين على هويتهم الوطنية ومنفتحين على الآخر ومتقبلين مع احترام حقوق الإنسان وحرياته الأساسية والتمسك بمبادئ السلام والتسامح والتي صارت من أهم متطلبات الحياة المستقرة الكريمة .

والله ولي التوفيق

الوكيل المساعد لقطاع البحوث التربوية والمناهج

د. سعود هلال الحربي

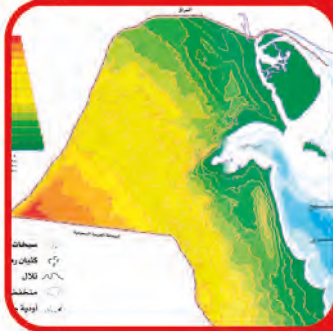
المحتوى

الوحدة الأولى الموقع



- ١- مفاهيم جغرافية . ١٤
- ٢- الموقع النسبي . ١٦
- ٣- الموقع الفلكي . ١٨
- ٤- موقع بلادي (١) . ٢٠
- ٥- موقع بلادي (٢) . ٢٢

الوحدة الثانية التضاريس



- ١- تضاريس بلادي . ٢٦
- ٢- تطبيقات . ٢٨

الوحدة الثالثة المناخ



- ١- عناصر المناخ . ٣٢
- ٢- العوامل المؤثرة في مناخ بلادي . ٣٤
- ٣- المواسم المناخية في بلادي . ٣٦

الوحدة الرابعة النبات والحيوان



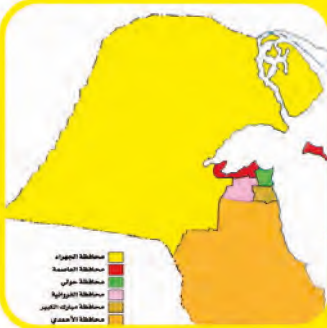
- ٤٠ - ١- النبات الطبيعي في بلادي .
- ٤٤ - ٢- حيوانات في بلادي .

الوحدة الخامسة حكام من بلادي



- ٥٠ - ١- حاكم من بلادي (الشيخ أحمد الجابر الصباح) .
- ٥٢ - ٢- بصمة حاكم في تاريخ الكويت الشيخ عبدالله السالم الصباح (أبو الاستقلال - أبو الدستور) .
- ٥٤ - ٣- الشيخ صباح السالم الصباح (أبو الجميع) .
- ٥٦ - ٤- الشيخ جابر الأحمد الصباح (أمير القلوب) .
- ٦٦ - ٥- الشيخ سعد عبدالله السالم الصباح (الأمير الوالد) .
- ٦٨ - ٦- الشيخ صباح الأحمد الصباح (الأمير القائد) .

الوحدة السادسة السكان



- ٧٢ - ١- السكان في بلادي (١) .
- ٧٤ - ٢- السكان في بلادي (٢) .

الوحدة السابعة

الموارد



٨٠ - موارد بلادي حديثاً (١) .

٨٤ - موارد بلادي حديثاً (٢) .

الوحدة الثامنة

الخدمات



٨٨ - من مؤسسات بلادي .


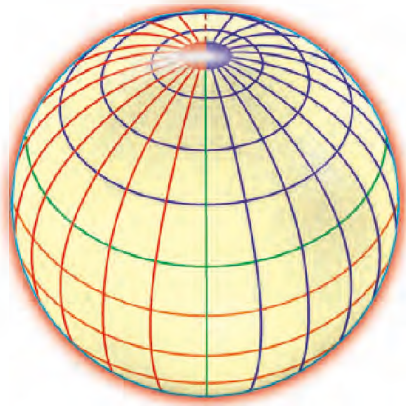
٩٢ - من هيئات بلادي .

الوحدة التاسعة

المعالم



٩٦ - السياحة الداخلية والخارجية .



الموقع

الوحدة الأولى

١ - مفاهيم جغرافية .

٢ - الموقع النسبي .

٣ - الموقع الفلكي .

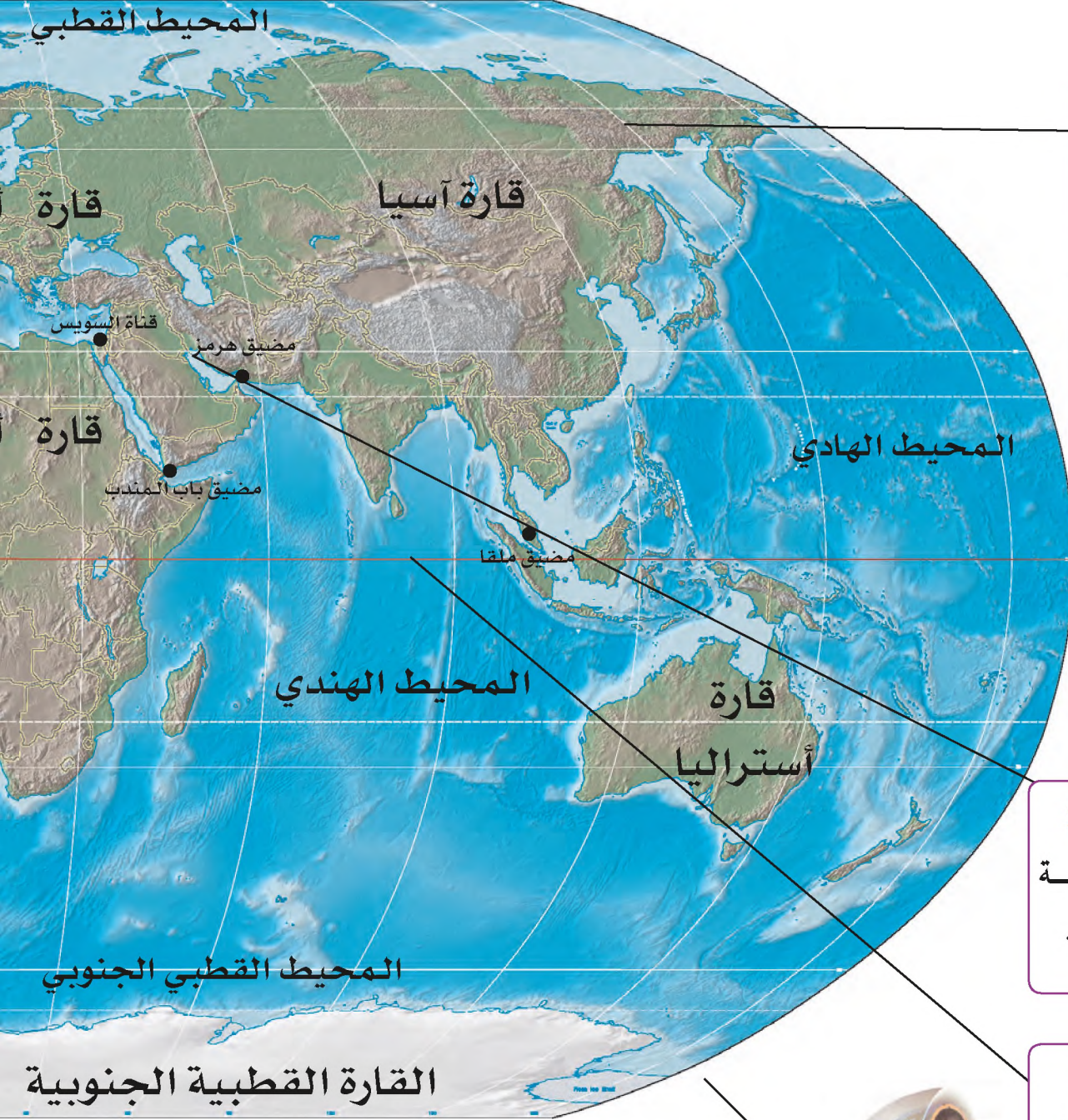
٤ - موقع بلادي (١) .

٥ - موقع بلادي (٢) .



١ - مفاهيم جغرافية

أقرأ وأتعلم



● القارة :

مساحة كبيرة من اليابسة تحتوي على مظاهر سطحية متنوعة كالسهول والجبال والتلال والهضاب وتحاط معظمها بالبحار والمحيطات .

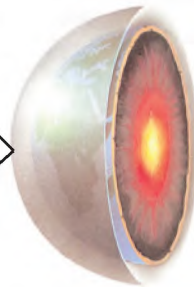
● الموقع النسبي :

موقع الدول بالنسبة لكتلي اليابسة والماء .

● خط الاستواء :

دائرة وهمية تنصف الكرة الأرضية لقسمين متساويين شمالي وجنوبي .

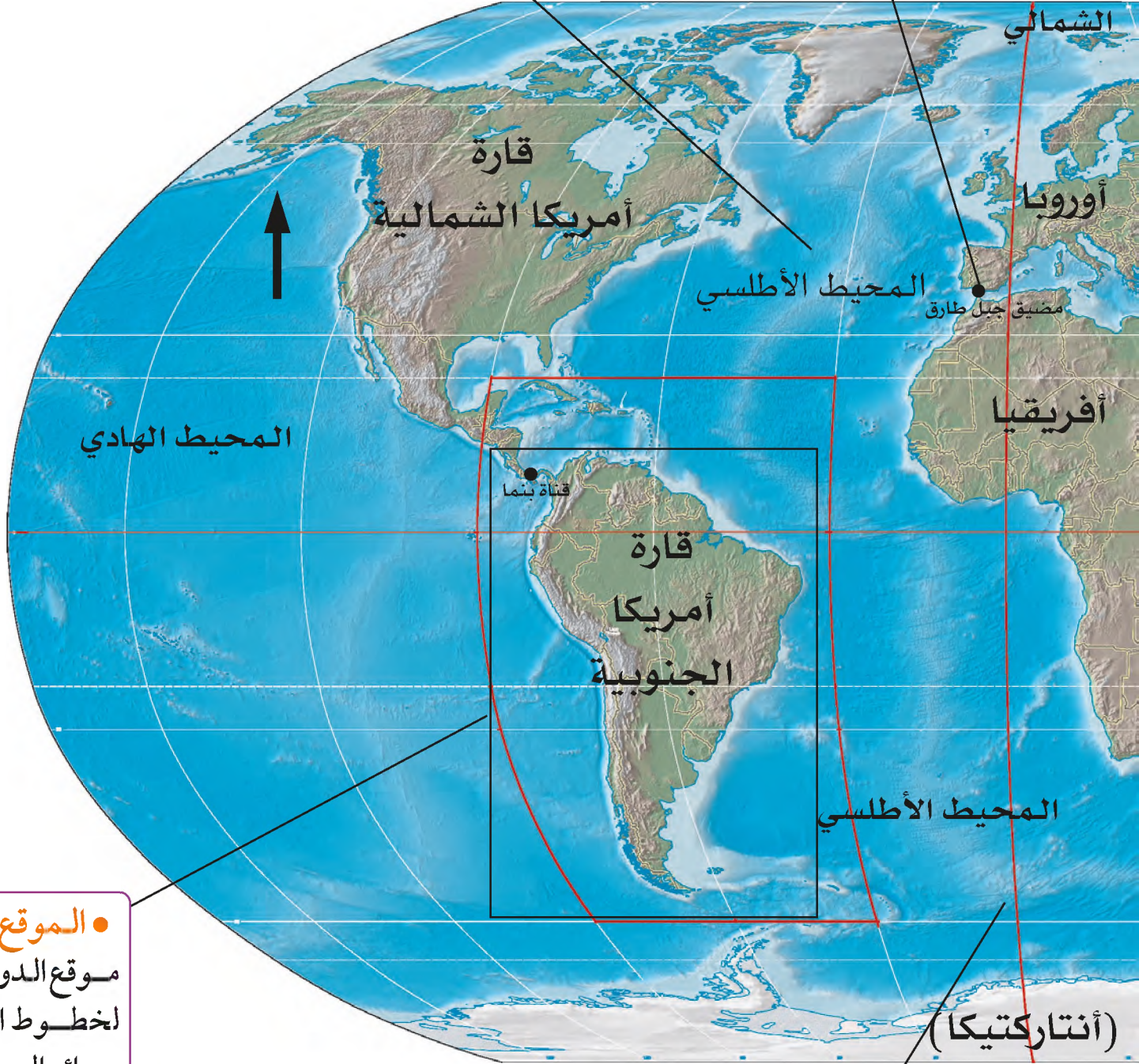
● القشرة الأرضية : طبقة سطحية من الأرض يعيش عليها الإنسان والنبات والحيوان ويختلف سمكها من مكان إلى آخر .



ملاحظة : المفاهيم والتحليل للقراءة فقط .

● **المحيط** : مساحة كبيرة من المياه تغطي أجزاء من الكرة الأرضية .

● **المضيق** : منفذ ضيق من الماء يصل بين مسطحين مائين .



● **الموقع الفلكي** :
موقع الدول بالنسبة
لخطوط الطول
ودوائر العرض .

● **خط جرينتش** : خط وهمي يقسم الكرة الأرضية لقسمين متساويين شرقي وغربي ، يبدأ من القطب الشمالي وينتهي بالقطب الجنوبي .

٢ - الموقع النسبي

اقرأ الخرائط ... ثم أكمل :



نشاط : ١ عدد المحيطات التي تشملها الكرة الأرضية :

- المحيط الهادي .
 -
 -
 -
- ما أكبر المحيطات مساحة؟

نشاط : ٢

وتعد البحار والخليجان جزءاً من المحيط

يتصل بعضها ببعض عبر مضائق

- ١- انظر للخريطة ثم لون موقع دولة الكويت .
- ٢ - تتبّع المسطحات المائية التي تصل بين دولة الكويت وجمهورية الهند الديمقراطية ، ثم اكتبها في الفراغات الآتية :

١ ٢

٣ ٤



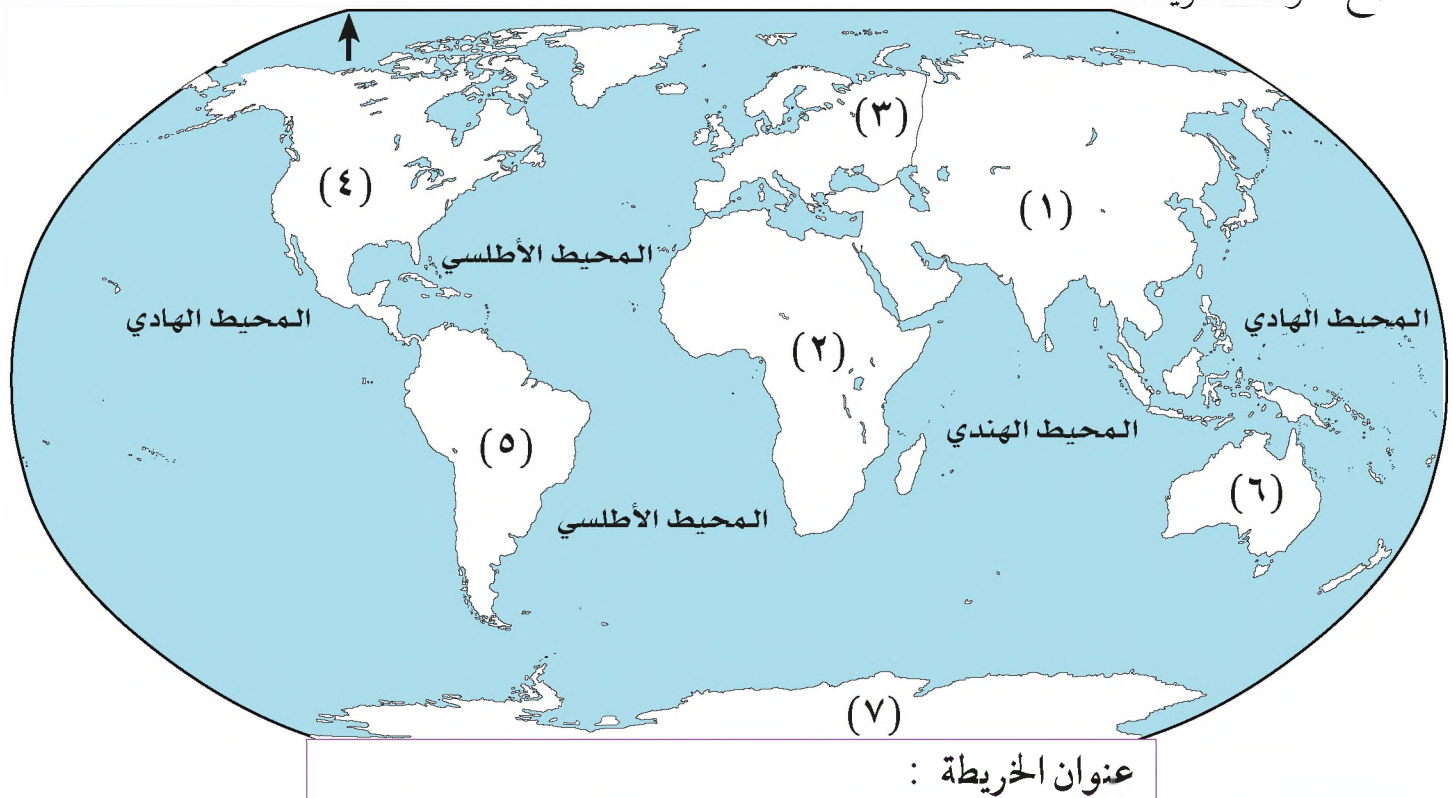
خريطة غرب وجنوب غرب قارة آسيا

ملاحظة : مساحة المحيطات للقراءة والتحليل فقط .

نشاط : ٣

المساحة (كم ^٢)	القارات
٢٤,٢٤٠,٠٠٠	أمريكا الشمالية
١٧,٨١٧,٠٠٠	أمريكا الجنوبية
١٠,٥٣٤,٠٠٠	أوروبا
٤٤,٣٩٠,٠٠٠	آسيا
٣٠,٣١٣,٠٠٠	أفريقيا
٩,٥١٠,٠٠٠	أستراليا
١٤,٠٠٠,٠٠٠	القارة القطبية الجنوبية

- لوّن القارات تبعاً لألوان مفتاح الخريطة :
- كم عدد قارات الكرة الأرضية؟
 - ما أكبر القارات مساحة؟
 - ما أصغر القارات مساحة؟
 - حدد موقع بلادك الكويت . في أي قارة تقع؟
 - أين تقع دولة الكويت بالنسبة لهذه القارة؟ في جهة
 - ضع عنواناً للخريطة .



(٧) القارة القطبية الجنوبية	(٦) أستراليا	(٥) أمريكا الجنوبية	(٤) أمريكا الشمالية	(٣) أوروبا	(٢) أفريقيا	(١) آسيا
--------------------------------	-----------------	------------------------	------------------------	---------------	----------------	-------------

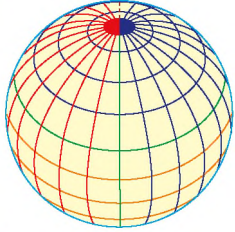
نشاط : ٤

ارجع للخريطة السابقة واستعن بمجسم الكرة الأرضية ثم أكمل .

المحيط	القارات المجاورة للمحيطات
المحيط الهندي	
المحيط الأطلسي	
المحيط الهادي	

٣ - الموقع الفلكي

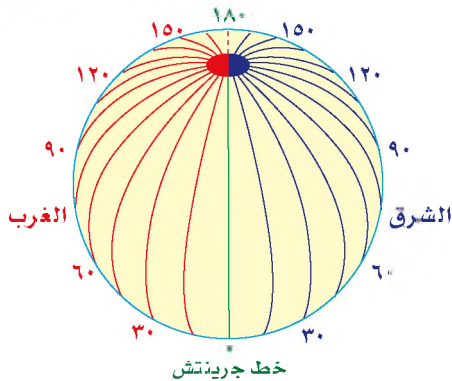
أقرأ وأتعلّم :



لخطوط الطول ودوائر العرض أهمية كبيرة ، حيث إن خطوط الطول تساعد في تحديد مواقع الدول على الخريطة ، كما يمكننا بوساطتها تحديد التوقيت الزمني لأي دولة في العالم ، أما دوائر العرض فلها أهمية مناخية ، فمنها نتمكن من تحديد نوع المناخ لأي دولة في العالم .

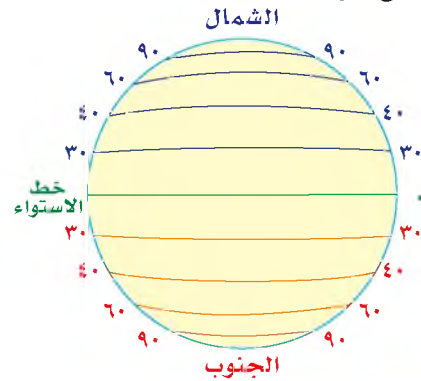
خطوط الطول

- خطوط الطول عبارة عن خطوط وهمية وليست حقيقية .
- يبلغ عدد خطوط الطول (٣٦٠ خطأً) ١٨٠ خطأً شرق جرينتش و ١٨٠ خطأً غرب جرينتش .
- يقسم خط الطول الرئيسي (جرينتش ، ورقمه صفر) الكرة الأرضية إلى قسمين : نصف شرقي ونصف غربي .

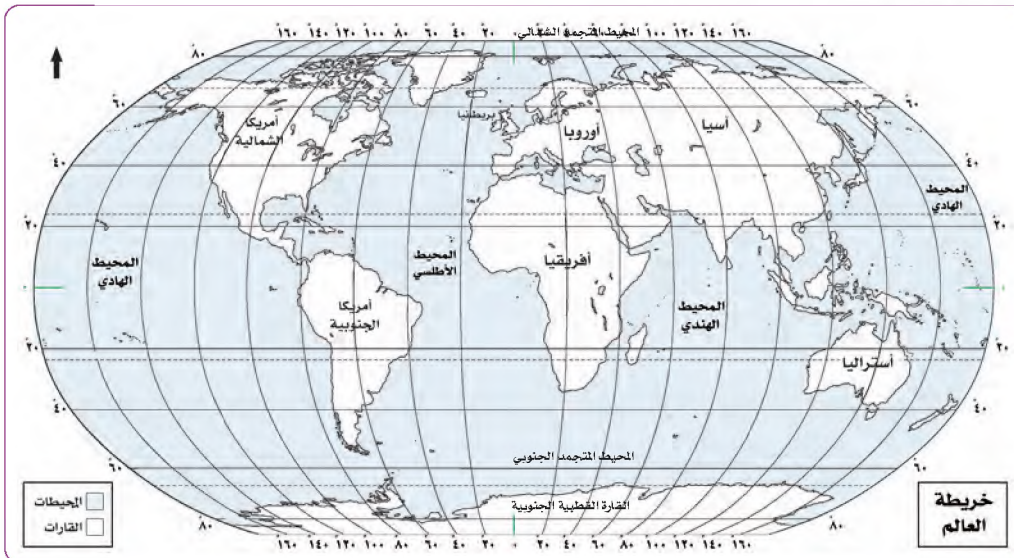


دوائر العرض

- دوائر العرض عبارة عن خطوط وهمية وليست حقيقية .
- يبلغ عدد دوائر العرض (١٨٠ دائرة) ٩٠ دائرة شمال خط الاستواء و ٩٠ دائرة جنوب خط الاستواء .
- يقسم خط الاستواء (ورقمه صفر) الكرة الأرضية إلى نصفين : نصف شمالي ونصف جنوبي وهي دائرة العرض الرئيسية .



نشاط : ١ باستخدام القلم والمسطرة قم بما يأتي :



- ١ - ارسم دائرة العرض الرئيسية (خط الاستواء) .
- ٢ - ارسم خط جرينتش على الخريطة .

من فقرة (أقرأ وأتعلّم) اذكر أهمية كل من :

نشاط : ٢

دوائر العرض	خطوط الطول
.....
.....
.....



نشاط : ٣

● بالاستعانة بالخريطة التي أمامك نفذ

المطلوب :

- ١ - اكتب اسم القارة على الخريطة .
- ٢ - أكمل رسم خط الاستواء الذي يمر بالقارة .
- ٣ - سجل اسم خط الطول الرئيسي على الخريطة في المربع المحدد .

● بالتعاون مع زملائك ، ومن خلال

الخريطة السابقة أكمل الناقص في

الجدول .

درجات العرض التي تمتد بينها القارة	درجات الطول التي تمتد بينها القارة
() شرقاً	() شمالاً
() غرباً	() جنوباً

هل تعلم أن :

الموقع الفلاكي هو موقع القارة أو الدولة بالنسبة لخطوط الطول و دوائر العرض .

٤ - موقع بلادي (١)

أقرأ وأتعلّم :

احتلت دولة الكويت موقعاً جغرافياً فريداً يتوسط قارات العالم ، حيث لعبت دوراً هاماً في تاريخ العالم القديم والحديث . والكويت دولة صغيرة المساحة ، فهي تمتد على مساحة ١٧,٨١٨ كلم^٢ وتقع بين خطي طول ٤٨°-٤٦° شرقاً وبين دائرتي عرض ٣٠°-٢٨° شمالاً ، وتحدها من الشمال والشمال الغربي جمهورية العراق ومن الجنوب والجنوب الغربي المملكة العربية السعودية ، أما من جهة الشرق فتطل دولة الكويت على الخليج العربي ، وهي بهذا الموقع تمثل البوابة الشرقية للوطن العربي كله ، ولموقع دولة الكويت أهمية سياسية واقتصادية منذ القدم .

١ : نشاط : من فقرة (أقرأ وأتعلّم) عدد مميزات موقع بلادك .

- ١ -
- ٢ -
- ٣ -

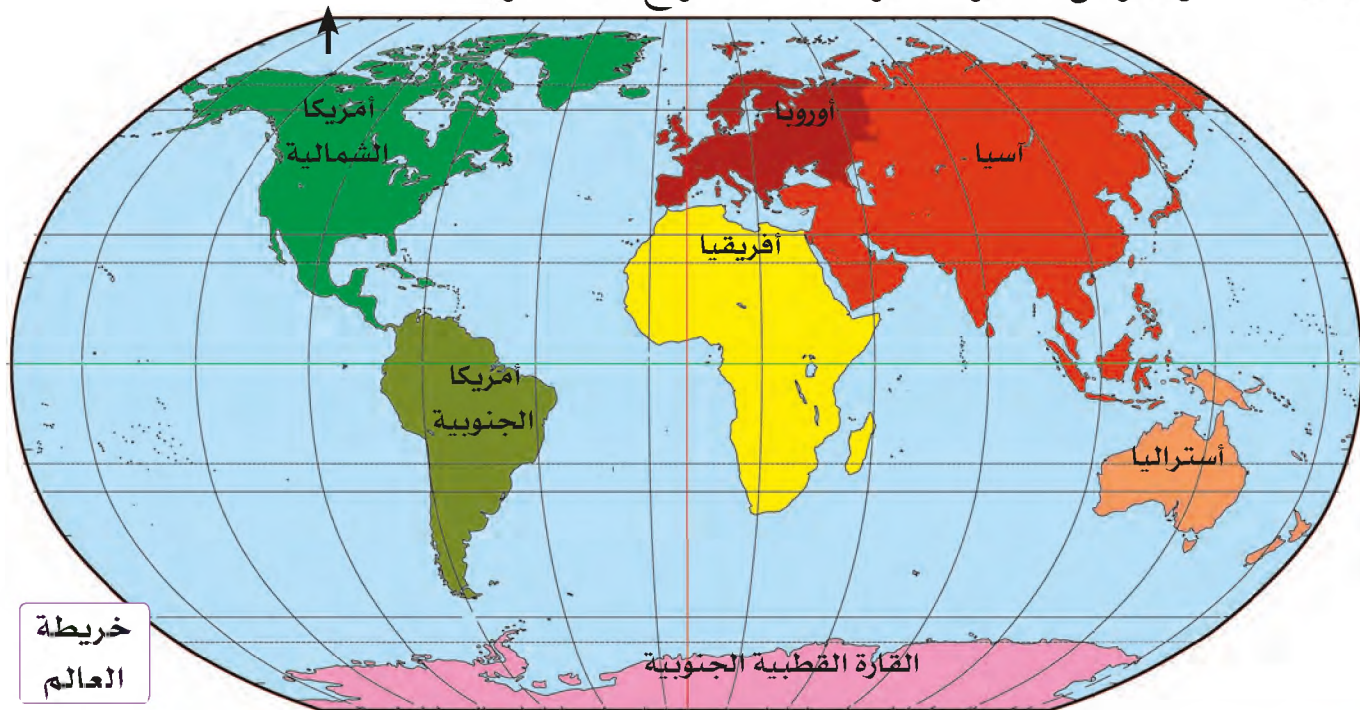
٢ : نشاط :

١ - حدد موقع دولة الكويت على خريطة العالم وذلك بوضع دائرة حولها .

٢ - هل خط جرينتش قريب من بلادك؟ ولماذا؟

٣ - ما اسم القارات التي يمر بها خط جرينتش؟ و و

٤ - ما أهمية دوائر العرض وخطوط الطول بالنسبة لموقع دولة الكويت؟



خريطة
العالم

نشاط : ٣



- ١- باستخدام القلم والمسطرة ، ارسم خطي الطول ودائرتي العرض التي تمتد بينهما دولتك الكويت .
- ٢- سجل على خريطة دولة الكويت خطوط الطول ودوائر العرض بالرجوع لفقرة (أقرأ وأتعلم) .
- ٣- ماذا يسمى موقع دولة الكويت بالنسبة لدوائر العرض وخطوط الطول؟

نشاط : ٤



- ١ - سجل أسماء الدول المجاورة لبلادك الكويت و
- ٢ - اكتب أسماء المسطحات المائية المجاورة والقريبة لبلادك الكويت و
- ٣ - حدد موقع دولة الكويت بالنسبة لكل من :
أ- الخليج العربي ب- شبه الجزيرة العربية
- ٤ - ماذا يسمى موقع دولة الكويت، بالنسبة لليابس والماء؟

٥ - موقع بلادي (٢)

انظر إلى الخريطة التي أمامك ثم ناقش مع زملائك الجملة التالية : « لا تشابه دول العالم في مواقعها الجغرافية » .



نشاط : ١ ادرس خريطة قارة آسيا السابقة ، ثم أجب عن المطلوب :

- أ - لوّن موقع كل من دولة الكويت ، جمهورية منغوليا .
ب - حدد موقع كل من الدولتين (في قارة) ثم سجل في الجدول ما هو مطلوب منك .

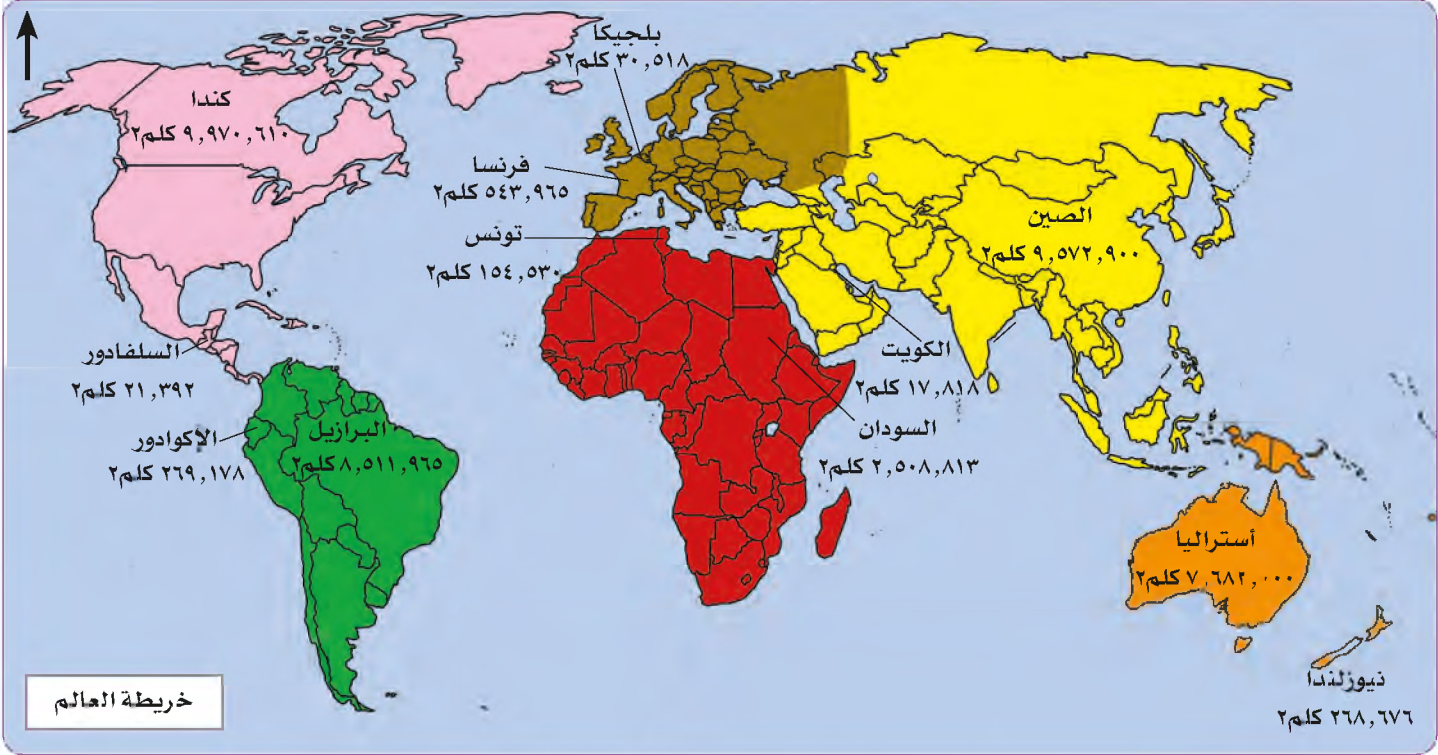
وجه المقارنة	دولة الكويت	جمهورية منغوليا
الموقع النسبي		
الدول المجاورة		
المنفذ البحري		
أهمية الموقع		

هل تعلم أن :

- الدولة التي لها منفذ بحري تسمى بالدولة البحرية .
- الدولة التي يحيط بها اليابس من جميع الجهات تسمى بالدولة المغلقة .

أشاهد وأقرأ :

- تختلف الدول من حيث مساحتها .


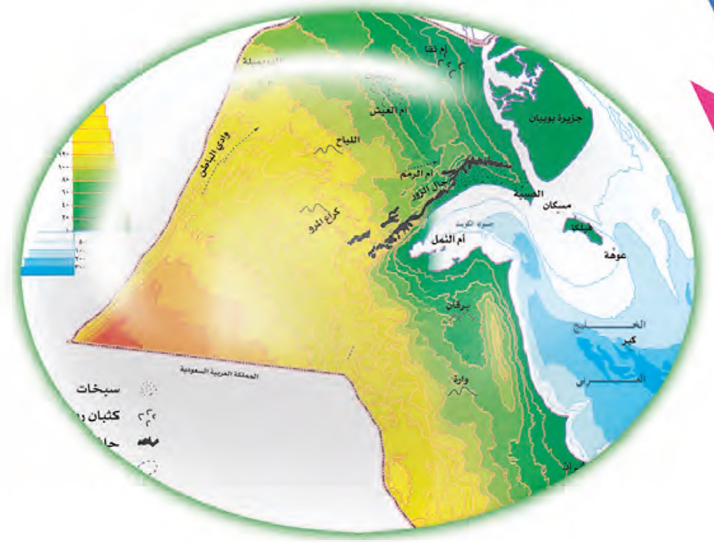


استخرج من الخريطة السابقة دولاً كبيرة المساحة وأخرى صغيرة المساحة حسب ما هو محدد عليها وسجلها في الجدول الآتي :

نشاط : ٢

اسم الدولة ذات المساحة الصغيرة	اسم الدولة ذات المساحة الكبيرة	اسم القارة

ملاحظة : مساحات الدول للقراءة والتحليل فقط .



التضاريس

الوحدة
الثانية






١- تضاريس بلادي .

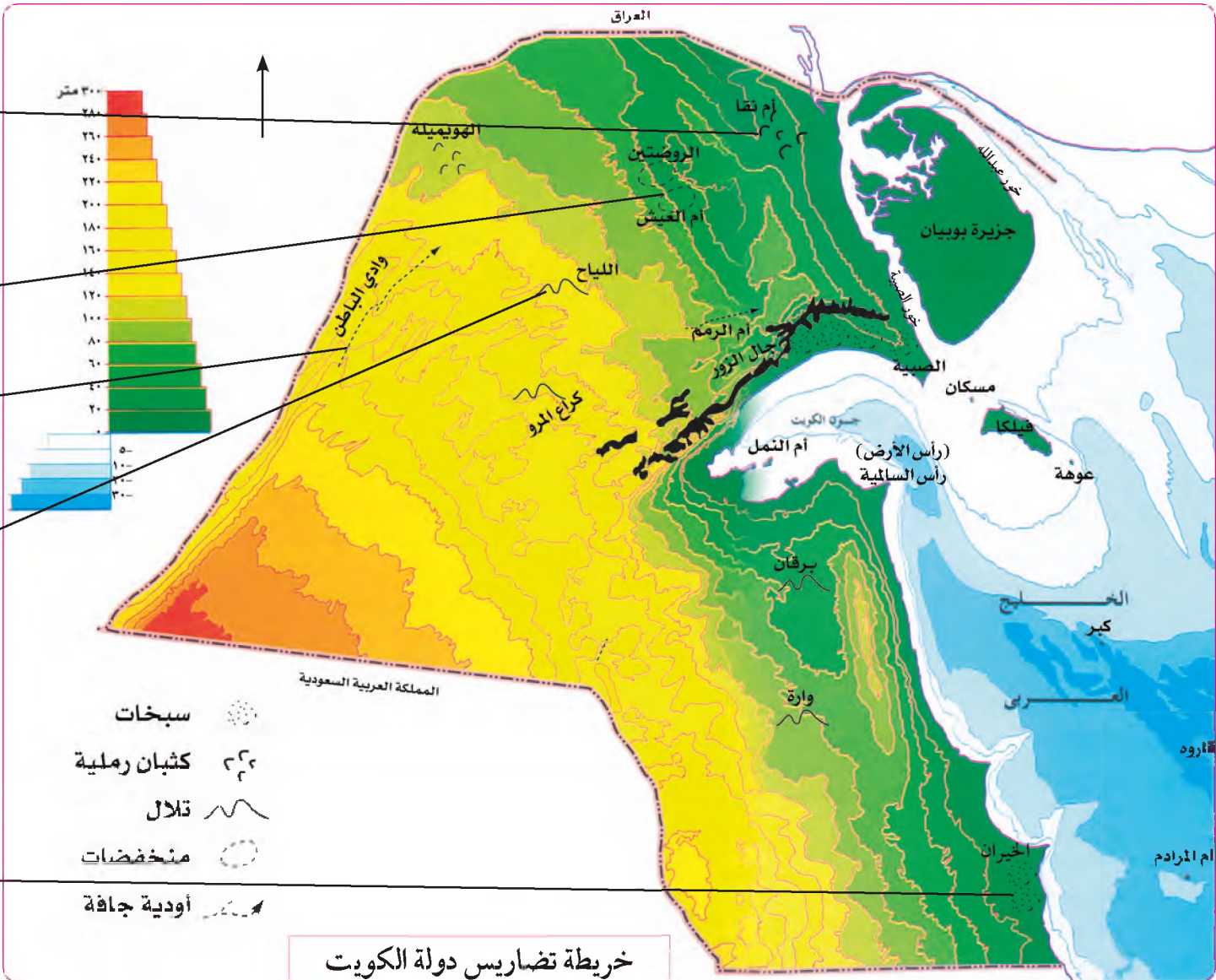
٢- تطبيقات .

١ - تضاريس بلادنا

أقرأ وأتعلم :

أرض الكويت صحراء منبسطة تنحدر تدريجياً من الغرب إلى الشرق حيث تقع سواحلها على الخليج العربي .

تكاد تختفي التضاريس البارزة في أرض الكويت باستثناء **تلال**  جال الزور واللياح وكراع المرو وتلال وارة وبرقان وهي أقل ارتفاعاً . يقطع سطح الكويت عددٌ من **المنخفضات**  التي تتجمع فيها مياه الأمطار شتاءً ، وأهمها في منطقة الروضتين وأم العيش وأم الرمم ، كما يقطعه أيضاً **الأودية الجافة** مثل وادي الباطن  و **كشبان رملية** ساحلية  و **سبخات**  مالحة على طول الساحل .



هل تعلم أن :

- الكثبان الرملية هي تلال من الرمال تتراكم في الصحاري بفعل الرياح .
- السبخات هي أراضٍ منخفضة قليلة المياه تنمو فيها النباتات الملحية .

نشاط : ١ انظر للخريطة السابقة ثم أجب :

١ - صف سواحل دولة الكويت (التعرجات) .

٢ - أكمل العبارات :

- أ - يتوسط ساحل دولة الكويت خليج صغير يعرف باسم ينحدر في الشمال من رأس وينتهي جنوباً برأس
- ب - أكبر الجزر الكويتية جزيرة يفصلها عن أرض الكويت قناة ضيقة هي خور وخور

• شاهد مصورات لمظاهر السطح في دولة الكويت .




كثبان رملية



منخفضات



وادي جاف



تلال



سبخات

٢ - تطبيقات

نشاط : ١

(أ) صنف المفاهيم الآتية و اكتبها تحت الصورة المناسبة لها :

١- رأس . ٢- جون . ٣- جزيرة . ٤- خور . ٥- سهل . ٦- وادي . ٧- تل . ٨- كئشان .

(ب) ناقش مع معلمك تعريف كل مفهوم .



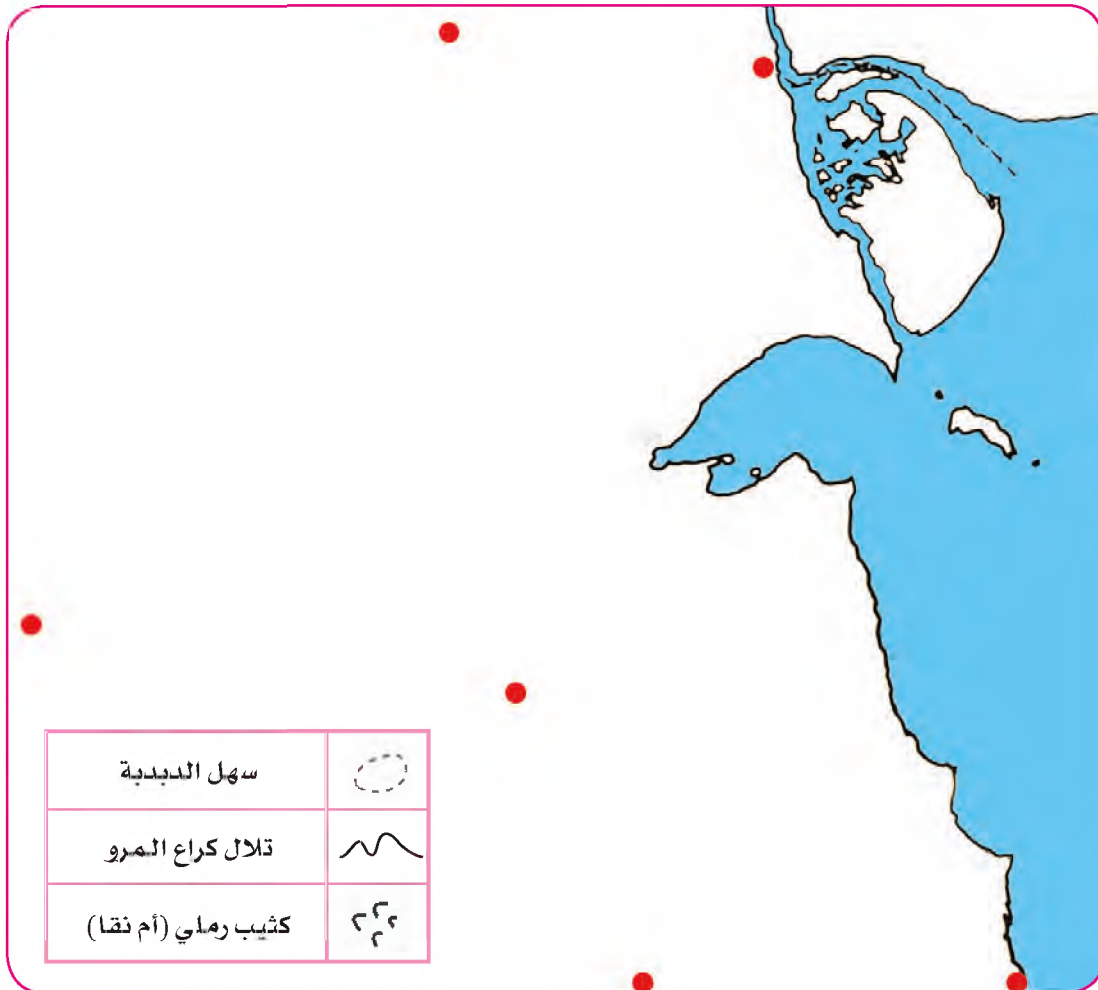
بالاستعانة بالفقرة السابقة ص ٢٦ أكمل الجدول الآتي .


نشاط : ٢

الرمز	المظهر التضاريسي	مسمياتها في دولة الكويت

في المربع الذي أمامك أكمل رسم خريطة دولة الكويت ، ثم اكتب المظاهر التضاريسية حسب المدون في المفتاح .

نشاط : ٣





المناخ

الوحدة الثالثة

١ - عناصر المناخ .

٢ - العوامل المؤثرة في مناخ بلادنا .

٣ - المواسم المناخية في بلادنا .

١ - عناصر المناخ

تذكر : الفرق بين مفهوم كل من :

الطقس

المناخ

(عمل تعاوني) : استمع مع زملائك لنشرة الأحوال الجوية أو (اتصل بالرقم ١٠٤) ثم سجل حالة الطقس في الجدول الآتي :

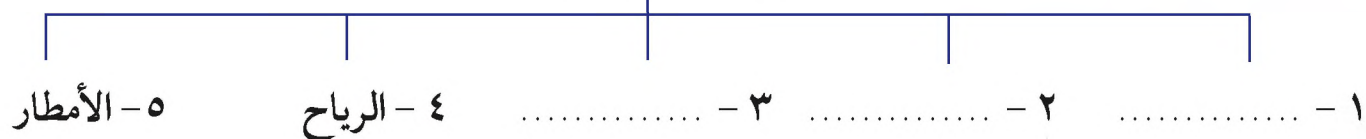
١ : نشاط

	صباحاً	الحرارة
	مساءً	
	مرتفع	الضغط
	منخفض	
	عالية	الرطوبة
	قليلة	
	المد	حالة البحر
	الجزر	
	صافية	حالة السماء
	شمس مشرقة	
	غائم	
	ممطر	حالة الرياح
	نوعها	
	سرعتها	

• ما الفائدة التي نحققها عند سماعنا للأرصاد الجوية؟

١-
٢-

٢ : نشاط

أكمل المخطط الآتي :
من عناصر المناخ :


نشاط : ٣ تعرف مع معلمك أدوات قياس عناصر المُنَاخ الآتية :

ثالثاً - الرطوبة :



جهاز قياس الرطوبة .

ثانياً - الضغط الجوي :



جهاز قياس الضغط .

أولاً - الحرارة :



جهاز قياس الحرارة .

خامساً - الأمطار :



جهاز قياس المطر .

رابعاً - الرياح :



دوارة الرياح تقيس اتجاه
وسرعة الرياح .

احذر من التحدث بالهاتف
النقال أثناء الأمطار الرعدية



لماذا يوضع جهاز الصواعق
فوق المباني العالية؟



«الأمطار الرعدية» (السرايات)



«الأمطار الإعصارية»

أكمل :

* يبدأ سقوط المطر في الكويت في شهر

* تُعرف الأمطار الرعدية التي تسقط في مارس وأبريل ومايو باسم

٢ - العوامل المؤثرة في مناخ بلادنا

فكر : لماذا يختلف المناخ بين مناطق العالم؟



الارتفاع عن مستوى سطح البحر



توزيع اليابس والماء

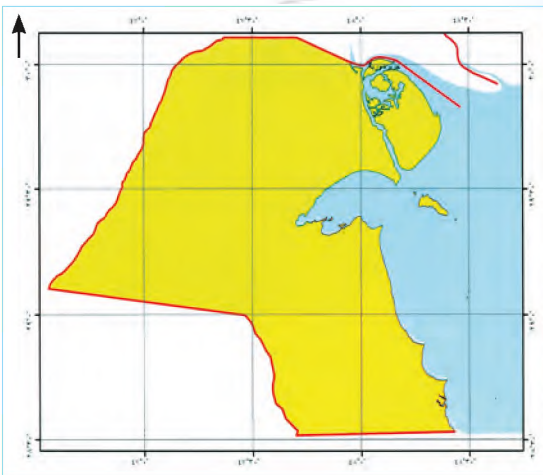
ادرس الأشكال الآتية :



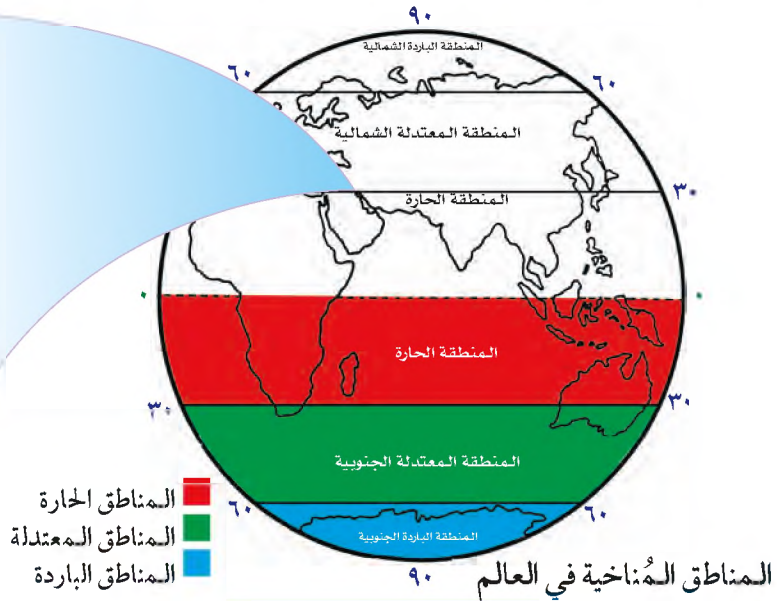
الموقع بالنسبة لدوائر العرض

اقرأ ، واستنتج :

قسّم العالم إلى مناطق مناخية حسب قربها أو بعدها عن خط الاستواء ، وتذكر أن دوائر النصف الشمالي تتطابق مع دوائر النصف الجنوبي للكروية الأرضية .



خريطة دولة الكويت



المناطق المناخية في العالم

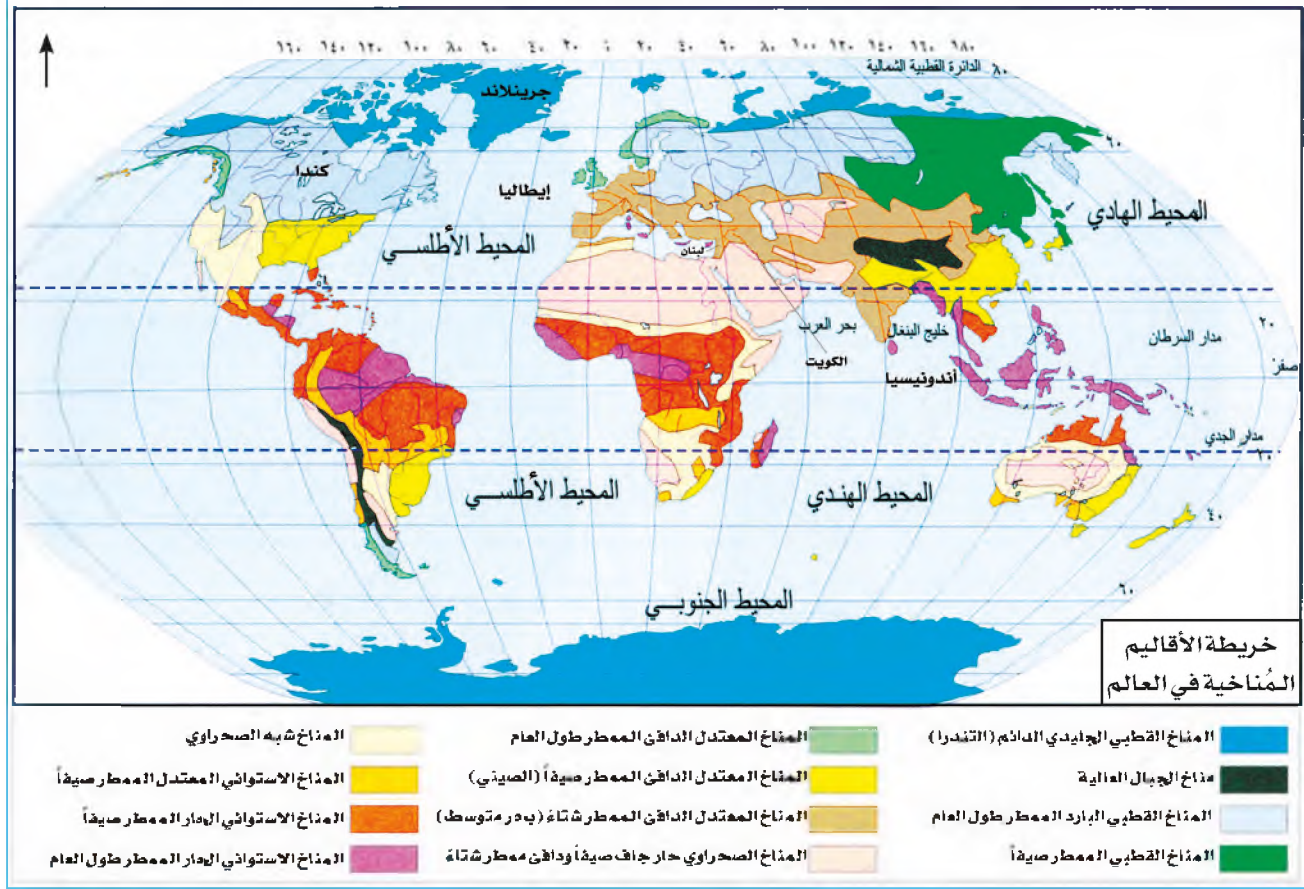
١ - استعن بمفتاح الخريطة في تلوين المناطق المناخية في العالم والتي تقع شمال خط الاستواء .

٢ - سجل دائرتي العرض التي تمتد بينهما دولة الكويت على الخريطة (شمال خط الاستواء) .

٣ - لاحظ دائرتي العرض التي تمتد بينهما دولة الكويت واستنتج المنطقة المناخية التي تقع فيها دولة الكويت

أقرأ ، وأتعلم :

قسم العالم إلى عدة أقاليم مناخية حسب تأثيرها بالعوامل الثلاثة سابقة الذكر .



أكمل الجدول الذي يمثل نماذج لبعض الأقاليم المناخية .

نشاط : ٢

الرمز	الإقليم المناخي	صفاته / مميزاته
●	الاستوائي	
●	الصحراوي	
●	المعتدل (البحر المتوسط)	
●	القطبي	

فرّق بين :

نشاط : ٣

أوجه المقارنة	مناخ دولة الكويت	مناخ لبنان	مناخ جرينلاند	مناخ أندونيسيا
نوع الحرارة				
الأمطار				

ملاحظة : خريطة الأقاليم المناخية وأنشطتها في العالم للمقارنة والتحليل فقط .

٣ - المواسم المناخية في بلادنا

أقرأ ، وأتعلّم :

تميزت صحراء شبه الجزيرة العربية غالباً بصفاء جوّها مما أتاح لسكانها التميز بعلوم الفلك ، وقد عرف أهل الكويت مواقع النجوم واستفادوا منها في :

- ١ - معرفة الاتجاهات الأصلية .
- ٢ - معرفة أحوال المناخ مما أعانهم على تجنب أوقات الرياح الشديدة على السفن (حيث يتوقف السفر في فصل الصيف) .

ماذا تعرف



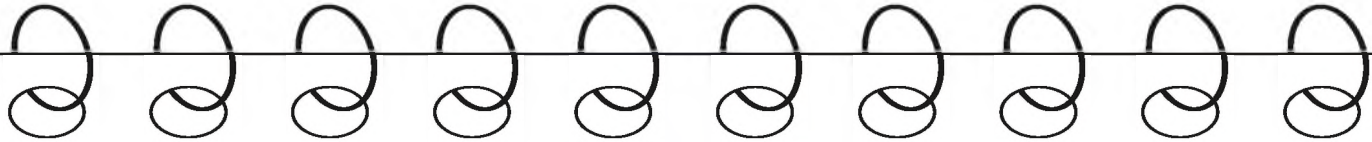
عن الدكتور صالح العجيري؟

هل تعلم :



أن وكالة ناسا لعلوم الفضاء أشادت بجهود العرب في هذا المجال .

اقرأ الجدول التالي الذي يوضح بعض مسميات الظواهر المناخية الخاصة بالبيئة الكويتية والتي هي امتداد للخبرات العربية الأصيلة منذ مئات السنين .



المواسم السنوية

اسم الموسم	أيامه	من	إلى	الجو السائد
سهيل	٥٢	٨/٢٤	١٠/١٤	ينكسر الحر ، حيث تنخفض درجة الحرارة .
الوسم	٥٢	١٠/١٥	١٢/٥	بداية الأمطار ، ويكثر بالفتح ووفرة الخضرة بالصحراء .
المربعية	٤٠	١٢/٦	١/١٥	شدة البرد ، حيث يستمر انخفاض الحرارة لمدة ٤٠ يوماً .
الثريا	١٣	٦/٧	٦/١٩	البوارح ، حيث يثار فيها الغبار .
الجوزاء	١٣	٧/٣	٧/١٥	رياح السموم ، حيث تكون الرياح شديدة الحرارة .
المرزم	١٣	٧/٢٩	٨/١٠	استمرار الحرارة وبداية الرطوبة .

ملاحظة : التواريخ للقراءة والتحليل فقط .

نشاط : ١ عمل تعاوني - مباراة النجوم والمواسم .

مجموعة الموسم



- ١ - متى يبدأ موسم سقوط المطر؟
- ٢ - علل ظهور الفقع في بعض المواسم .
.....

مجموعة نجم سهيل



- ١ - كم عدد أيام موسم سهيل؟
- ٢ - ماذا يحدث لدرجة الحرارة عندما يظهر (يدلق) نجم سهيل؟

مجموعة نجم الثريا



- ١ - في أي شهر تكون البوارح؟
- ٢ - البوارح رياح مغبرة تهب في فصل
.....

مجموعة موسم المربعانية



- ١ - علل تسمية هذا الموسم بالمربعانية
- ٢ - ما ميزة هذا الموسم؟

مجموعة نجم المرزم





- ١ - فسر المثل (إذا ظهر المرزم شد الحزم)
- ٢ - علل تسمية فترة ظهور المرزم بجمره القبيظ ...
.....

مجموعة الجوزاء



- ١ - علل تسمية رياح السموم بهذا الاسم
- ٢ - علل تميز العرب بعلوم الفلك .
.....

نشاط : ١ اكتب بعض الأمثلة الكويتية القديمة المرتبطة بمواسم الطقس .



اسأل عن مواسم أخرى في بلادك . (للاستفادة) .



النبات والحيوان

الوحدة
الرابعة

١ - النبات الطبيعي في بلادنا .

٢ - حيوانات في بلادنا .

١ - النبات الطبيعي في بلادنا

ارسم أو الصق صورة نبات طبيعي شاهدته في صحراء الكويت .

نشاط : ١

- ١ - اذكر اسم هذا النبات .
- ٢ - فكر لماذا لا تشاهد هذا النبات مزدهراً طوال العام؟

أقرأ ، وأتعلّم :

لقد أثرت الظروف المناخية القاسية على نمو الغطاء النباتي في دولة الكويت ، فالتفاوت في درجة الحرارة وارتفاع نسبة سطوع الشمس وكثرة حدوث العواصف الترابية وارتفاع نسبة التبخر وقلة مياه الأمطار وعدم انتظامها ، جعلت النبات الطبيعي يعيش في بيئة صحراوية صعبة .
ولكن من يزور صحراء الكويت في وقت الربيع حيث المناخ المعتدل يلاحظ وجود نباتات برية جميلة ومتنوعة منها الحولية أو الموسمية التي تتكاثر بعد سقوط المطر وتكمل دورة حياتها في فترة زمنية قصيرة ، ومنها النباتات المعمرة أو الدائمة وهي ذات جذور عميقة تمتاز بصفات تعينها على الاستفادة من المياه القليلة ، وتزدهر في فصل الربيع .



نبات كحيل (حولي)



نبات العرفج (مُعمّر)

بعد قراءة الفقرة السابقة أجب عما يأتي :

نشاط : ٢

- ١ - ما الظروف المناخية المؤثرة على شكل الغطاء النباتي في دولة الكويت؟
و.....
- ٢ - فرّق بين مفهوم كل من :

نباتات طبيعية دائمة أو معمرة	نباتات طبيعية حولية أو موسمية
.....

• أشاهد وأستنتج أشكال النباتات الطبيعية في دولة الكويت :

النبات	نوعه	نوع التربة	فترة نموه	استخداماته
نبات العرفج	نبات مُعَمَّر	تربة رملية	يبدأ النمو عندما تنخفض درجة الحرارة ويتساقط المطر ، وفترة ازدهاره شهر مارس وأبريل .	* بعد جفافه يستخدم حطباً للتدفئة والطهي . * يخزن ويجفف عند البدو ليكون علفاً للماشية .
نبات الثيل	نباتي حَوْلِي	تربة رملية مفككة	من يناير إلى أبريل .	* نبات رعوي جيد للماشية .
نبات الهرم	نباتي حَوْلِي	تربة سبخة ذات مستوى مائي مرتفع .	يزدهر في شهر مايو ويوليو .	* نبات طبيّ به مادة منشطة لحركة القلب .
نبات الشنان	نبات مُعَمَّر	تربة رملية سبخية مالحة .	موسم الخريف في شهر سبتمبر .	* تستعمل أغصانه وقوداً . * تستعمل أوراقه كمادة صابونية للغسيل (عند البدو) .

نباتات البيئة الصحراوية

























نباتات البيئة الساحلية

ملاحظة : الجدول للقراءة والتحليل فقط .

هل تعلم أن :

- ١ - اختلاف تنوع النباتات يرتبط باختلاف طبيعة التربة والبعد عن البحر .
- ٢ - عدم وجود تضاريس مختلفة كالمرتفعات العالية والوديان الواسعة يجعل الغطاء النباتي ضعيفاً في الكويت .

نشاط : ٣ اقرأ الجدول الآتي ثم أجب عن الأسئلة :

مناطق انتشارها	أنواع النباتات الطبيعية				
 الخيران					
	الرمث	ثدة	حمبزان	كحيل	ثيل
 كبد					
	كحيل	ربلة	عرفج	ثيل	الرمث
 جال الزور					
	الرمث	كحيل	ثيل	عرفج	حويدان
 اشقايا					
	خافور	حويدان	كحيل	الرمث	عين البعارين

- ١ - ما النبات الطبيعي الذي يظهر نموه في المناطق الكويتية الأربع ؟
- ٢ - ما المنطقتان اللتان تشابهان في نمو ثلاثة أنواع من النبات الطبيعي ؟
- ٣ - ما النباتات الطبيعية التي لا تظهر أنواعها إلا مرة واحدة في الجدول ؟

ملاحظة : الجدول للقراءة والاستنتاج فقط .

نشاط جماعي :

انظر للصور ثم ابحث مع مجموعتك عما يأتي :



١- ماذا تشاهد في الصورة؟

.....

٢- متى يكون موسم ظهوره؟

.....

٣- ما هي قيمته الغذائية؟

.....

٤- عدد أنواعه؟

.....

٥- كيفية استخراجها :

.....

٢ - حيوانات في بلادي

أقرأ وأتعلّم :

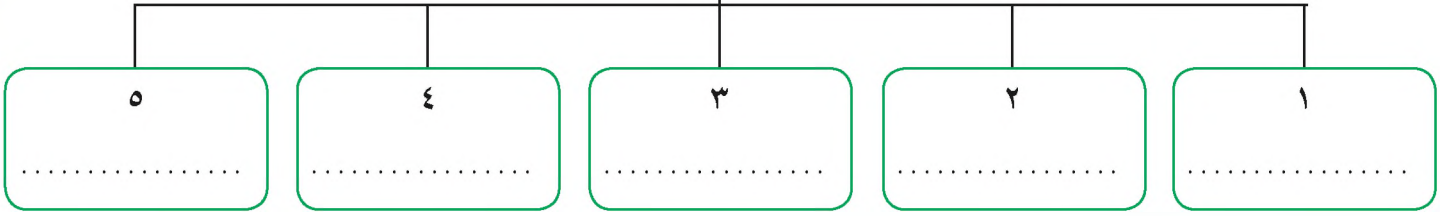
تتوزع بيئة الأحياء الكويتية بمجموعة من الحيوانات البرمائية والزواحف والطيور والثدييات والأسماك والحشرات والعناكب ، وكان للتلين الكبير في درجة الحرارة في الكويت أثره على الحيوانات فيها ، مما شكّل وضعاً صعباً لكي تتكيف هذه الحيوانات مع البيئة .

انظر للصور التالية ، اقرأ معلومات عن بعض نماذج للحيوانات الأكثر شهرة في الكويت .



نشاط ١: استنتج أنواع الحياة الحيوانية في دولة الكويت ، ثم أكمل المخطط السهمي الآتي :

أنواع الحياة الحيوانية في دولة الكويت




نشاط ٢: أكمل الفراغات التالية :

- ١ - الحيوان الذي يطلق عليه سفينة الصحراء يسمى
- ٢ - أكثر الطيور انتشاراً في بلادي و و

نشاط ٣: اكتب الاسم المحلي الأنواع الحيوانات التالية :



.....



.....

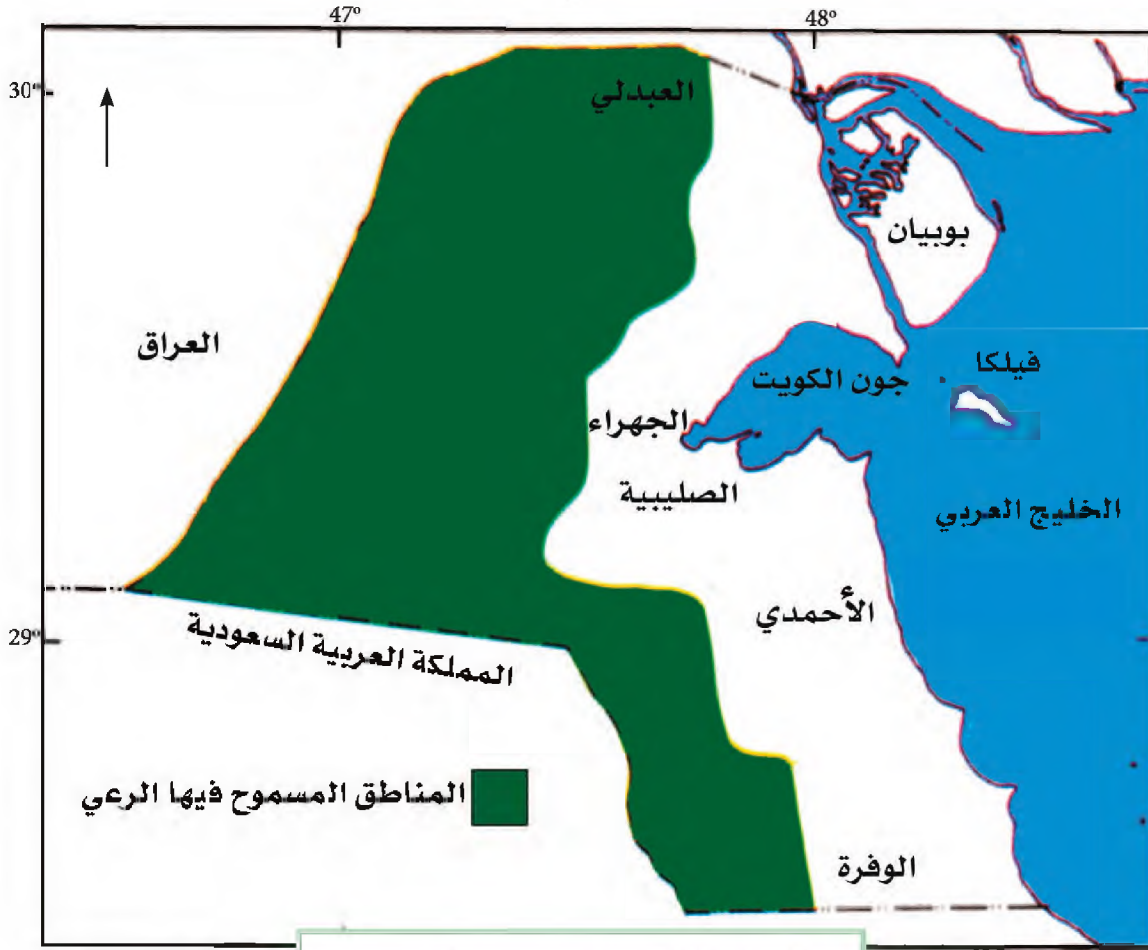
نشاط ٤: أكمل المعادلات التالية بما يناسبها :

الحشرات = العنكبوت + + - ١

الزواحف والقوارض = + العقرب + - ٢

أنظرُ وأتعلّمُ :

خريطة دولة الكويت موزع عليها المناطق الرعوية




خريطة المناطق الرعوية في دولة الكويت

أقرأ وأتعلّمُ :

تتمثل أهمية النباتات الطبيعية باعتبارها مصدراً غذائياً مهماً لأنواع عديدة من الحيوانات البرية والطيور .
وتعد حيوانات المراعي كالأغنام والماعز والإبل من أكثر الحيوانات استجابة للظروف المناخية المحلية .
فسر الصور الآتية شفهيّاً :



(٢)



(١)



نشاط : ٥ انظر للصورة ، ثم فسر الاختفاء الكامل للنباتات الطبيعية في تلك المنطقة .

أستنتج أن :

الرعي الجائر هو الإفراط في الرعي ، وهو أحد أسباب ظاهرة التصحر في دولة الكويت ، والتصحر يعني امتداد تأثير الصحراء على المناطق الرعوية والزراعية .

• اقترح حلولاً لمعالجة ظاهرة التصحر في الكويت .

فكر ...

ما دور الدولة في الحفاظ على البيئة الحيوية في دولة الكويت سواء للنبات الطبيعي أو للحياة الحيوانية؟ ابحث مع زملائك عن الإجابة .

-٢

-١



• ظلل على الخريطة الصماء المناطق المسموح بها الرعي .

حكام دولة الكويت



حكام من بلادي

الوحدة
الخامسة

١ - حاكم من بلادي (الشيخ أحمد الجابر الصباح).

٢ - بصمة حاكم في تاريخ الكويت . الشيخ عبدالله
السالم الصباح (أبو الاستقلال) - أبو الدستور .

٣ - الشيخ صباح السالم الصباح (أبو الجميع) .

٤ - الشيخ جابر الأحمد الصباح (أمير القلوب) .
• - الاحتلال والصمود .
• - التحرير وشمس الحرية .

٥ - الشيخ سعد عبدالله السالم الصباح (الأمير الوالد) .

٦ - الشيخ صباح الأحمد الصباح (الأمير القائد) .



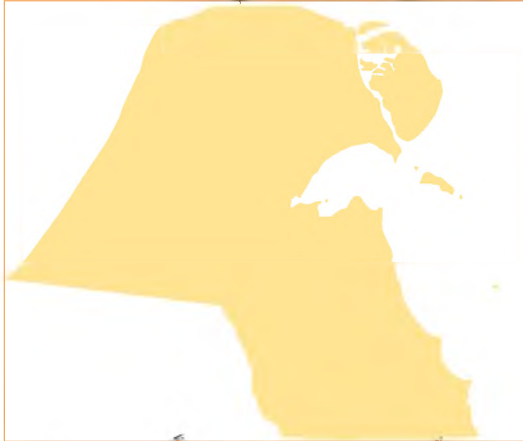
١ - حاكم من بلادي

الشيخ أحمد الجابر الصباح
الحاكم العاشر لدولة الكويت

أقرأ وأتعلّم :



٤ - اكتشاف أول بئر نفطي في بحرة
١٩٣٦ م ، وأول بئر منتجة للنفط في
منطقة برقان ١٩٣٨ م .



٦ - جعل الكويت دولة بدلا من إمارة.

- تولى الحكم بعد وفاة عمه الشيخ سالم المبارك الصباح .
- من أهم الأحداث في عهده :
- ١ - قيام أول مجلس للشورى في دولة الكويت ١٩٢١ م .
- ٢ - افتتاح المدرسة الأحمدية ١٩٢١ م .



٣ - منح امتياز التنقيب عن النفط للشركات
الأجنبية ١٩٣٤ م .



٥ - تصدير أول شحنة من النفط ١٩٤٦ م .

هل تعلم أن :

امتياز التنقيب يعني إعطاء الدولة حق البحث والتنقيب عن النفط وبيعه لشركة أجنبية
متخصصة تشارك الدولة في قسط من العائدات المالية لمدة معينة .

اقرأ اتفاقية امتياز التنقيب عن النفط ١٩٣٤ م .

نشاط : ١



• اتفاقية التنقيب عن النفط ١٩٣٤ م

هذه الاتفاقية عقدت في الكويت ١٩٣٤ م بين صاحب السمو الشيخ أحمد الجابر الصباح شيخ دولة الكويت عملاً بماله من السلطة كحاكم لدولة الكويت بالأصالة عن نفسه وبالنيابة عن ورثته وخلفائه الذين بيدهم الآن مقاليد الأمور وشركة نفط الكويت المحدودة وهي شركة مسجلة في بريطانيا ، ونصت على (٢١) مادة من أهمها :

- المادة الأولى يمنح الشيخ بموجب هذه الاتفاقية حقاً للشركة للتنقيب عن النفط .
- المادة الثانية تحفر الشركة الأرض لاستخراج النفط .
- المادة الثالثة تتعهد الشركة بأن تدفع للشيخ مبالغ مالية .

١- عرّف اتفاقية امتياز النفط :

٢- من هو حاكم الكويت الذي وقع اتفاقية امتياز النفط؟

٣- اكتب ثلاث مواد من الاتفاقية؟

٢

١

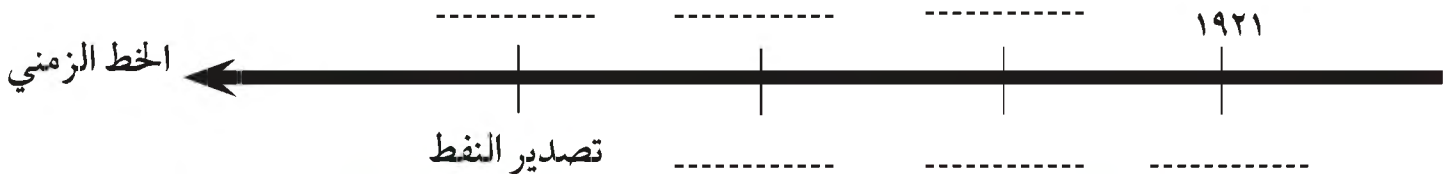
٣

رتب الأحداث التاريخية الآتية على الخط الزمني :

نشاط : ٢

اكتشاف حقل برقان ١٩٣٨ م - المدرسة الأحمدية ١٩٢١ م - تصدير النفط ١٩٤٦ م - امتياز

التنقيب عن النفط ١٩٣٤ م .



ملاحظة : نص الاتفاقية للقراءة والتحليل فقط.

٢ - بصمة حاكم في تاريخ الكويت



الشيخ عبدالله السالم الصباح «أبو الاستقلال»
الحاكم الحادي عشر لدولة الكويت

أقرأ وأتعلّم :

تولى الحكم بعد وفاة ابن عمه الشيخ أحمد الجابر الصباح .

الإجازات الخارجية



الإجازات الداخلية



- إلغاء معاهدة الحماية
١٨٩٩م واستبدالها بمعاهدة
تعاون وصدّاقة ١٩٦١م مع
بريطانيا .
- الانضمام للجامعة العربية
١٩٦١م .
- الانضمام لهيئة الأمم المتحدة
١٩٦٣م .



- رفع العلم الجديد لدولة الكويت .
- صدور عملة جديدة
هي الدينار الكويتي .



- إنشاء المجلس التأسيسي ١٩٦٢م لإعداد الدستور
الكويتي والتصديق عليه .
- إجراء أول انتخابات نيابية ، وافتتاح مجلس
الأمة ١٩٦٣ .

عبارة عن وثيقة مكتوبة
تتكون من مجموعة من
المواد التي تنظم العلاقة
بين الحاكم والمحكوم
وتحدد حقوق وواجبات
المواطنين نحو
وطنهم .

الدستور :



هل تعلم أن :

- ١- الاستقلال : هو عبارة عن مسؤولية الدولة بصورة مباشرة عن إدارة شؤونها الداخلية والخارجية .
- ٢- حصلت الكويت على استقلالها في ١٩ / ٦ / ١٩٦١ م .
- ٣- نحتفل بالعيد الوطني لدولتنا الحبيبة كل عام في ٢٥ فبراير وهو تاريخ جلوس الشيخ عبدالله السالم على كرسي الحكم وذلك تكريماً له ، ولقب بـ«أبو الاستقلال وأبو الدستور» وعرف عهده بالعصر الذهبي لدولة الكويت .

نشاط : ١ اكتب حدثاً واحداً تم في السنوات المذكورة في الجدول التالي :

السنوات	الأحداث
١٩٦١
١٩٦٢
١٩٦٣

نشاط : ٢ صنف الإنجازات التي قام بها الشيخ عبدالله السالم داخلياً وخارجياً :

- رفع العلم الجديد لدولة الكويت .
- الانضمام للجامعة العربية .
- إعداد الدستور الكويتي والتصديق عليه .
- إلغاء معاهدة الحماية مع بريطانيا .

خارجياً

داخلياً

- ١-
- ٢-

- ١-
- ٢-



٣ - الشيخ صباح السالم الصباح «أبو الجميع»

الحاكم الثاني عشر لدولة الكويت

أقرأ وأتعلّم :

تولى الحكم بعد وفاة أخيه الشيخ عبدالله السالم ١٩٦٥ م ، وقد كان يتميز بإنسانيته وتواضعه وبساطته وحبه للخير وتسخير طاقاته لدولة الكويت وأهلها ، كما تبرزها أشعاره الشعبية البسيطة :

أنا وشعبي كلبونا جماعة
الدين واحد والهدف أخدم الشعب
لو ضاق صدر الشعب ما استتر ساعة
أضيق من ضيقه واستر لو حب

وبرزت في عهده عدة أحداث مهمة منها :



٢ - اعتداء النظام العراقي البائد على مركز الصامته الحدودي الذي يقع في الجزء الشمالي الشرقي من الكويت ١٩٧٣ م .



١ - افتتاح جامعة الكويت ١٩٦٦ م .



٤ - إنشاء مؤسسة الكويت للتقدم العلمي ١٩٧٦ م .



٣ - تأميم النفط ١٩٧٥ م «أي تملك الدولة لشركات النفط العاملة في أراضيها» .

٥ - عقد اتفاقيات اقتصادية مع دول الخليج العربي .

٦ - اشتراك الكويت في العديد من المنظمات والهيئات العالمية .

نشاط : ١ صل من المجموعة (أ) مايناسبها من المجموعة (ب)

المجموعة (ب)

١٩٧٦م

١٩٧٣م

١٩٦٦م

١٩٧٥م

المجموعة (أ)

افتتاح جامعة الكويت .

تأميم النفط .

انشاء مؤسسة الكويت للتقدم العلمي .

اعتداء النظام العراقي البائد على مركز الصامته الحدودي .

تولى الحكم في عام



لقب الشيخ صباح
السالم الصباح بـ

أهم الإنجازات في عهده تأميم النفط
(عُرف تأميم النفط)



٤ - الشيخ جابر الأحمد الجابر الصباح



«أمير القلوب»

الحاكم الثالث عشر لدولة الكويت

أقرأ وأتعلّم :

تولى الحكم بعد وفاة خاله الشيخ صباح السالم الصباح

حصول

المرأة في عهده على
حقها السياسي ٢٠٠٥م
وتعيين الدكتورة معصومة
المبارك



أول وزيرة
للتخطيط
والتنمية
الإدارية

صور
مضيئة في حياة
أمير القلوب

نادى

بإنشاء مؤسسة
التأمينات الاجتماعية
لخدمة المتقاعدين
*١٩٧٦م

إنشاء

مجلس
الخدمة المدنية
*١٩٧٨م

دعا

إلى إنشاء
محكمة عدل
إسلامية في
منظمة المؤتمر
الإسلامي

نادى

بقيام مجلس
التعاون الخليجي
الذي تأسس
*١٩٨١م

إنشاء

مؤسسة
البتروال الكويتية
*١٩٨٠م

كما حدث في عهده غزو النظام العراقي البائد للكويت عام ١٩٩٠م، وتحقق تحرير دولة الكويت بمساعدة الدول الشقيقة والصديقة ١٩٩١م



نشاط : ١ أعد ترتيب الأحداث الآتية ترتيباً تصاعدياً :



- ١- مجلس الخدمة المدنية .
- ٢- مؤسسة التأمينات الاجتماعية .
- ٣- فكرة وإنشاء مجلس التعاون .
- ٤- حقوق المرأة السياسية .
- ٥- الغزو العراقي على دولة الكويت .

نشاط : ٢ أكمل الفراغات التالية :

- ١- تم إنشاء مؤسسة التأمينات الاجتماعية في عهد الشيخ جابر الأحمد الجابر الصباح لخدمة
فئة
- ٢- العام الذي تأسس فيه مجلس التعاون الخليجي م .
- ٣- الشيخ الذي تأسس في عهده مجلس الخدمة المدنية هو
- ٤- العام الذي حصلت فيه المرأة الكويتية على حقها السياسي في دولة الكويت هو
عام م .

الاحتلال والصمود

أقرأ وأتعلّم :

نزور المتاحف لأنها ذاكرة الشعوب التي تُسجّل فيها الأحداث فتذكرها ونعتبر منها .

هيا
يا عبدالوهاب سوف
نذهب إلى مكانٍ سيعجبك
كثيراً .



ما هذا يا أبي مكتوب
عليه متحف (كي لانسي) ، كي
لانسي ماذا يا أبي ؟



كي
لانسي غزو النظام العراقي
البائد لدولتنا الحبيبة .



ومتى
حدث هذا الغزوا
يا أبي ؟



لقد استيقظنا في يوم الخميس
الثاني من أغسطس ١٩٩٠ ، وإذا بالقوات
العراقية تحتل أرضنا ، فقد أراد نظام الحكم البائد
في العراق القضاء على كيان دولة الكويت
المستقلة ومحوها من خريطة العالم .



ولكن
لماذا فعل ذلك وهو البلد الجار
والشقيق؟



لقد
عمد العراق إلى إثارة الخلافات والمشاكل مع دولة
الكويت حول قضايا الحدود والنفط ، وقد عملت الكويت دائماً
وبكل الطرق على حل مشكلة ترسيم الحدود مع العراق ، إلا أنه كان يماطل
في إنهاء القضية وحدث ما حدث في ٢ أغسطس ١٩٩٠ م .



وماذا
حدث في ٢ أغسطس
١٩٩٠م أخبرني أكثر يا أبي؟



لقد قامت قوات الاحتلال ومد
الساعات الأولى لعدوانها بعمليات التدمير والقتل
واستخدام أساليب التعذيب والإرهاب لإجبار الشعب الكويتي
على الخضوع لها ، فكانت تدهم البيوت وتعتقل المواطنين العزل وتسرق
السيارات وكل محتويات المنازل ، كما أصدرت عدة أوامر مثل إلغاء الجنسية
الكويتية وتغيير لوحات أرقام السيارات الكويتية .



وماذا
فعل الكويتيون تجاه هذه
الاعتداءات؟



لقد صمد الشعب الكويتي
ورفض الخضوع لهذا الاحتلال الغادر، وأكد تمسكه بسيادة
واستقلال وطنه، وولاءه لسمو أمير البلاد والحكومة الشرعية، فأعلن
العصيان المدني (أي الامتناع عن العمل وعن التعاون مع النظام المحتل بأي
شكل من الأشكال)، ومن أجل ذلك ضحى الكثيرون من أفراد الجيش والحرس
الوطني والداخلية وغيرهم من أفراد الشعب الكويتي بأرواحهم واستشهدوا وهم يدافعون
عن أرض الكويت الطاهرة، ووقع عدد منهم في الأسر.



لاحظ يا أبي
هذا المجسم . . هل قام الكويتيون
بمظاهرات ضد العدوان؟



نعم لقد انطلقت المظاهرات الكويتية منذ الأيام
الأولى ترفض الاحتلال العراقي، وتشكلت الخلايا السرية في كل
أنحاء الكويت للمقاومة المسلحة وقامت بالعديد من العمليات التي أدخلت
الذعر والهلع في قلوب القوات العراقية، وتشكلت اللجان الشعبية في كل المناطق
السكنية.



وما
هي أعمال اللجان الشعبية؟



من أعمال اللجان الشعبية :

- إدارة الجمعيات التعاونية .
- حراسة الأحياء السكنية .
- القيام بأعمال النظافة وتوفير الخبز .
- توصيل المساعدات المختلفة للأهالي .



والكويتيون في الخارج ماذا كانوا يفعلون؟



لقد قام الكويتيون في الخارج

بعدة أعمال منها :

- المشاركة في مؤتمر جدة الشعبي في الفترة من ١٣ - ١٥ / ١٠ / ١٩٩٠م والذي هدف إلى عودة الشرعية الكويتية .
- إرسال وفود إلى دول العالم من رجالات الكويت .
- رفع الوضع الكويتي للجامعة العربية والأمم المتحدة .
- تنشيط الدور الإعلامي وتنظيم المسيرات في الكثير من عواصم دول العالم لإبراز قضيتنا العادلة .



- التطوع في الجيش الكويتي الذي انضم لدرع الجزيرة وساهم في حرب التحرير ، ولا ننسى حكامنا الذين أعلنوا قيام حكومة مؤقتة في مدينة الطائف بالمملكة العربية السعودية للحفاظ على الشرعية الكويتية .



ومتى تحررت دولة الكويت من هذا العدوان؟



لقد تحررت في ٢٦ فبراير ١٩٩١م بعد

- وقوف دول العالم المحبة للسلام مع الحق الكويتي ، كما وقفت الدول الشقيقة والصديقة التي أدانت العدوان منذ يومه الأول وأرسلت جيوشها لتقاتل لتحرير دولة الكويت .



نشاط : ١ أكمل الفراغات في العبارات الآتية بكلمات مناسبة :

- ١ - بدأت القوات العراقية بالعدوان على دولة الكويت في صباح يوم الثاني من سنة
- ٢ - لقد أصدرت القوات العراقية عدة أوامر للكويتيين مثل تغيير وتغيير
- ٣ - المقصود بالعصيان المدني هو

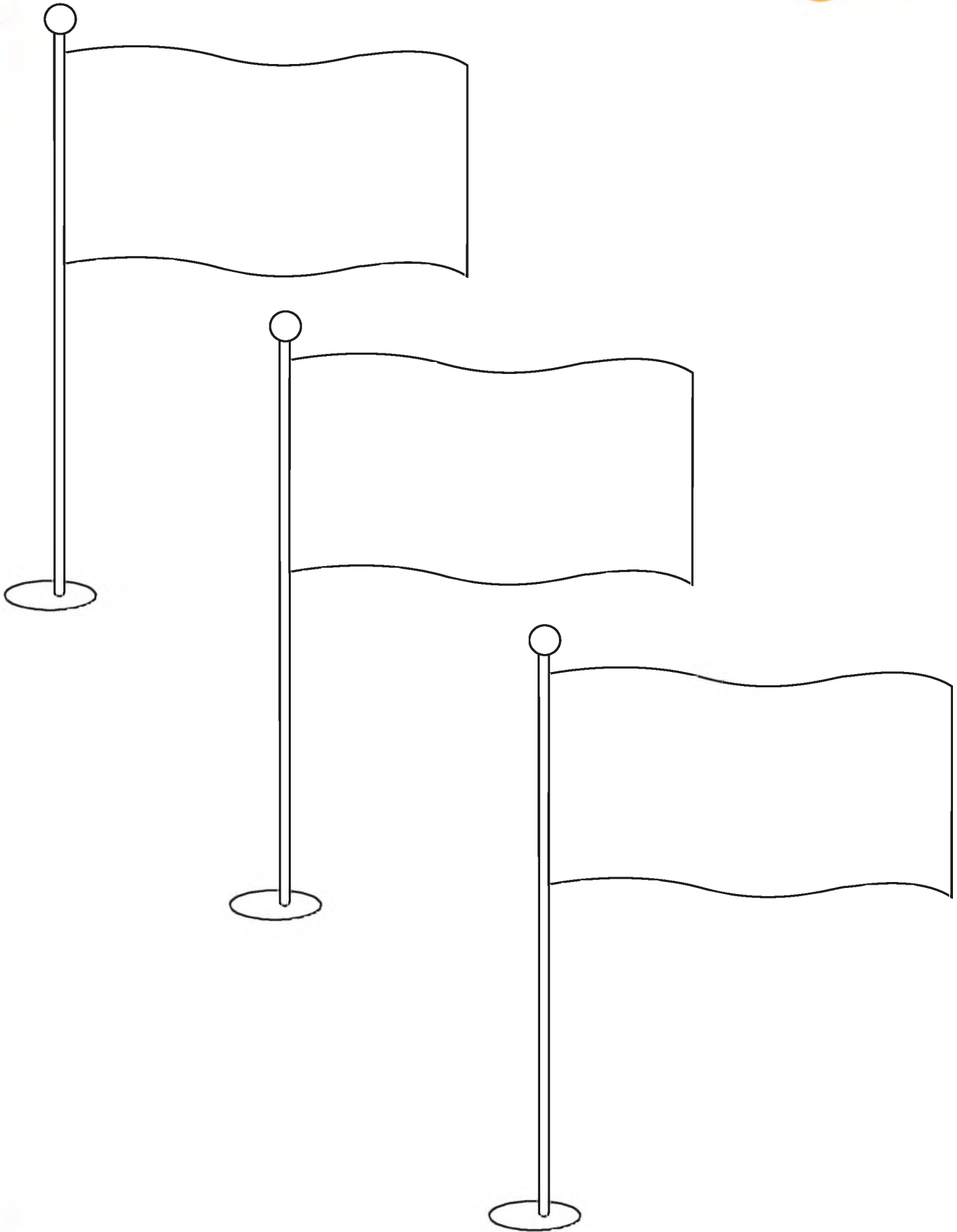
نشاط : ٢ اكتب رسائل تعبر فيها عن مشاعرك تجاه كل من :

١ - الشهيد .

٢ - دولة شقيقة أو صديقة ساعدت الكويت على التحرير .

ارسم أو الصق صوراً لأعلام بعض الدول التي ساعدت الكويت في محنتها .

نشاط : ٣



التحرير وشمس الحرية

أقرأ وأتعلّم :

إنه في الساعة الثانية من فجر الخميس ١٧ يناير ١٩٩١م قامت القوات المتحالفة بقصف أهداف عسكرية داخل العراق والكويت بوساطة الطائرات الحربية ، وبذلك بدأت الحرب الجوية والتي استمرت حتى ٢٤ من فبراير ١٩٩١م حيث بدأ الهجوم البري الكاسح ضد قوات العدو تسانده القوات المقاتلة ، وهكذا حدث التحرير في ٢٦ فبراير ١٩٩١م ، وتم إنهاء كل أشكال الدمار من خلال تعاون أبناء الكويت لإعادة إعمار بلادنا الحبيبة .

التحرير



- المشاركة بقوات عسكرية .
- استخدام مطارات دول الخليج العسكرية .
- استدعاء القوات الخليجية للانطلاق من أراضيها لتحرير دولة الكويت ، وقد كان للمملكة العربية السعودية ودول الخليج دور كبير في هذا التحرير .

الموقف
الخليجي



- إرسال قوات عربية وإسلامية مشتركة للمشاركة في التحرير ، وقد كان للقوات المصرية والسورية دور بارز في حرب التحرير .

الموقف
العربي
والإسلامي



- تحالف العديد من دول العالم لنصرة الحق الكويتي والمساهمة بقوات عسكرية من مشاة وطيران .
- وقد كان للولايات المتحدة الأمريكية دور بارز في حرب تحرير دولة الكويت .

موقف
دول
العالم

نشاط : ١ أكمل العبارات التالية بما يناسبها :

- ١- الهجوم الجوي بدأ في تاريخ يناير إلى تاريخ فبراير .
- ٢- الهجوم البري بدأ في يوم لإنهاء الغزو الذي دام سبعة أشهر في يوم واحد .

٢ نشاط : ٢ تتبع سير القوات البرية على الخريطة لتتعرف خطة تحرير دولة الكويت والتي خرجت من الأراضي السعودية وحاصرت قوات النظام العراقي البائد بالقرب من الحدود الكويتية - العراقية ، ثم قم بتحليل الخريطة شفها أمام زملائك .

هل تعلم أن :

دخول قوات التحرير وجنسياتها

القوات الكويتية والسعودية

القوات العربية المشتركة

القوات الجوية الأمريكية

مشاة ومدركات أمريكية

مشاة البحرية الأمريكية

القوات الفرنسية

مطارات وقواعد جوية

القوات البحرية الأمريكية



حرب تحرير
دولة الكويت
تعدّ أول حرب
إلكترونية في
العالم .

نشاط : ٣ اكتب تعليقاً مناسباً للصورة الآتية .



.....

.....

.....

.....

.....

.....

.....

.....

.....

.....

.....

.....

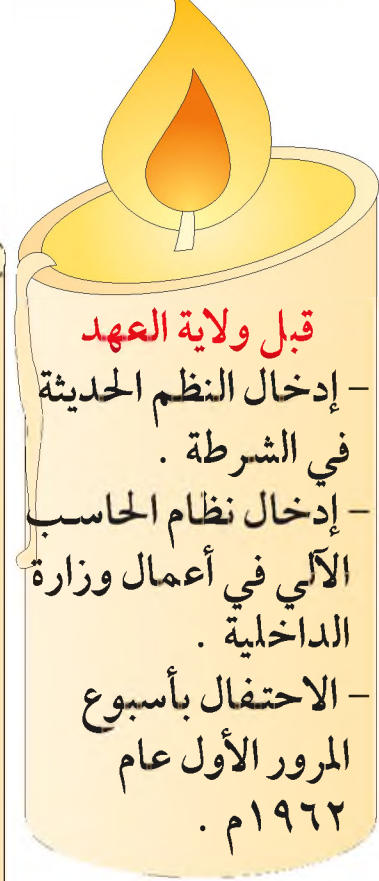


٥ - الشيخ سعد عبدالله السالم الصباح الأمير الوالد

الحاكم الرابع عشر لدولة الكويت

أقرأ وأتعلّم :

تولى الحكم بعد وفاة الشيخ جابر الأحمد الصباح ، ونظراً لظروفه الصحية لم يكمل المسيرة ولقب بالأمير الوالد ، وقد كانت أعماله **شموعاً مضيئةً** في تاريخ دولة الكويت .



نشاط : ١ أكمل العبارات الآتية :

١ - الحاكم الرابع عشر لدولة الكويت هو الشيخ

٢ - لم يكمل الشيخ سعد العبدالله الصباح مسيرته في الحكم بسبب

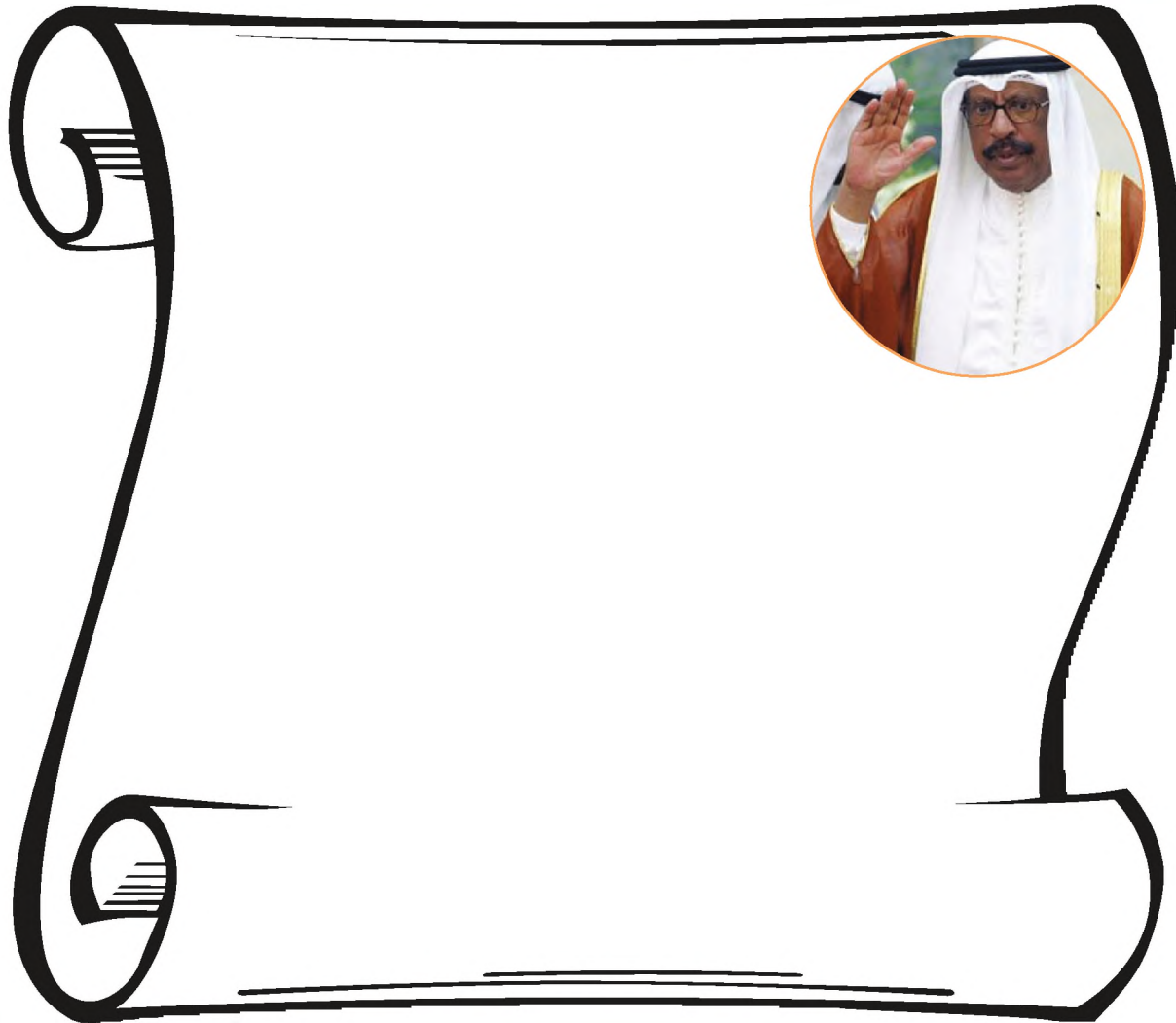
نشاط : ٢ اكتب ثلاثة أعمال قام بها الشيخ سعد العبدالله الصباح أثناء احتلال النظام العراقي البائد لدولة الكويت :

١ -

٢ -

٣ -

نشاط : ٢ اكتب رسالة وفاء إلى الأمير الوالد الشيخ سعد العبدالله الصباح معبراً عن حب الكويت له .





٦ - الشيخ صباح الأحمد الصباح الأمير القائد

الحاكم الخامس عشر لدولة الكويت

- الاسم : الشيخ صباح الأحمد الجابر المبارك الصباح
- الميلاد : ١٩٢٨ - الكويت
- تلقى تعليمه في مدارس الكويت
- تدرج في المناصب القيادية منذ بداية حياته العملية إلا أن وزارة الخارجية التي تولاهام عام ١٩٦٣ ارتبطت بسموه لسنوات عديدة حتى تولى الحكم .
- أصبح سمو الشيخ صباح الأحمد الجابر أميراً لدولة الكويت في ٢٩ / ١ / ٢٠٠٦ م
- لقد كان له دور كبير في جعل سياسة الكويت الخارجية مدرسة جديدة في فن الدبلوماسية التي تقوم على نكران الذات والنظر إلى المصلحة العامة قبل المصلحة المحلية أو الإقليمية .
- كان له دور فعال أثناء غزو النظام العراقي البائد على دولة الكويت ، حيث حصل على تأييد دولي لم يسبق له مثيل بعد كشفه للممارسات الوحشية التي قام بها النظام العراقي البائد ، والذي من نتيجته أن أصدر مجلس الأمن عدة قرارات ساعدت على تحرير الوطن وطرده المعتدي من الأراضي الكويتية .



- من أهم الأحداث في عهده ممارسة المرأة الكويتية حق الانتخاب والترشيح لعضوية مجلس الأمة والمجلس البلدي .
- اختير صاحب السمو الشيخ صباح الأحمد الجابر

- الصباح من قبل هيئة الأمم المتحدة (قائداً للعمل الإنساني) في ٩ سبتمبر ٢٠١٤ م .
- بمبادرة سامية من حضرة صاحب السمو الشيخ صباح الأحمد الجابر الصباح أنشئ مركز صباح الأحمد للموهبة والإبداع في مايو ٢٠١٠ م ، ويقوم هذا المركز باكتشاف ورعاية المتميزين والموهوبين والمبدعين من أبناء دولة الكويت .
- ما زالت جهود سموه مستمرة في دفع عجلة التنمية والبناء في كافة المجالات بدولة الكويت الحبيبة .

نشاط : ١ اكتب ٣ إنجازات أخرى للشيخ صباح الأحمد الجابر الصباح .

نشاط : ٢ اكتب رسالة حب وتقدير لأمير دولة الكويت الشيخ صباح الأحمد الجابر الصباح .



نشاط : ٣ اكتب تعليقاً مناسباً تحت كل صورة .



.....

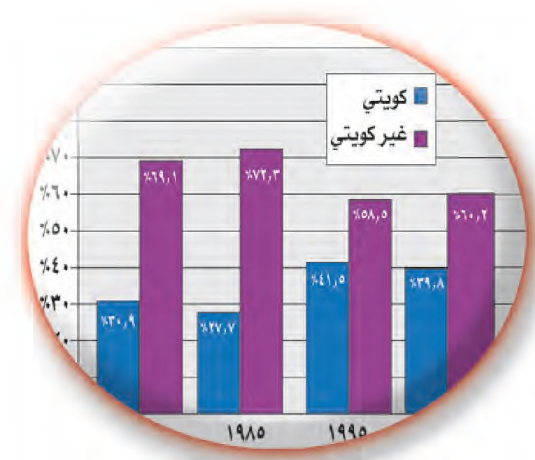

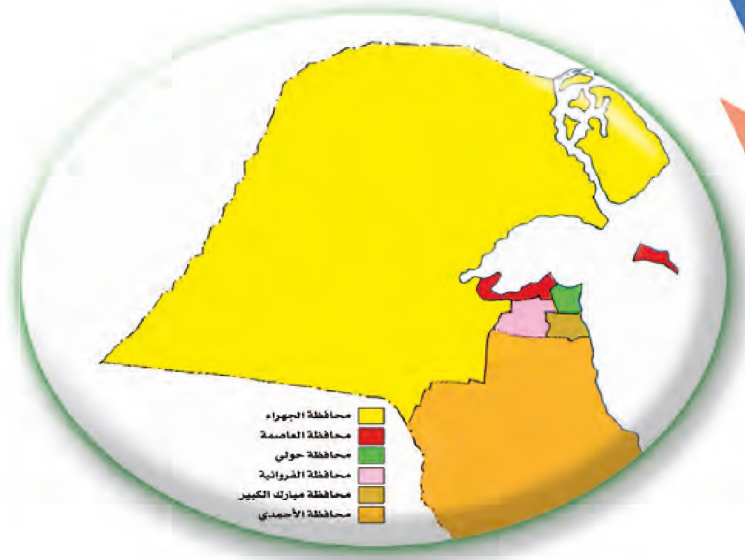


.....



.....





السكان

الوحدة السادسة

١ - السكان في بلادي (١) .

٢ - السكان في بلادي (٢) .

١ - السكان في بلادي (١)

أتذكر أن :

عدد سكان الدولة يزداد من عام إلى آخر بسبب الزيادة الطبيعية (عدد المواليد - عدد الوفيات) والزيادة غير الطبيعية (وتكون بسبب الهجرة).

أقرأ وأناقش :

إن عدد سكان دولة الكويت يتزايد بصورة مستمرة (انظر شكل ١) وقد ساعدت على هذه الزيادة عدة أسباب هي :

أسباب الزيادة غير الطبيعية

- ١- حاجة الكويت للتخصصات الفنية غير المتوافرة في الكويت .
- ٢- توافر فرص العمل بأجور عالية .
- ٣- الأمن والاستقرار الذي تميزت به دولة الكويت .
- ٤- السماح للموافدين باصطحاب عائلاتهم .

أسباب الزيادة الطبيعية

- ١- زيادة الخدمات الصحية .
- ٢- تشجيع الدولة للزيادة الطبيعية (المواليد) .

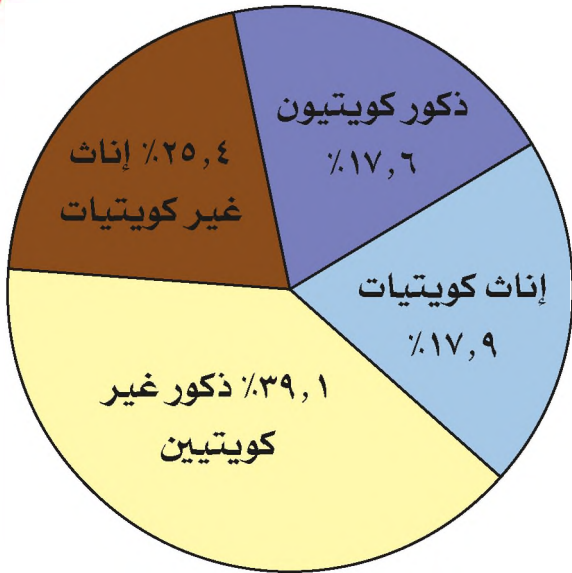


شكل (١)

التوزيع النسبي للسكان حسب الجنسية في سنوات التعداد ١٩٦٥م - ٢٠١١م

نشاط : ١ استخلص حقيقتين من الرسم البياني السابق .

أنظر وأتعلم :



يفوق عدد الذكور عدد الإناث في دولة الكويت لأن معظم الأيدي العاملة الوافدة (غير الكويتية) من الذكور كما هو موضح في الشكل رقم (٢) .

شكل رقم (٢)*

التوزيع النسبي للسكان حسب الجنسية والنوع وفقاً للنتائج الأولية لتعداد السكان لعام ٢٠١١ م

نشاط : ٢ قم بتحليل الدائرة البيانية في شكل رقم (٢) بالإجابة عن الأسئلة التالية :

- ١- نسبة عدد الذكور الكويتيين ونسبة عدد الإناث الكويتيات
- ٢- أيهما أعلى نسبة : الذكور أم الإناث عند الكويتيين؟
- ٣- نسبة عدد الذكور غير الكويتيين ونسبة عدد الإناث غير الكويتيات
- ٤- علل زيادة عدد الذكور غير الكويتيين عن الإناث غير الكويتيات .

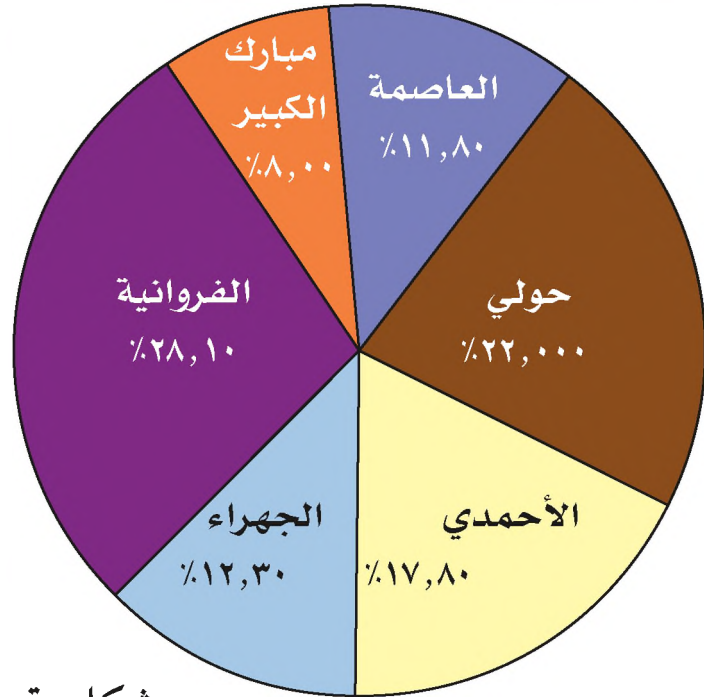
نشاط : ٣ قم بتحويل الدائرة البيانية في شكل رقم (٢) إلى جدول حسب البيانات الموضحة عليها .

* شكل (٢) المجموعة الإحصائية السنوية ٢٠١٣ م العدد الخمسون .

٢ - السكان في بلادي (٢)

أقرأ وأتعلّم :

بالرغم من صغر مساحة دولة الكويت إلا أن توزيع السكان يختلف من منطقة إلى أخرى ومن محافظة إلى أخرى ، انظر شكل رقم (٣) . فهناك مناطق تعد الكثافة السكانية فيها عالية خاصة المناطق التي تقع على الشريط الساحلي جنوب جون الكويت .



$$\frac{\text{عدد السكان}}{\text{مساحة الدولة}} = \text{الكثافة السكانية}$$

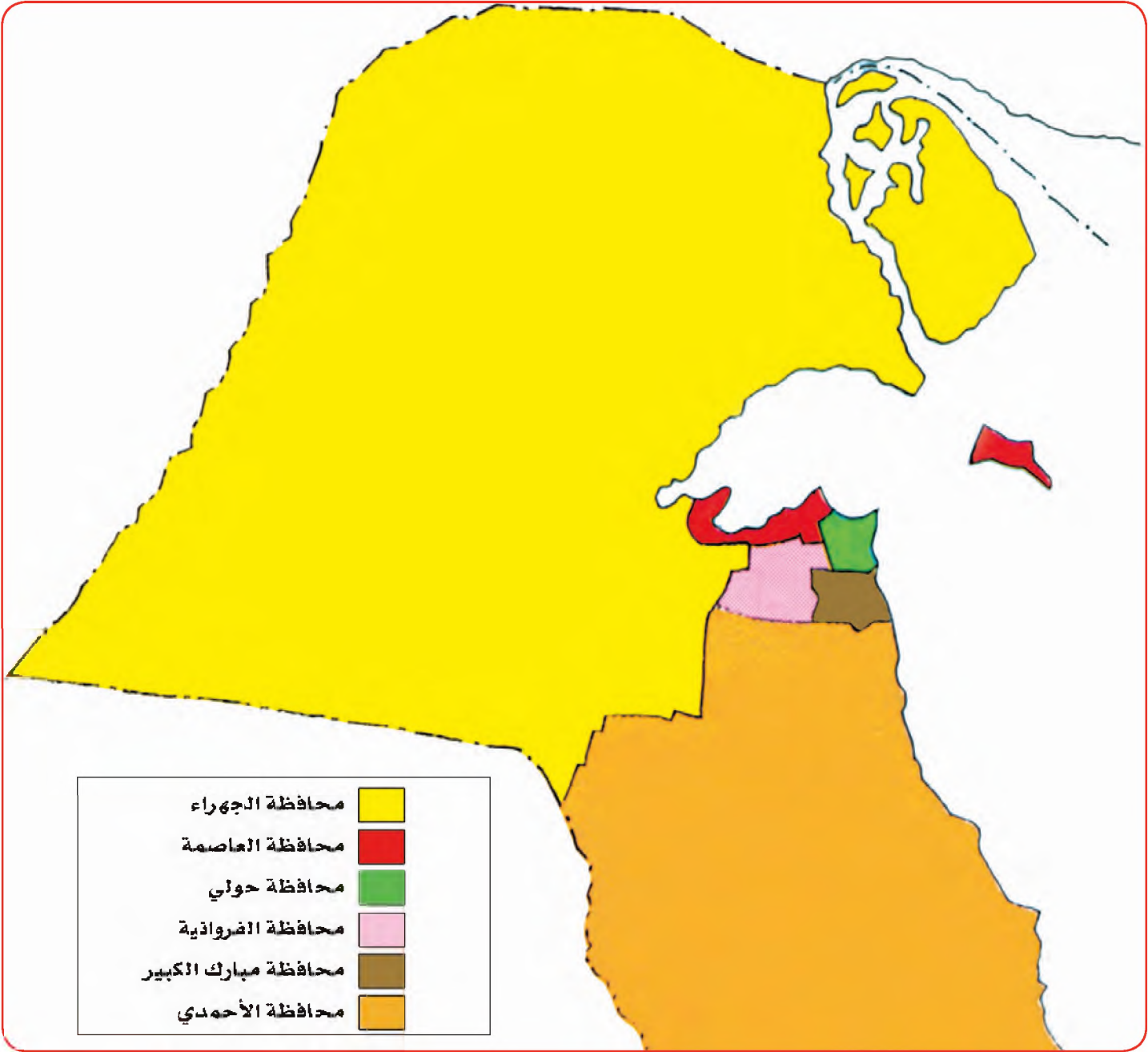
شكل رقم (٣)

التوزيع النسبي للسكان حسب المحافظة وفقاً لنتائج تعداد السكان لعام ٢٠٠٥ م

نشاط : ١ قم بتحليل الدائرة البيانية في شكل رقم (٣) ثم أجب عن الآتي :

- ١- ما اسم أكثر المحافظات الكويتية سكاناً؟
- ٢- ما اسم أقل المحافظات الكويتية سكاناً؟
- ٣- رتب المحافظات ترتيباً تنازلياً حسب نسبة السكان :

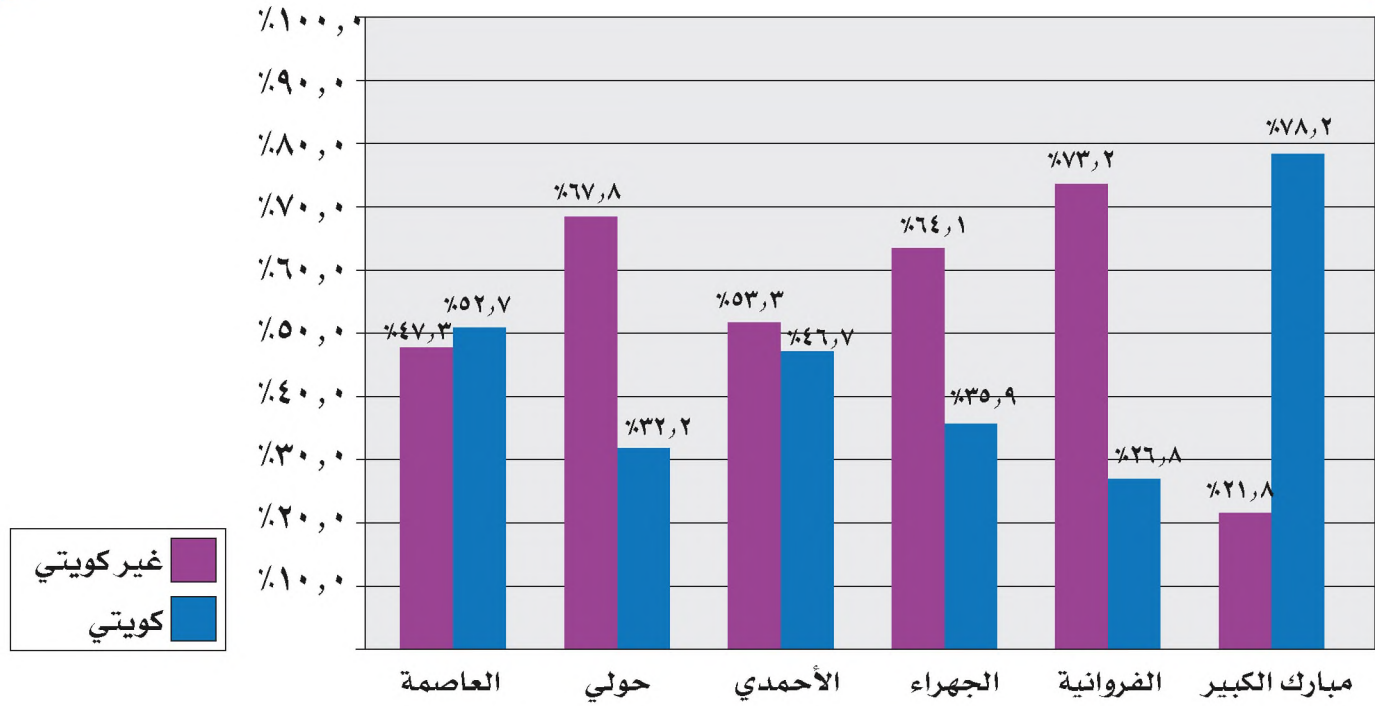
نشاط : ٢
اكتب على خريطة دولة الكويت التالية نسبة السكان في كل محافظة ، مستعيناً
بالدائرة البيانية السابقة .



خريطة محافظات دولة الكويت

لاحظ الشكل البياني الآتي وأجب عن الأسئلة التي تليه :

نشاط : ٣



شكل رقم (٤)

التوزيع النسبي للسكان حسب الجنسية بكل محافظة وفقاً للنتائج الأولية لتعداد السكان لعام ٢٠٠٥م

١- ما أكثر محافظة يزيد فيها عدد السكان الكويتيين على عدد السكان غير الكويتيين؟

٢- ما أقل محافظة يقل فيها عدد السكان الكويتيين عن عدد السكان غير الكويتيين؟

٣- اكتب حقيقة تستنتجها من الشكل البياني السابق .

٤- علل زيادة نسبة غير الكويتيين في كل من محافظتي الفروانية وحوالي .

هل تعلم أنه :

ترتب على زيادة عدد السكان وخاصة الزيادة غير الطبيعية مجموعة من المشكلات مثل الضغط على الخدمات التي توفرها الدولة للمواطنين ، لأن السكان بحاجة إلى :

- ١- تأمين الغذاء والماء .

- ٢- توفير الخدمات العامة كالتعليم والعلاج وخدمات الكهرباء .

- ٣- توفير الخدمات الأمنية والرعاية الاجتماعية .

أقرأ وأتعلم :

تعدُّ دولة الكويت من الدول قليلة السكان مقارنة بسكان الدول الأخرى ، فهناك دول يفوق عدد سكانها مئات المرات سكان دولة الكويت كما هو موضح في الجدول الآتي حسب إحصاء سنة ٢٠٠٦ م .

اسم الدولة العربية	عدد السكان (نسمة)
جمهورية مصر العربية	٧٤,٧١٨,٧٩٧
جمهورية السودان	٣٨,١١٤,١٦٠
المملكة العربية السعودية	٢٤,٢٩٣,٨٤٤
دولة الكويت	٢,٢١٣,٤٠٣

نشاط : ٤ أكمل العبارات التالية بما يناسبها :

١- تُعدُّ دولة الكويت من الدول السكان (قليلة - كثيرة) .

.....

٢- الكثافة السكانية = _____

.....

٣- يتركز سكان دولة الكويت على الجنوبي لكون الكويت .



الموارد

الوحدة
السابعة

١- موارد بلادي حديثاً (١) .

٢- موارد بلادي حديثاً (٢) .

١ - موارد بلادي حديثاً (١)

أقرأ ، وأتعلّم :

يعتمد الدخل في دولة الكويت اعتماداً رئيسياً على النفط والغاز الطبيعي ، فإننتاجها يختلف من عام لآخر ، حيث يشكل النفط ومنتجاته البتروكيماوية والأسمدة ما يزيد على ٩٤٪ من مجموع قيمة الصادرات الكويتية أما ٦٪ موزعة على قطاعاتها الأخرى كالزراعة والتجارة والصناعة والثروة الحيوانية .

١ - القطاع النفطي :

يُعدُّ النفط المصدر الرئيسي للدخل في دولة الكويت ، وقد حرصت الدولة على قيام وتطوير الصناعات النفطية في بلادنا ، وتصدر دولة الكويت النفط إلى دول عديدة كما تحتفظ باحتياطي يقارب ١٥٪ من احتياطي النفط بالنسبة للدول العربية ، وقد حرصت دولة الكويت على استثمار وتوظيف الفائض من الأموال العائدة من تصدير النفط في الدول الأوروبية والولايات المتحدة الأمريكية وبعض الدول الآسيوية كاحتياطي للأجيال القادمة ، حيث تحقق دخلاً إضافياً لدولة الكويت ، وقد برزت أهمية هذه الاستثمارات أثناء احتلال النظام العراقي البائد لدولة الكويت ، حيث تم صرف جزء من هذه الأموال على المواطنين الكويتيين داخل و خارج البلاد وعلى العمليات العسكرية الخاصة بتحرير دولة الكويت وإعادة إعمارها .

أستنتج أن : الاستثمار هو توظيف الفائض من الأموال الناتج عن زيادة دخل الدولة

هل تعلم أن :

دولة الكويت حرصت على تنوع مصادر الدخل بها مثل :

الثروة السمكية



النفط والغاز الطبيعي



الثروة الحيوانية



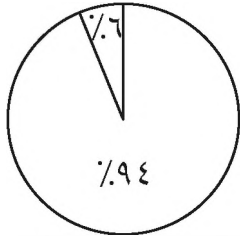
الزراعة



الصناعات النفطية

بعد مشاهدتك للوحة السابقة عدد مصادر الدخل بدولة الكويت حديثاً :

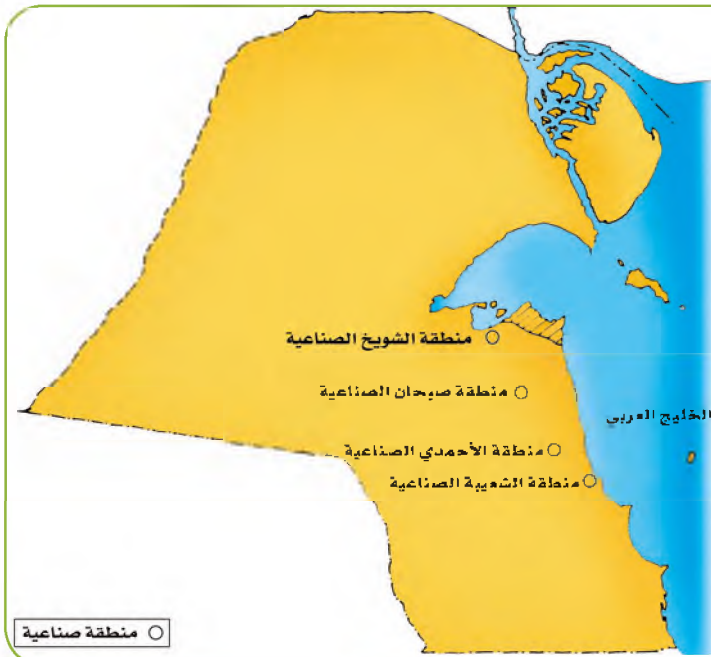
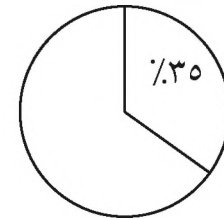
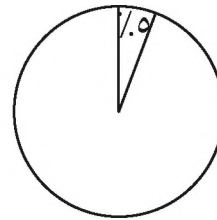
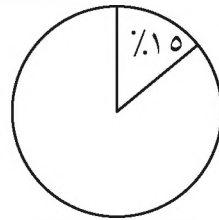
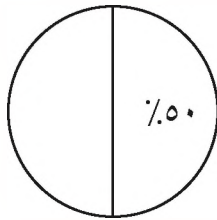
نشاط : ١



أ - لوّن بالدائرة البيانية الآتية ما يمثل نسبة اعتماد دولة الكويت على النفط باللون الأزرق .

نشاط : ٢

ب - لوّن بالدائرة البيانية الجزء الذي يمثل احتياطي النفط بدولة الكويت بالنسبة للدول العربية .



٢ - القطاع الصناعي :

اهتمت دولة الكويت بتنوع موارد الدخل لخطورة الاعتماد على مورد واحد وهو النفط ، ففي القطاع الصناعي تم إنشاء العديد من الصناعات التي تعتمد على النفط (البتروكيماويات) أو الصناعات غير النفطية مثل الصناعات الإنشائية والاستهلاكية والغذائية ، وكان للدولة جهود واضحة في تشجيع القطاع الصناعي عن طريق إقامة المناطق الصناعية وتقديم القروض وإعفاء الآلات الصناعية من الرسوم الجمركية وإقامة معاهد للتدريب الصناعي .

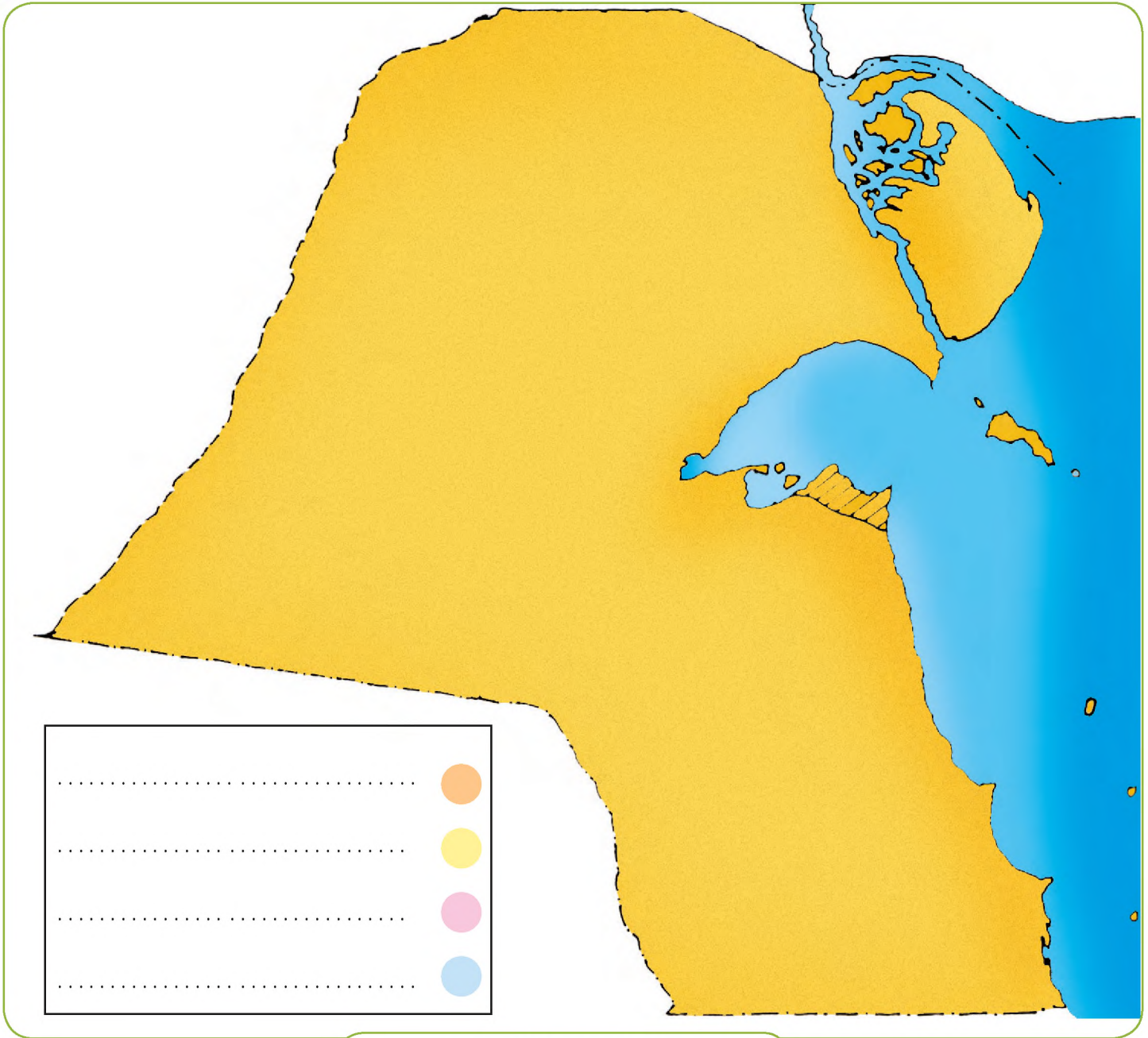
من خلال زيارتك للجمعية التعاونية في منطقتك اذكر بعضاً من الصناعات الكويتية حسب الجدول الآتي :

نشاط : ٣

صناعات إنشائية	صناعات بتر وكيمائية	صناعات غذائية	صناعات استهلاكية

نشاط : ٤ اقرأ الجدول ثم وزع على الخريطة الآتية المناطق الصناعية ببلاذك .

أهم الصناعات التي توجد فيها	المنطقة الصناعية
المعكرونة - البسكويت - المنظفات - الأثاث - الملح - الكلورين - الصناعات المرتبطة بإصلاح السيارات	١ - الشويخ
الأسمدة الكيماوية - تكرير النفط - إسالة الغاز	٢ - الشعبية
البلاط (الكاشي) - الورق - المرطبات - الألمنيوم	٣ - صبيحان
البلاط (الكاشي) - الألمنيوم	٤ - الأحمدى



خريطة المناطق الصناعية

عدد جهود الدولة في تشجيع القطاع الصناعي .

نشاط : ٥

- ١ -
- ٢ -
- ٣ -



٢ - موارد بلادي حديثاً (٢)

٣ - القطاع الزراعي :

كانت الظروف والعوامل الطبيعية عائقاً أمام الزراعة بدولة الكويت ، وذلك بسبب فقر التربة وقلة المياه وشدة الحرارة ، وبالرغم من هذه الصعوبات فإن الدولة بذلت جهوداً كبيرة في تشجيع الزراعة في الوقت الحاضر ، مثل إنشاء هيئات متخصصة في الزراعة (محطة التجارب الزراعية - ومعهد الكويت للأبحاث العلمية) كما ساهمت بتقديم الإرشادات الزراعية والدعم المادي للمزارعين والتشجيع على استخدام الأساليب الحديثة في الزراعة وتطوير مصادر المياه المستخدمة .

الزراعة المحمية

هي زراعة الخضروات في غير مواسمها بحمايتها من تقلبات الطقس وذلك في بيوت بلاستيكية .

ما هي معوقات الزراعة في دولة الكويت؟

١ : نشاط

كيف تغلبت بلادك على المعوقات الزراعية؟

٢ : نشاط

الزراعة بدون تربة

هي الزراعة التي تتم في بيئة من الرمل أو الحصى أو نشارة الخشب مضافاً إليها المحاليل الغذائية .

اقرأ الخريطة الآتية ثم صنف في الجدول بعض المناطق الزراعية القديمة والحديثة .

٣ : نشاط

مناطق زراعية حديثة

مناطق زراعية قديمة
(قبل النفط)



لماذا نجحت
زراعة الفراولة
بدولة الكويت؟

٤ - قطاع الثروة الحيوانية والألبان والدواجن

لقد ضعفت حرفة الرعي السائدة بالبلاد بعد اكتشاف النفط وتحولت إلى أسلوب متطور لتنمية الثروة الحيوانية ، حيث شجعت الدولة على تربية هذه الثروة الحيوانية في مزارع خاصة ووفرت لها الرعاية البيطرية والدعم المادي والأعلاف بأسعار رمزية . ومن أهم مناطق تربيتها (الصليبية - الشقايا - الوفرة) ، وكان لهذا التطور الكبير في الإنتاج الحيواني دور في سد جزء كبير من حاجة البلاد من الغذاء وخاصة البيض واللحوم ومنتجات الألبان .

شاهد الصور ثم استخراج منها فوائد الثروة الحيوانية .

نشاط : ٤



اذكر جهود دولة الكويت في تنمية الثروة الحيوانية .


٥ - الثروة السمكية

كان لفقر البيئة الصحراوية أثره الكبير في الاعتماد على السمك كغذاء رئيسي وهو متوافر في مياه الخليج العربي ، حيث يمتاز بوفرتة وبجودة أنواعه ، وكان الكويتيون يستخدمون طرق صيد قديمة كالحظرة والقرقور ، ومن ثم شجعت الدولة هذه الحرفة وطورتها حيث كونت أسطولا من السفن الحديثة المتخصصة في صيدها ، وقد قطع معهد الكويت للأبحاث العلمية شوطاً كبيراً في مجال استزراع بعض الأنواع الجيدة من الأسماك .

١- اذكر أشهر أنواع السمك في مياه الخليج العربي .

نشاط : ٥

٢- عدد جهود الحكومة الكويتية في تنمية الثروة السمكية بالبلاد .



الخدمات

الوحدة
الثامنة

١ - من مؤسسات بلادي (١) .

٢ - من هيئات بلادي (٢) .

١ - من مؤسسات بلادي

أقرأ وأتعلّم :

تسعى حكومة دولة الكويت من خلال وزارتها إلى تقديم جميع إمكانياتها لتوفير الحياة الكريمة لجميع سكان دولة الكويت .
وقد اهتمت الدولة بإصدار قوانين لإنشاء مؤسسات وهيئات ذات طابع مستقل تهدف إلى العمل للصالح العام للدولة والمواطنين .



١- مؤسسة الموانئ الكويتية :
هي مؤسسة مستقلة تتولى إدارة وتشغيل وتطوير الموانئ التجارية .
ومن هذه الموانئ :
١- ميناء الشويخ
٢- ميناء الشعبية
٣- ميناء الدوحة



ميناء الشعبية

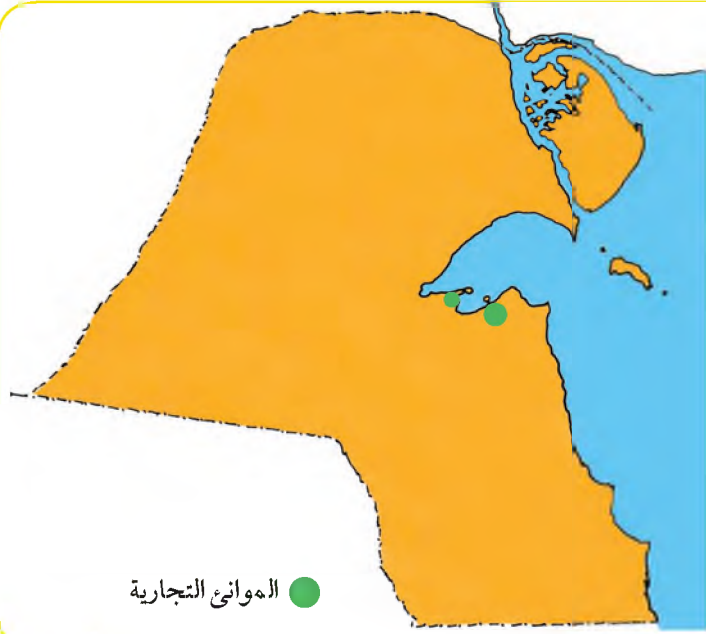
يقع جنوب مدينة الكويت ويتميز بتصدير منتجات النفط الصناعية (لماذا)؟



ميناء الشويخ

أول ميناء تجاري ١٩٦٠ وأكبرها حيث يضم ٢١ مرسى للسفن و ٢٥ مستودعا

نشاط : ١



١- أيهما أقل كلفة النقل الجوي أم النقل البحري؟
ولماذا؟

٢- اكتب أسماء الموانئ التجارية في دولة الكويت
على الخريطة مستعيناً بمعلمك .

خريطة الموانئ التجارية في دولة الكويت



٢- مؤسسة البترول الكويتية :

الشركات التابعة لها :



هي المسؤولة عن
استكشاف النفط
وإنتاجه داخل دولة
الكويت .

١- شركة نفط الكويت



تقوم بعمليات
تصنيع وتسويق
الأسمدة والمنتجات
البتروكيماوية

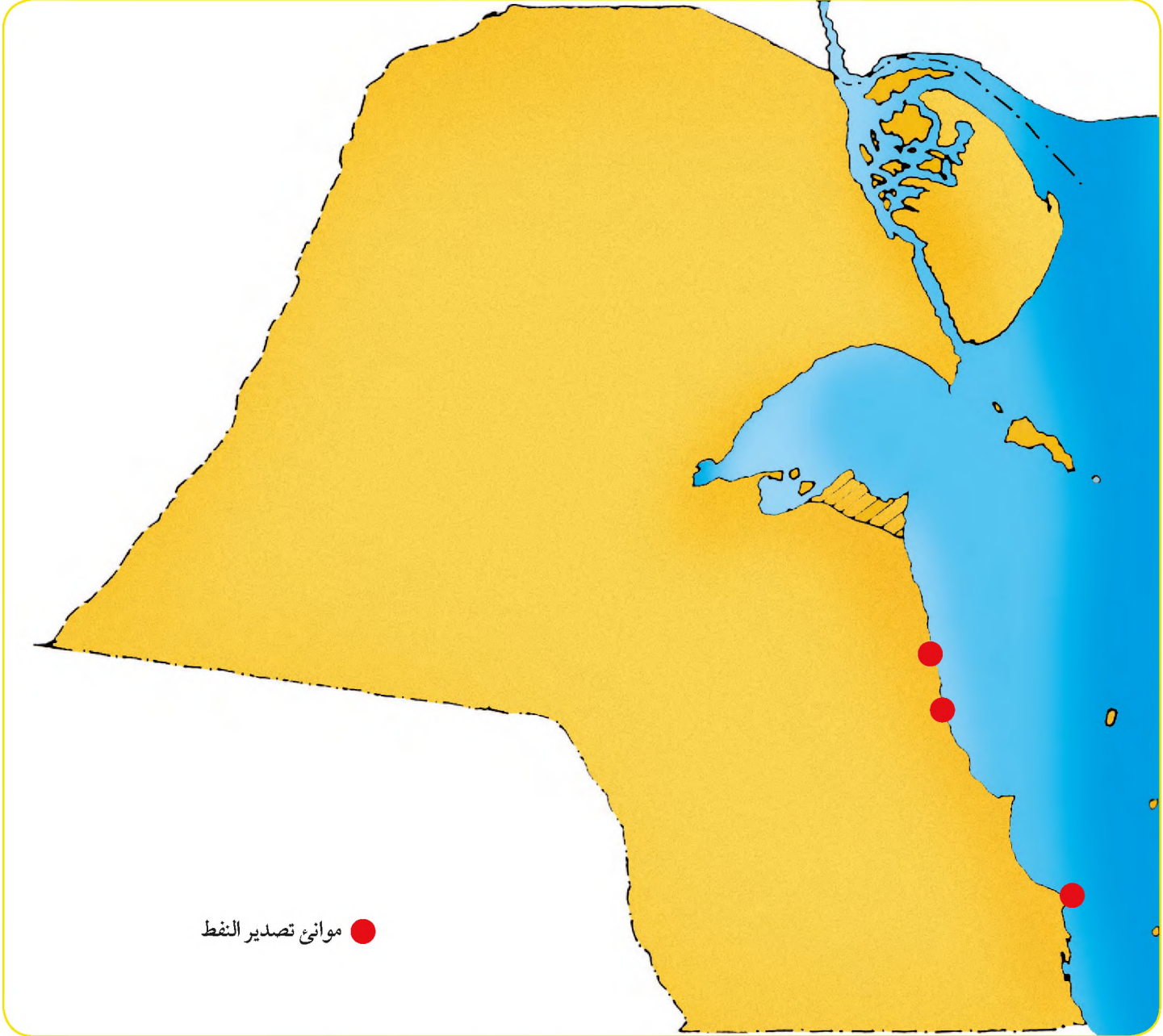
٢- شركة صناعة
الكيمائيات البترولية



وهي مسؤولة عن
عمليات نقل النفط الخام
والمنتجات البترولية
والغاز المسال إلى مختلف
أنحاء العالم .

٣- شركة ناقلات النفط
الكويتية

نشاط : ٢ على خريطة الكويت الصماء : اكتب مع معلمك أسماء ثلاثة موانئ لتصدير النفط .



خريطة الموانئ النفطية في دولة الكويت

١- من الشكل الذي أمامك ، كم شركة تنتمي إلى مؤسسة البترول الكويتية؟

٢- اكتب أسماء اثنتين منها .

-١

-٢



٢ - من هيئات بلادي

١- الهيئة العامة للصناعة :



تُعَدُّ الصناعة في الحاضر من أهم اهتمامات دول العالم لما لها من أثر مهم على المستوى الحضاري والإقتصادي للدول ، والكويت أولت اهتماماً كبيراً بالصناعة .

أهم أهداف الهيئة العامة للصناعة :

- ١- تطوير الصناعة المحلية .
- ٢- تشجيع العمالة الوطنية .
- ٣- تنويع الصناعات المحلية .

٢- الهيئة العامة للبيئة :



من أهدافها حماية البيئة من التلوث والمحافظة على البيئة الطبيعية ، كما تحمى من الآثار السلبية لاستخدام التكنولوجيا على الإنسان وعلى البيئة والاستفادة منها .

٣- الهيئة العامة للشباب والرياضة :



هدفها بناء الشباب الكويتي روحاً وجسداً ، ويشرف عليها وزير الشؤون الاجتماعية والعمل ، كما تسهم في إبراز الوجه الحضاري محلياً ودولياً في مجال الشباب والرياضة ، وتدريبهم وإعدادهم للإسهام في مختلف الخدمات العامة وتنظيم المهرجانات والمسابقات ، كما تتولى مسؤولية قسم الجواله والمعسكرات وبيوت الشباب ومراكز الشباب .

حدد اسم الهيئة التي تشرف على الأنشطة التالية :

نشاط : ١



.....



.....



.....

صنف الأهداف التالية حسب الهيئات في الجدول التالي : بناء الشباب الكويتي
روحاً وجسداً - حماية البيئة من التلوث - تشجيع العمالة الوطنية - تنوع
الصناعات المحلية - تنظيم المهرجانات والمسابقات - المحافظة على البيئة
الطبيعية .

نشاط : ٢

الهيئة العامة للبيئة

الهيئة العامة للشباب
والرياضة

الهيئة العامة للصناعة



المعالم

الوحدة
التاسعة

- السياحة الداخلية والخارجية .



السياحة الداخلية والخارجية

السياحة هي انتقال الإنسان من مكان إلى آخر لفترة معينة ولغرض معين مثل (الاستمتاع - الراحة - المعرفة) ، ويمكن أن تكون داخل البلاد أو خارجها وذلك خلال العطلات والإجازات العامة للدولة ، وهي في الوقت الحاضر تشكل موردا هاما من موارد الدولة وتسمى (صناعة القرن الحادي والعشرين) .

أين يمكن أن تذهب في العطلة الصيفية؟

فكر :

السياحة الداخلية :

أنا عبدالله . . .
سأستمتع بزيارة الأماكن السياحية في دولة الكويت مثل
المجمعات التجارية والأماكن الترفيهية والحدائق العامة .
المركز العلمي - الموروث الشعبي .



أنا سلمان . .
سأذهب لمنتزه الخيران واستمتع بالنشاطات البحرية وصيد الأسماك



وأود أن أتعلم تاريخ بلادي
وأنمي معلوماتي العلمية من خلال زيارة المتاحف الشعبية والعلمية
والتاريخية



السياحة الخارجية :

أنا سعد . .
سأسافر إلى إحدى الدول العربية ثم أتوجه إلى دولة أوروبية لنستمتع
بجوها الجميل ونطلع على ثقافة شعبها



هل تعلم أنه :

للسفر خمس فوائد؟

وعلم وآداب وصحبة ماجد

تفريغ هم واكتساب معيشة

نشاط : ١

السياحة هي :

من الأماكن السياحية في دولة الكويت و و

نشاط : ٢

من خلال ما تعلمته من الدرس اذكر فوائد السياحة الداخلية والخارجية .

فوائدها	نوع السياحة
.....	سياحة داخلية
.....	سياحة خارجية

نشاط : ٣

كيف تشجع السياحة في بلادنا الكويت؟

نشاط : ٤

اكتب أسماء دولٍ أخرى تتمنى السفر إليها .

--	--	--	--

- ١- معهد الكويت للأبحاث العلمية .
(الغطاء النباتي في الكويت - التصحر وتدهور الأراضي في دولة الكويت - البيئة في دولة الكويت) .
- ٢- كتاب الحياة في الصحراء - الركن الأخضر - المجموعة الثقافية المصرية .
- ٣- كتاب الشيخ صباح السالم الصباح - سيرة شخصية سياسية ، تأليف روبرت جيرمن - مركز لندن للدراسات العربية ٢٠٠٢ م .
- ٤- تاريخ الكويت الحديث - للدكتور أحمد أبو حاكمة - منشورات ذات السلاسل - ١٩٨٤ م .
- ٥- الكويت حقائق وأرقام - وزارة الإعلام - الإصدار الثامن ٢٠٠١ م .
- ٦- أطلس الكويت الوطني - الإصدار الأول ٢٠٠٢ م .
- ٧- أطلس الكويت القومي .
- ٨- الموسوعة الكويتية المختصرة - تأليف حمد محمد السعيدان .
- ٩- موسوعة الكويت العلمية للأطفال - مؤسسة الكويت للتقدم العلمي .
- ١٠- الجغرافية التاريخية للكويت - الدكتور محمد رشيد الفيل .
- ١١- الأطلس الجغرافي الوطني العربي والعالم - محمود عصام الميداني - دار دمشق للنشر والتوزيع والطباعة .
- ١٢- الأطلس الجغرافي والتاريخ ، تأليف د . أمل يوسف العذبي الصباح ص ٥٨ .
- ١٣- سلسلة دليل المعرفة (كوكب الأرض - الجزء الثاني) - دار العلم للملايين .
- ١٤- سلسلة دليل المعرفة (بلدان العالم - الجزء الأول) - دار العلم للملايين .
- ١٥- سلسلة دليل المعرفة (بلدان العالم - الجزء الثاني) - دار العلم للملايين .

- ١٦- حتى لاننسى جريمة العصر - إعداد محمد البرجس - بيت الإعلام - الكويت ١٩٩٣ م .
- ١٧- متحف حتى لاننسى (صور) .
- ١٨- الأطلس المدرسي للمرحلة المتوسطة .
- ١٩- أنماط التغيير في توزيع السكان وكثافتهم في دولة الكويت خلال النصف الثاني من القرن العشرين ، تأليف أ . د أمل يوسف العذبي الصباح ، د . حمدي علي عزت من مركز البحوث والدراسات الكويتية - الكويت - ٢٠٠٤ م .
- ٢٠- الإنترنت : أ- موقع بوابة الكويت الإلكترونية BAWABAH. COM موقع الوزارات (وزارة التخطيط - التعداد السكاني)
- ب- GOOGLE. COM السكان في الوطن العربي - من ويكيبيديا ، الموسوعة الحرة .
- ٢١- كتيب شركة المشروعات السياحية .
- ٢٢- رسومات درس من موارد بلادي قديماً للأستاذة مكية الصايغ .
- ٢٣- صور من مؤسسة البترول الكويتية .



أودع بمكتبة الوزارة بتاريخ ٩ / ٧ / ٢٠٠٧ م تحت رقم (٥٨٣) .